

5. Назовите фамилию изобретателя бытовой швейной машины современной конструкции

- а) психической и физической утомляемости;
- б) интенсивному потоотделению;
- в) усиленной пигментации кожи.

Недостаток витамина С в организме человека в большей степени приводит к:

4. Отметьте правильные ответы.

1	ряженка	A	пряность
2	перепелка	B	орех
3	кешью	B	птица
4	ваниль	T	рыба
5	сайда	II	напиток

3. Установите соответствие между продуктом и его видом.

- а) пшеничная;
- б) пшениная;
- в) овсяная;
- г) гречневая.

Крупа, получаемая из проса:

2. Отметьте правильные ответы.

Как называется продукт, который едят как хлеб и используют как сандвич?

1. Отдайте загалку (1 балл).

1. Теоретический тип (10 баллов)

Время на выполнение – 45 мин.
 Максимальное количество баллов: 15
 10 баллов за тест + 5 баллов творческое задание

5-6 классы

2023 – 2024 учебный год

(школьный этап)

«Культура дома, дизайн и технологии»

ВСЕРОССИЙСКАЯ ОЛИМПИАДА ШКОЛЬНИКОВ ПО ТЕХНОЛОГИИ

Муниципальное образование «Урвский муниципальный округ»

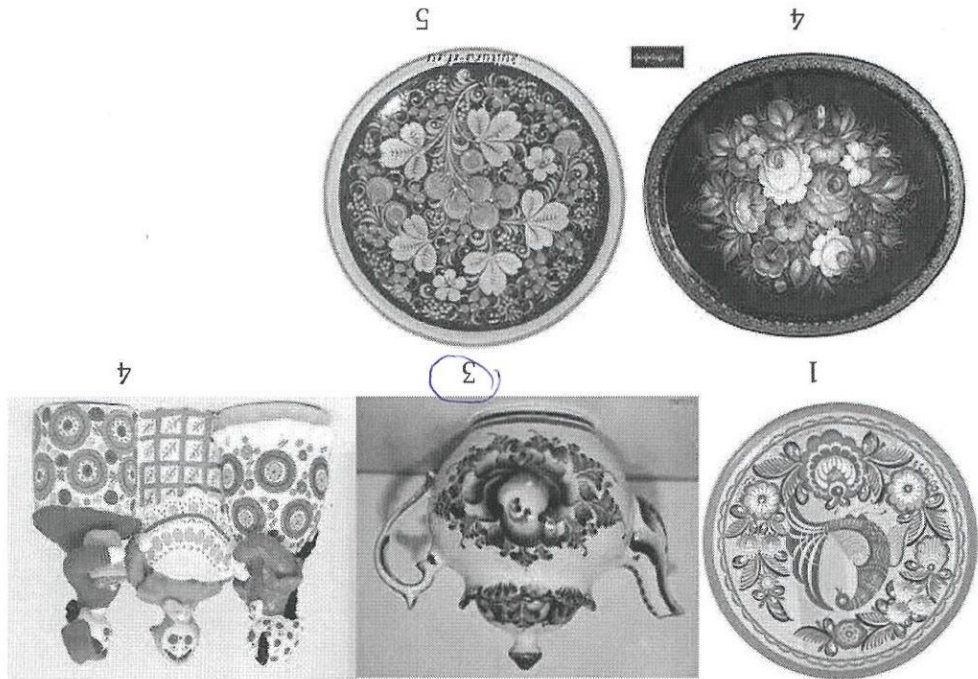
Шифр

Линия отреза

ФИО, класс

Шифр

ТТ-5-12



9. Выберите из предложенных рисунков тот, на котором изображено изделие, выполненное в технике хохломской росписи.

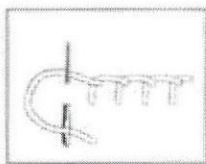
ММ - голтушка

8. Джут, кенаф, лен-долгунец – какая часть этих растений используется для производства волокна?


- а) игла;
- б) наперсток;
- в) сантиметровая лента;
- г) лекало;
- д) ножницы;
- е) резец;
- ж) пальцы.

+


7. Отметьте правильные ответы. К инструментам для вышивания относятся:



Иголка



Ножницы

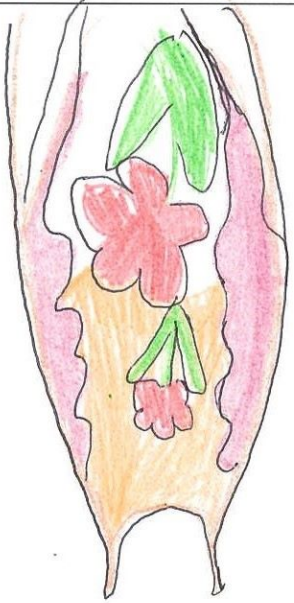


Косыжка

6. Подпишите названия швов, применяемых для вышивки

Косыжка, петля, стежок

58

<p>Модель фарука</p> 	<p>Описание модели</p> <p>Назначение: <i>надевание кофры голландши</i></p> <p>Детали: <i>узелок, ластовица</i></p> <p>Силуэт: <i>свободный</i></p> <p>Ткань: <i>хлопок</i></p> <p>Цвет: <i>оранжево-зеленый в сочетании</i></p> <p>Отделка:</p>
--	---

1. Нарисуйте модель фарука различного назначения (используя цв. карандаши)
2. Выполните описание модели (укажите конструкцию, перечислите фасонные линии и детали).
3. Напишите наименование ткани к модели фарука.
4. Приведите способы декорирования изделия.

Творческое задание (5 баллов)

2. Ответ: *вышивание бисером*



10. Что обозначает знак на маркировке изделия, указанный на рисунке.

ФИО, класс _____ Шифр _____

Шифр 97-6-17

Муниципальное образование «Урьевский муниципальный округ»
ВСЕРОССИЙСКАЯ ОЛИМПИАДА ШКОЛЬНИКОВ ПО ТЕХНОЛОГИИ

«Культура дома, дизайн и технологии»

(школьный этап)
2023 – 2024 учебный год

5-6 классы

Время на выполнение – 45 мин.
Максимальное количество баллов: 15
10 баллов за тест + 5 баллов творческое задание

1. Теоретический тур (10 баллов)

1. Отгадайте загадку (1 балл).

Как называется продукт, который едят как хлеб и используют как салфетку?

2. Отметьте правильный ответ .
Крупа, получаемая из проса:

- а) пшеничная;
- б) пшенная;
- в) овсяная;
- г) гречневая.

3. Установите соответствие между продуктом и его видом .

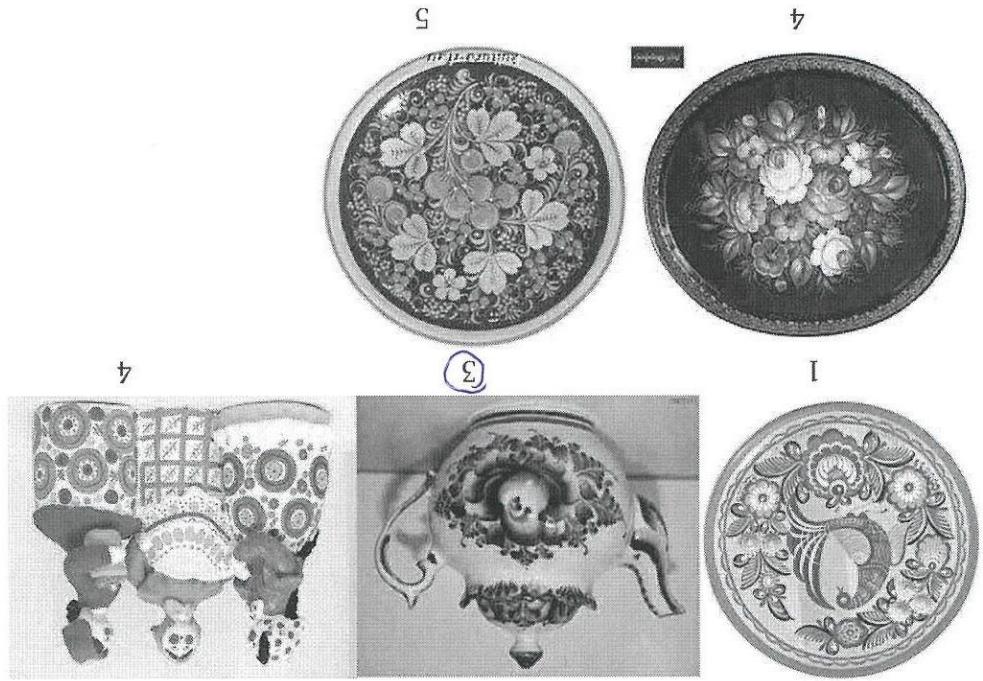
1	ряженка	А	пряность
2	перепелка	Б	орех
3	кешью	В	птица
4	ваниль	Г	рыба
5	сайда	Д	напиток

1 б, 2 в, 3 б, 4 г, 5 г

4. Отметьте правильные ответы .

Недостаток витамина С в организме человека в большей степени приводит к:
а) психической и физической утомляемости;
б) интенсивному потоотделению;
в) усиленной пигментации кожи.

5. Назовите фамилию изобретателя бытовой швейной машины современной конструкции Mitsubishi




9. Выберите из предложенных рисунков тот, на котором изображено изделие, выполненное в технике хохломской росписи.

(Керам) дек-голубая

8. Джгут, кенаф, лен-долгунец – какая часть этих растений используется для производства волокна?

- а) игла;
- б) наперсток;
- в) сантиметровая лента;
- г) ножницы;
- д) резец;
- е) пальцы.

7. Отметьте правильные ответы. К инструментам для вышивания относятся:



6. Подпишите названия швов, применяемых для вышивки

Косылка

10. Что обозначает знак на маркировке изделия, указанный на рисунке.



Ответ: Смарканд пуканн

2. +

Творческое задание (5 баллов)

1. Нарисуйте модель фартука различного назначения (используя цв. карандаши)
2. Выполните описание модели (укажите конструкцию, перечислите фасонные линии и детали).
3. Напишите наименование ткани к модели фартука.
4. Предложите способы декорирования изделия.

<p>Модель фартука</p>	<p>Описание модели</p> <p>Назначение: для пошива</p> <p>Детали: кармашки из ткани от</p> <p>каждой стороны из ткани с отворотом</p> <p>Силуэт:</p> <p>Ткань: фетр/ткань</p> <p>Цвет: синий, красный, оранжевый, фиолетовый</p> <p>Отделка:</p>
-----------------------	---

Муниципальное образование «Урвьевский муниципальный округ»
ВСЕРОССИЙСКАЯ ОЛИМПИАДА ШКОЛЬНИКОВ ПО ТЕХНОЛОГИИ
«Техника, технологии и техническое творчество»
(школьный этап)
2023 – 2024 учебный год
5-6 класс
Теоретическая часть

Время выполнения - 45 мин.

Максимальное количество баллов – 20 баллов

14 баллов (по одному баллу за каждый правильный ответ)

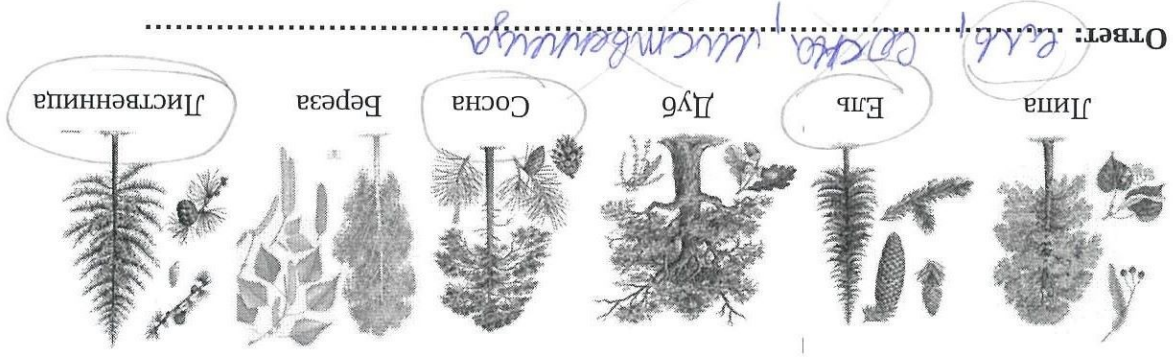
6 баллов за творческое задание

Задание считается выполненным, если в нём не допущено ни одной ошибки. Наличие лишнего ответа также считается ошибкой.

1. Предмет «Технология» изучает:

- а. технологию производства самолетов и ракет;
- б. технологию создания медицинских инструментов;
- в. технологию преобразования материалов, энергии, информации.

2. Какие породы деревьев относятся к хвойным?



3. Профессия рабочего, занятого обработкой древесины?

- а) слесарь;
- б) сантехник;
- в) столяр

4. Какие инструменты относятся к измерительным?

- а) ножовка, дрель, линейка;
- б) рубанок, пила, молоток;
- в) линейка, угольник, циркуль.

5. Назовите пиломатериалы, изготовленные на рисунке?

Handwritten marks resembling the letter 'f' are present on the right side of the page, corresponding to questions 3, 4, and 5.

профессия	презмет труда	орудие труда
пекарь, селфи-аэска, боксёр, мука	аэска, боксёр, мука	орудие труда
мастер по ремонту мебели, мебель, мебель, мебель	мебель, мебель, мебель	орудие труда
мастер по ремонту мебели, мебель, мебель, мебель	мебель, мебель, мебель	орудие труда
пекарь, селфи-аэска, боксёр, мука	аэска, боксёр, мука	орудие труда

Столяр, ножницы, металл, ткань, печь, принтер, человек.
 Станок, пекарь, секретарь, доска, портной, документ, учитель, пила, мука, ручка, токарь,
 соблюдается правильное соотношение профессии, предмета и орудия труда.

12. Перед вами набор слов. Необходимо перенести эти слова в таблицу таким образом, чтобы в каждой строке

- 4 Сдать на проверку своё изделие, практическую работу
- 1 Входить в мастерскую после звонка с разрешения учителя.
- 6 Врать рабочее место
- 2 Надеть спецодежду (фартук, нарукавники или халат)
- 3 Выполнять работу по изготовлению изделия согласно технологической карте
- 5 Сдать инструменты

мастерской? (1,2,3,4,5,6)
 11. Определите последовательность соблюдения правил безопасной работы в

10. В каких единицах измерения проставляют размеры на чертежах

- а) отвёртка;
- б) циркуль;
- в) сверло.

9. Какой из инструментов используется для сверления?

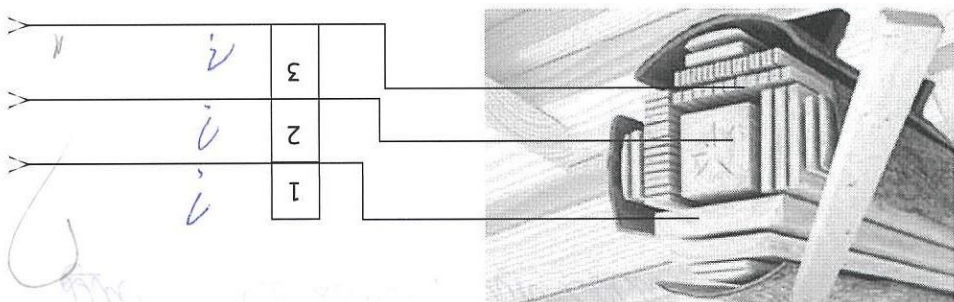
- а) телефон
- б) компьютер
- в) микрофон.

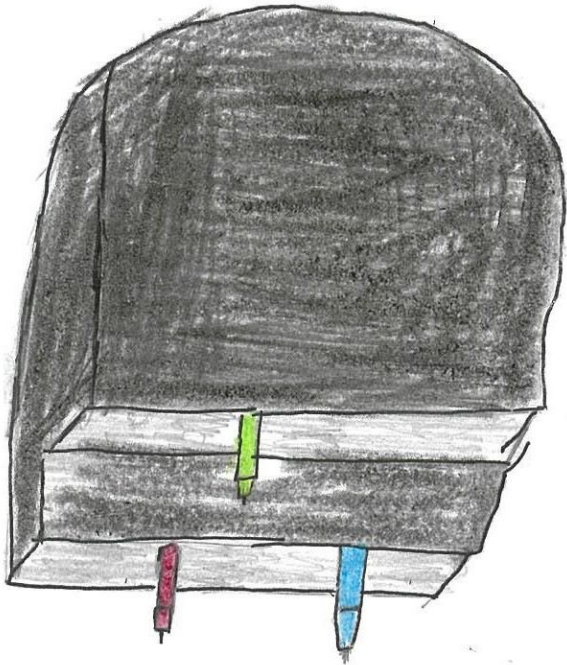
8. Электронно-вычислительная машина, способная выполнять заданную последовательность операций, называемую программой.

- а) рисунок
- б) чертёж
- в) макет
- г) эскиз

7. Уменьшенная копия объекта, повторяющая только внешний вид изделия.

- а) разработки конструкции и технологии изготовления;
 - б) защиты проекта;
 - в) с выбора темы проекта и обоснования практической потребности изделия.
6. Выполнение творческого проекта по технологии начинается:





18

a) материал
 б) токарно-крупносерийная

- а) Выберите материал и обоснуйте свой выбор (1 балл)
- б) Выберите размеры заготовки, опишите ее (1 балл)
- в) Изобразите эскиз изделия с размерами (1 балл)
- г) Разработайте технологическую карту изделия с указанием операций, необходимых инструментов и оборудования (2 балла)
- д) Предложите способ художественного оформления изделия (1 балл)

Для изготовления подставки для карандашей:

Творческое задание (6 баллов).

13. Как называется процесс нанесения на поверхность заготовки чертаний будущей детали?
- а) Копированием
 - б) Рисованием
 - в) Разметкой
 - г) Рисунок
 - д) технологическая карта
14. Как называется технологический документ, выполненный в виде таблицы?
- а) эскиз
 - б) технологический чертёж

ФИО, класс

6

Шифр

11-6-4

Линия отреза

Шифр

576

Муниципальное образование «Урвский муниципальный округ»
ВСЕРОССИЙСКАЯ ОЛИМПИАДА ШКОЛЬНИКОВ ПО ТЕХНОЛОГИИ

«Техника, технологии и техническое творчество»

(школьный этап)

2023 – 2024 учебный год

класс

Теоретическая часть

Время выполнения - 45 мин.

Максимальное количество баллов – 20 баллов

14 баллов (по одному баллу за каждый правильный ответ)

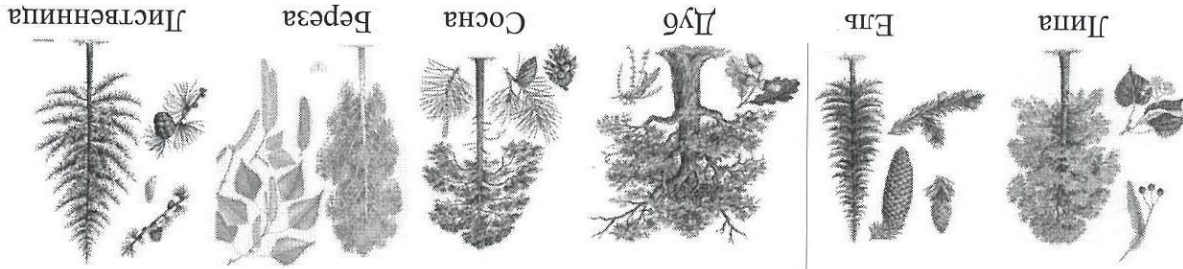
баллов за творческое задание

Задание считается выполненным, если в нём не допущено ни одной ошибки. Наличие лишнего ответа также считается ошибкой.

1. Предмет «Технология» изучает:

- а) технологию производства самолетов и ракет;
- б) технологию создания медцинских инструментов;
- в) технологию преобразования материалов, энергии, информации.

2. Какие породы деревьев относятся к хвойным?



Ответ: *Ель, сосна, лиственница*

3. Профессия рабочего, занятого обработкой древесины?

- а) слесарь;
- б) сантехник;
- в) столяр

4. Какие инструменты относятся к измерительным?

- а) ножовка, дрель, линейка;
- б) рубанок, пила, молоток;
- в) линейка, угольник, циркуль.

5. Назовите пиломатериалы, изображенные на рисунке?

профессия	Пекарь	Учитель
предмет труда	Мука	Песок
орудие труда	Мельница	Мушкет

Станок, пекарь, секретарь, доска, портной, документ, учитель, пила, мука, ручка, токарь, столар, ножницы, металл, ткань, печь, принтер, человек.

Необходимо перенести эти слова в таблицу таким образом, чтобы в каждой строке соблюдалось правильное соотношение профессии, предмета и орудия труда.

12. Перед вами набор слов.

- 4 Сдать на проверку своё изделие, практическую работу
- 1 Входить в мастерскую после звонка с разрешения учителя.
- 5 Взять рабочее место
- 2 Надеть спецодежду (фартук, нарукавники или халат)
- 3 Выполнять работу по изготовлению изделия согласно технологической карте
- 6 Сдать инструменты

мастерской? (1,2,3,4,5,6)

11. Определите последовательность соблюдения правил безопасной работы в

10. В каких единицах измерения проставляют размеры на чертежах

- а) отвёртка;
- б) циркуль;
- в) сверло.

9. Какой из инструментов используется для сверления?

- а) телефон
- б) компьютер
- в) микروفон

последовательность операций, называемую программой.

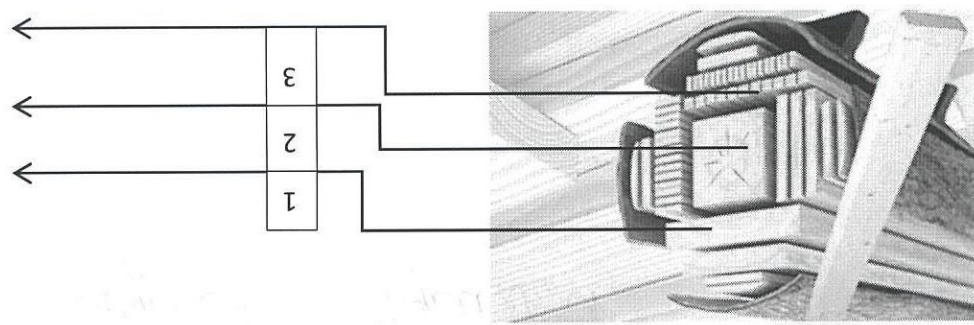
8. Электронно-вычислительная машина, способная выполнять заданную

- а) рисунок
- б) чертеж
- в) макет
- г) эскиз

7. Уменьшенная копия объекта, повторяющая только внешний вид изделия.

- а) с разработки конструкции и технологии изготовления;
- б) с защиты проекта;
- в) с выбора темы проекта и обоснования практической потребности изделия.

6. Выполнение творческого проекта по технологии начинается:



13. Как называется процесс нанесения на поверхность заготовки очертаний будущей детали?

- а) Копированием
- б) Рисованием
- в) Разметкой

14. Как называется технологический документ, выполненный в виде таблицы?

- а) рисунок
- б) эскиз
- в) технологическая карта
- г) технологический чертеж

Творческое задание (6 баллов).

Для изготовления подставки для карандашей:

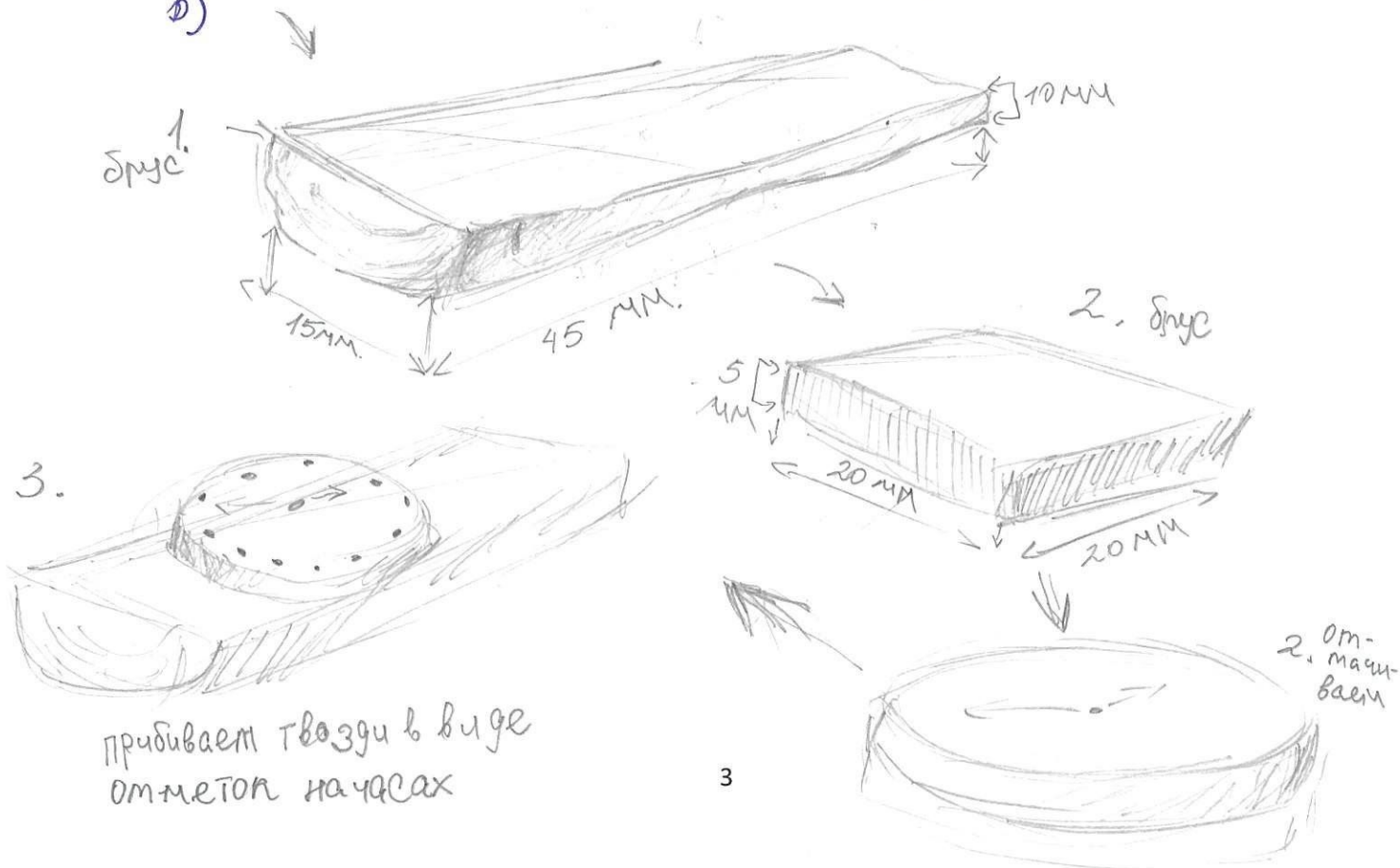
- а) Выберите материал и обоснуйте свой выбор (1 балл)
- б) Выберите размеры заготовки, опишите ее (1 балл)
- в) Изобразите эскиз изделия с размерами (1 балл)
- г) Разработайте технологическую карту изделия с указанием операций, необходимых инструментов и оборудования (2 балла)
- д) Предложите способ художественного оформления изделия (1 балл)

а) дерево.

Простой и интересной материал.

б) 45 мм. на 25. обычный брусок

в)



9) как оформление могу предложить
раскрасить часы краевой и покрыть
лаком.