

ФИО, класс \_\_\_\_\_

Шифр Ист-7-5

Линия отреза \_\_\_\_\_

435

Шифр Ист-7-5

Муниципальное образование «Гурьевский муниципальный округ»  
ВСЕРОССИЙСКАЯ ОЛИМПИАДА ШКОЛЬНИКОВ ПО ИСТОРИИ

(школьный этап)

2023 – 2024 учебный год

7 класс

Максимальное количество баллов -83

Время выполнения работы – \*\* минут.


88

**Задание 1.** (максимальный балл – 8 баллов)

Представьте, что Вы – экскурсовод в музее и Вам нужно провести экскурсию по выставке русской исторической живописи. Перед Вами две картины. Ваша задача: объяснить экскурсантам, что за сюжеты на них изображены. Для этого Вам необходимо:

- 1) Указать какое событие истории России отражено на картине.
- 2) Указать дату данного события.
- 3) Указать место, где произошло данное событие.
- 4) Назвать имя исторического деятеля России, с именем которого связано данное событие.

**Изображения:**




Картина 1

Ответ (картина 1):

1. событие Крещение Руси
1. дата 988
3. место Река Днепр
1. деятель Князь Владимир
1. илмер Крещение самобытно

Ответ (картина 2):

1. событие Крещение
1. дата 1242
1. место Чудское озеро
1. деятель Александр Невский



70

**Задание 2.** (максимальный балл – 10 баллов)

Установите **верность** или **ложность** утверждений. «Да» или «Нет»? Если Вы согласны с утверждением, напишите «ДА», если не согласны – «НЕТ». Внесите свои **ответы в таблицу**.

- В IX веке возникает полюдь – сбор дани общинников в пользу князя как возмещение за военные и управленческие услуги.
- «Правда Ярославичей» ввела систему штрафов за любые виды преступлений.
- В 1147 году Москва становится центром объединения русских земель.
- Посадник – это глава городской администрации в Новгороде Великом в XI-XV вв.
- Одной из целей походов крестоносцев было распространение католической веры в завоеванных землях.
- Согласно военной реформе 1555-1556 гг., основу войска составило дворянское ополчение.
- Одним из последствий Смуты явилось улучшение внешнеполитической ситуации для России: возврат ряда территорий (Смоленск, Северские земли) и выход к Балтийскому морю.
- Первые мануфактуры в России появляются во время правления Бориса Годунова.
- Соборное уложение 1649 года отменило Юрьев день.
- При Иване IV начинает действовать первая государственная типография.

**Ответ:**

1	2	3	4	5	6	7	8	9	10
да	да	нет	нет	да	нет	нет	да	нет	да

1 1 1 1 1 1 1 1 1 1

**Задание 3.** (максимальный балл – 6 баллов). Дайте определение данных понятий:

Монополия – это \_\_\_\_\_

1 Колония – это это страна которая зависит от другого государства

1 Революция – это восстание против власти, изменение

Метрополия – это \_\_\_\_\_

Мануфактура – это \_\_\_\_\_

1 Абсолютизм – это форма правления при которой монарху

**Задание 4.**

Какое событие «Повесть временных лет» относит к 862 г.?

- А) призвание Рюрика в Новгород на княжение   
  Б) крещение князя Владимира  
 В) первый договор князя Олега с Византией   
  Г) восстание древлян

**Задание 5.** (максимальный балл – 7 баллов)

Установите соответствие между событием и князем, с именем которого связано данное событие

Имя князя	Событие
1. Александр Невский	А. Объединение Киева и Новгорода, образование Древнерусского государства
2. Владимир Красное Солнышко	Б. Крещение Руси
3. Иван III	В. Ледовое побоище
4. Князь Олег	Г. Куликовская битва
5. Дмитрий Донской	Д. Стояние на Угре
6. Княгиня Ольга	Е. Реформа на Руси, в результате которой были установлены уроки и погосты
7. Ярослав Мудрый	Ж. Положено начало созданию на Руси письменного свода законов

**Задание 6.** (максимальный балл - 6 баллов)

По какому принципу образованы ряды:




Иллистеркалли ипциллиминийпо  
 кпша . лихтестрклы межиплшйпдд  
 хоу . ипписого оумзала  
 хоу ипйкпша  
 ипхйккк  
 рер8

20

Ответ: ~~Куликовская битва, Александр Невский~~  
~~со скандинавскими державами сарматы~~  
~~Все это произошло в 1380 году 8 октября~~  
~~Иван III Свояк с Лакан и Лейтманом~~  
~~на реке Зурж . Год 1480 . летание временных~~  
~~лет.~~

Задание 9. (максимальный балл – 6 баллов)  
 Подпишите имена русских князей.



А) Александр  
Александр  
Невский

Б) Дюрик

В) Иван  
Иван  
Иван III

5

6.1. Закупы, рядовичи, смерды.

Принцип: Сила общества в древней Руси - 2

6.2. Что объединяет эти года 1478 г., 1485 г., 1514 г.

Принцип: Объединение русских земель - 2

6

6.3. Волостель, голова, посадник, наместник.

Принцип: Должности и звания в древней Руси XI-XV вв - 2

**Задание 7.** (максимальный балл – 2 балла)

**Личность:**

- 1) Христофор Колумб
- 2) Фернан Магеллан
- 3) Васко Нуньес Бальбоа
- 4) Бартоломеу Диаш

**Деятельность:**

- А) проложен путь на Восток через Индийский Океан
- Б) первым увидел Тихий океан
- В) первое кругосветное путешествие
- Г) открытие нового континента

40

1	2	3	4
2	В	А→Б	

**Задание 8.** (максимальный балл – 27 балла)

Рассмотрите миниатюру и выполните задания.

8.1. Укажите год, когда произошли события, изображенные на миниатюре. Укажите название географического объекта, упоминаемого на миниатюре. (2 балла)

8.2. Укажите имя союзника полководца, упомянутого в тексте миниатюры. Назовите причину, по которой этот союзник в тексте не упомянут? (10 баллов)

8.3. Приведенная миниатюра является частью большой иллюстрированной книги. Укажите название этой книги, время, когда она была создана с точностью до половины века. Укажите имя правителя, в годы правления которого было создано это произведение. Укажите (с датами) и не менее двух событий внешней политики этого правителя. (15 баллов)




Г) Иван Грозный

1



Д) Святослав

1



Е) Ярослав мудрый

1

**Задание 10.** Внимательно рассмотрите карту. Ответьте на вопросы. (максимальный балл – 10 баллов)

1. Укажите век, к которому относятся события, обозначенные на схеме (1 балл)

Ответ XIV 1

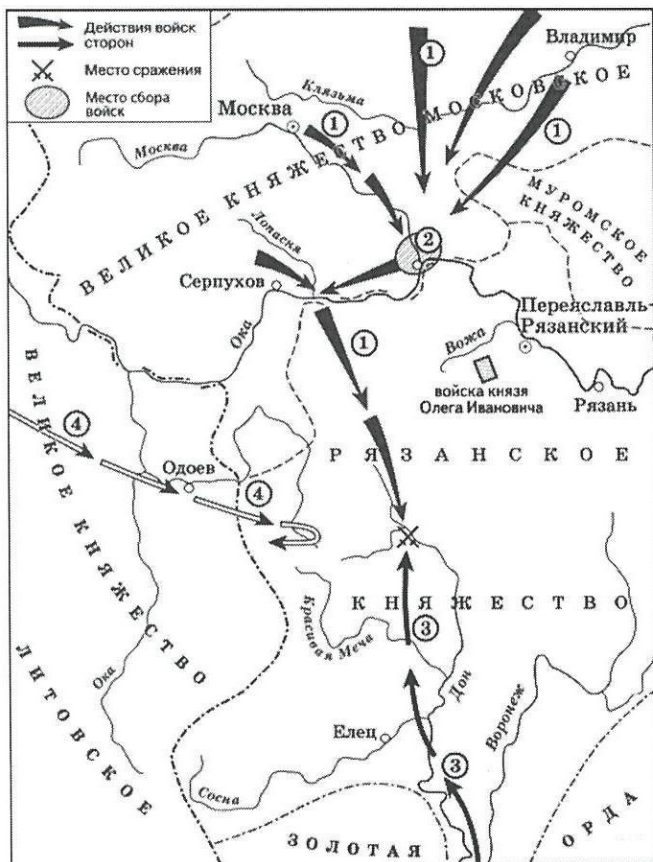
2. Укажите полководца, возглавившего поход, направление которого обозначено на схеме цифрой «3» (2 балла)

Ответ Юрий Долгорукий

3. Укажите название города, обозначенного под цифрой «2» (1 балл)

Ответ \_\_\_\_\_

4. Напишите значение битвы для последующих событий Отечественной истории. Не менее трех положений. (6 баллов).




---

---

---

---

---

---

---

---

Шкала оценивания:

№ задания	1	2	3	4	5	6	7	8.1	8.2	8.3	9	10.1	10.2	10.3	10.4	Всего
Мах балл	8	10	6	1	7	6	2	2	10	15	6	1	2	1	6	83
Баллы участника																

ФИО, класс \_\_\_\_\_

Шифр

Ис-8-5

Линия отреза -----

685

Шифр

Ис-8-5

Муниципальное образование «Гурьевский муниципальный округ»  
ВСЕРОССИЙСКАЯ ОЛИМПИАДА ШКОЛЬНИКОВ ПО ИСТОРИИ

(школьный этап)

2023 – 2024 учебный год

8 КЛАСС

Максимальный балл - 85 балла

**Задание 1(1 балл)**

Какое из событий не относится к правлению Алексея Михайловича?

А) принятие Соборного уложения

Б) Восстание Болотникова

В) Церковная реформа

Г) Поход Василия Уса

1

**Задание 2(1 балл)**

По какому мирному соглашению (перемирию) Владислав IV отказался от притязаний на российский престол?

А) Вечный мир

Б) Андрусовское перемирие

В) Поляновский мир

Г) Деулинское перемирие

1

**Задание 3(до 2 баллов)**

Какие из перечисленных земель присоединил отец Ивана IV?

А) Новгородские

Б) Вятские

В) Псковские

Г) Пермские

Д) Рязанские

Е) Смоленские

2/2

**Задание 4(1 балл)**

Кто из перечисленных женщин не являлся женой Ивана IV?

А) Анастасия Захарина-Юрьева

Б) Марина Мнишек

В) Мария Темрюковна

Г) Василиса Мелентьева

1

**Задание 5(по 2 балла за каждое соответствие, всего – 10 баллов)**

Соотнесите военачальников и сражения, в которых они участвовали

	Полководец		сражение
<input checked="" type="radio"/>	Александр Невский	А	Куликовская битва
<input checked="" type="radio"/>	Дмитрий Донской	Б	Взятие Азова
<input checked="" type="radio"/>	Михаил Скопин-Шуйский	В	Калязинская битва
<input checked="" type="radio"/>	Юрий Всеволодович	Г	Битва на реке Неве

108

Д	Михаил Воротынский	Д	Битва при Молодях
		Е	Битва на Сити


### Задание 6

Что или кто является лишним в ряду? Ответ поясните. (1 балл за нахождение лишнего, 2 балла – за пояснение, всего – 15 баллов)

саж Ньютон, Петр I Алексеевич, патриарх Гермоген, гетман Мазепа, Феофан Прокопович

Сааж Ньютон - иностранный учёный, остальные деятели России.

Лютеране, стригольники, жидовствующие, иосифляне, сориане

3 Лютеране - иностранный <sup>(вид)</sup> разряд христианства (православие, католичество и др.) другие еретики

Тохтамыш, Узбек, Мамай, Ахмат, Батый, Джучи

Батый - более ранний монгольский завоеватель.

Степан Разин, Евпатий Коловрат, Кондратий Булавин, Хлопок Косолап, Василий Ус

3 Евпатий Коловрат - военный предводитель обороны Рязань от монголов.


Книжная миниатюра, иконопись, мозаика, клинропись, фреска

1 Клинропись - передача информации по каменной табличке.

### Задание 7

На картинках изображены события всемирной и отечественной истории 16-18 веков. Соотнесите картинки с названиями событий. (12 баллов)





А.




Б.



В.



Г.



Д.



Е.

1. турм Очакова
2. азнь стрельцов после восстания 1698
3. турм Нотебурга
4. ерковный раскол



2. азовите населенный пункт под цифрой 2 и опишите его роль во время Смуты (3 балла)

3. какой страной был заключен Столбовский мир? (2 балла)

4. каком году и какому государству отошли территории, заштрихованные горизонтальными чертами? (2 балла)

### Задание 8

Используя все приведённые слова и словосочетания, составьте определения исторических понятий. Назовите эти понятия. Слова и словосочетания не могут использоваться дважды. Разрешается добавлять предлоги, изменять слова по падежам. м (всего 25 баллов: 2 определение термина, 3 - составление определения).

монгольский, представитель, налоги, земли, сборщик, завоеванные, хан

Баскак - сборщик налогов завоеванных земель, представителя монгольского хана (5)

жанр, русский, портрет, царство, XVII век

Парсуна - жанр XVII русских портретов. (5)

орган, царь, обсуждение, созданный, сословно-представительный, XVI век, политический вопрос, законы

Земский собор - сословно-представительный орган, созданный царём для обсуждения политических вопросов и законов в XVI веке (5)

русское государство, система, знатность, должности, род, распределение, зависимость

Местничество - система распределения должностей русского гос-ва, по знатности рода (5)

ерковь, предполагающий, статус, другие, административный, независимость, ее

Автокефалия - статус церкви предполагающий её независимость (5)

### Задание 9

Расставьте события, изображенные на картинках, в хронологическом порядке. (8 баллов)

Д	ЖЗ	Г	ЖВ	ИВ	А	Е	Б
1	2	3	4	5	6	7	8

8

А.



Б.



В.



Г.



Д.




Е.



Ж.



3.







**Задание 2. Определите и запишите принцип образования каждого логического ряда, найдите и выпишите лишний элемент в каждом ряду. Объясните, почему данный элемент является лишним [1 балл за принцип, 1 балл за лишний элемент в каждом ряду; максимальный балл – 8 баллов].**

- 2.1. Зипун, кистень, кафтан, ферязь. *суконка*
- 2.2. Русская правда, Домострой, Судебник, Соборное уложение. *Собрания законов*  
*Русская правда - газета*
- 2.3. Полтавская баталия, Чесменский бой, Гангутское сражение, битва у острова Гренгам. *Битвы.*  
*Чесменский бой - остальные были в шведской Северной войне*
- 2.4. Дмитрий Боброк Волынский, Мстислав Удалой, Владимир Андреевич Храбрый, Дмитрий Иванович.

**Задание 3. Расположите исторических личностей в хронологической последовательности их жизни и деятельности. Запишите цифры, которыми обозначены исторические личности, в правильной последовательности (5 баллов)**

- 1) Дмитрий Шемяка      2) Фёдор Иоаннович      3) Николай Павлович
- 4) Софья Алексеевна      5) Елена Глинская

**Задание 4. Установите соответствие между элементами левого и правого столбиков. Каждому научному и техническому изобретению (достижению) и подберите фамилию его автора. Одному элементу левого столбика соответствуют один элемент правого столбика. Два элемента лишние. (Каждый правильный ответ – 1 балла, максимальный балл – 6).**

Научные и технические изобретения (достижения)	Авторы
1. изучение вопросов древнейшей истории России	А. А.К. Нартов <i>а</i>
2. первый токарный станок в России	Б. М.В. Ломоносов <i>б</i>
3. разработка основ минералогии и возрождение традиций мозаики в России	В. В. Беринг <i>в</i>
4. изобретение книгопечатания	Г. И. Гутенберг <i>г</i>
5. разработка метода графического изображения соотношений множеств в виде кругов	Д. Г.Ф. Миллер <i>д</i>
6. проведение научной экспедиции вокруг Камчатки	Е. И.П. Кулибин <i>е</i>
	Ж. Л. Эйлер <i>ж</i>
	З. Е. Хабаров <i>з</i>

*28*

1	2	3	4	5	6	
3	Е.	Ж.	А.	<del>Б</del> <i>44+</i>	В.	+

**Задание 5 Рассмотрите картину и ответьте на вопросы. (По 2 балла за каждый правильный ответ, максимальный балл – 30).**





5.1. Какое историческое событие изображено на картине? (правильный ответ – 2 балла) Когда произошло это событие (укажите с точностью до года)? (правильный ответ – 2 балла, максимальный балл – 4)

Венчание на царство 1463г.

2

5.2. Кто и в отношении кого совершил обряд (назовите правителя и церковного главу)? (каждый правильный ответ – 2 балла) Укажите годы правления, изображенного на картине правителя. (правильный ответ – 2 балла, максимальный балл – 6)

Патриарх Никон и Иван IV

3

5.3. Какой новый титул принял правитель Русского государства? (правильный ответ – 2 балла) От какого другого известного титула он был произведен? (правильный ответ – 2 балла, максимальный балл – 4)

царь всея Руси. Был князь.

4

5.4. Назовите имена родителей правителя, изображенного на картине. (каждый правильный ответ – 2 балла, максимальный балл – 4)

Василий III,

2

5.5. Какое значение имело это историческое событие? Приведите два факта (каждый правильный ответ – 2 балла, максимальный балл – 4)

Возмужали на престол самого злого правителя. В будущем образовали опричнину.

2

5.6. Какие другие события произошли в правление изображенного на картине правителя? Назовите четыре события (каждый правильный ответ – 2 балла, максимальный балл – 8)

---

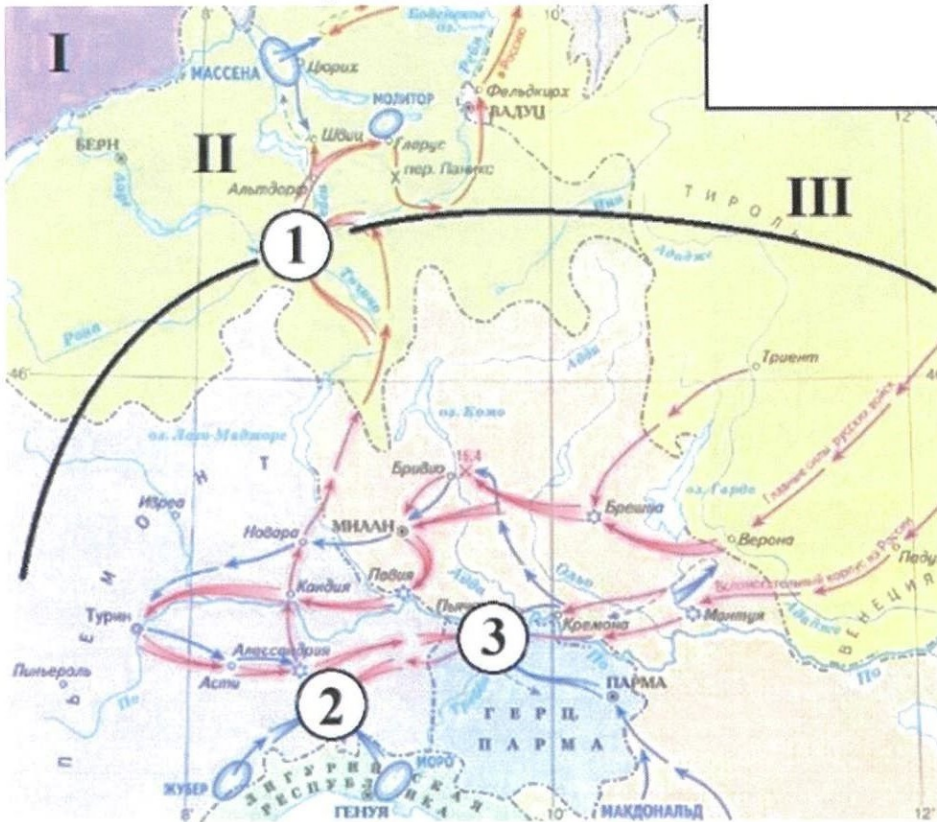


---



---

Задание 6 Внимательно рассмотрите схему и выполните задания. Максимум – 13 баллов



6.1 Укажите портрет российского императора, в правление которого происходили события, отражённые на схеме (Максимум за задание - 1 балл).



2

6.2 Выберите на карте и укажите цифру, обозначающую местоположение сражения, которому посвящено приведённое изображение (максимум 1 балл).



(2)

**6.3 Соотнесите названия государств с римскими цифрами, которыми обозначены их территории (По 1 баллу за каждую верную пару. Максимум за задание – 3 балла).**

ШВЕЙЦАРИЯ I АВСТРИЯ
II ФРАНЦИЯ
III ЛОМБАРДИЯ

Франция
Речь Посполитая
Герцогство Ломбардия
Австрия
Куршноршество Бавария
Швейцария

**6.4 Выберите верные утверждения. (по 2 балла за верно указанное, максимум – 8 баллов)**

1. События, отражённые на схеме, были частью войны Третьей антифранцузской коалиции.
2. Руководителем русских войск в событиях, отражённых на схеме, был М.И. Кутузов.
3. Римской цифрой I обозначена территория государства-союзника России в событиях, отражённых на схеме.
4. В событиях, отражённых на схеме, принимали участие такие военачальники, как Э.-Ж.-Ж.-А. Макдональд, А. Массена и Ж.-В. Моро.
5. Государство, территория которого обозначена римской цифрой III, было противником России в отражённых на схеме событиях.
6. Одним из результатов событий, отражённых на схеме, стало укрепление сотрудничества России и Англии.
7. По итогам участия в событиях, отражённых на схеме, руководителю русских войск присвоили почётное воинское звание генералиссимуса.
8. На карте указано название реки, на которой одержали победу русские войска в ходе обозначенных событий, а также - войска Ганнибала за две тысячи семнадцать лет до этого.
9. На карте обозначено название города – торговой республики в Средние века, владельца колоний в северном Причерноморье.
10. На карте обозначен город, который в XIV веке римские папы вынуждены были сделать своей резиденцией.

**Задание 7 Историческое сочинение – эссе (20 баллов).**

**Вам необходимо написать историческое сочинение об ОДНОМ из периодов истории России:**

- 1) 862–945 гг.;
- 2) 1604–1613 гг.;
- 3) 1725–1762 гг.

4) 1812 год

В сочинении необходимо: – указать значимые события данного периода (4 балла) – назвать три исторические личности, принадлежащие данному периоду (3 балла) и охарактеризовать их деятельность - указать роль и значение данного периода в истории России (до 10 баллов). В ходе изложения необходимо корректно использовать исторические термины и понятия (3 балла)

1725-1762гг для России были трудными, так как это была эпоха дворцовых переворотов, правители заволащивали власть путем революций. Она началась со смерти Петра Великого, а кончилась, когда к власти пришла Екатерина Великая. Были такие личности, как Анна Иоанновна, которая не была заинтересована в правлении, также как и Петр II. А Иван VI правил в младенчестве, после чего был отправлен за решетку. Это были темные времена, но Екатерина сломала все и преуспела.

4 + 3 + 5 + 2

145