

Шифр

Г-05-03

5/12/9/5/3/14 = 488.

Всероссийская олимпиада школьников по географии. 2023-2024 учебный год.

Школьный этап. 5 класс

Начинать работу можно с любого задания, однако, мы рекомендуем выполнять задания в том порядке, в котором они даны. Если какое-то задание вызывает у вас затруднение, пропустите его и постарайтесь выполнить те, в ответах на которые вы уверены. К пропущенным заданиям можно будет вернуться, если у вас останется время.

Общее время выполнения работы - 75 минут

Максимальная сумма баллов – 62

Во время выполнения заданий не допускается использование атласов и других источников информации.

Теоретический тур

Задание 1. (6 баллов)

Отгадайте загадки:

1) Он и летом, и зимой –

Между небом и землёй.

Хоть всю жизнь к нему иди –

Он всё время впереди!

горизонт ✓

2) Безобидны, травоядны,

Не в полосках и не в пятнах,

Сумка есть и длинный хвост,

Плюс к тому – немалый рост.

Австралийскую жару

Очень любят ...

кенгуру ✓

3) Он король полярных льдин,

Черно-белый господин.

Ух, для птички он велик!

Ходит очень важно.

Самый южный материк

Заселил отважно.

Королевский пингвин †

4) Подрастал, подрастал,

Был рогатым – круглым стал.

Только круг, чудо-круг,

Стал опять рогатым вдруг.

Олень

5) Утром бусы засверкали,

Всю траву собой заткали,

А пошли искать их днём –

Ищем, ищем – не найдём!

Всё †

58

6) Все обходят это место:

Здесь земля – как будто тесто,

Тут осока, кочки, мхи,

Нет опоры для ноги.

Болото †

125

Задание 2. (17 баллов)

Заполните таблицу, используя список растений и животных.

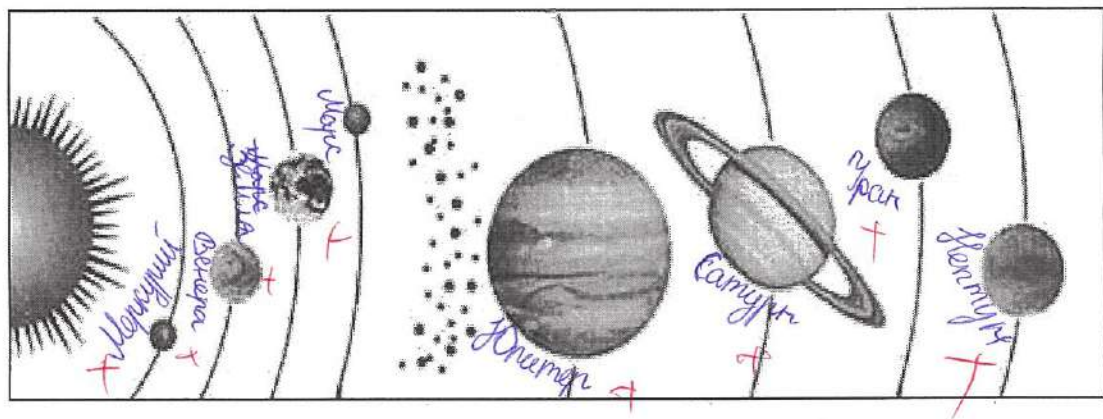
Природная зона	Растения	Животные
Тундра	карликовая берёза † полярная ива †	белая песец †, северный олень †, бурый дук †, белая сова †, лемминг †, соболь †
Тайга	лиственница †, ель †, сосна †	рысь †, заяц †

Пустыня	верблюжья колючка +	тушканчик, песчанка + +
---------	------------------------	----------------------------

Растения и животные: пихта, карликовая берёза, тушканчик, рябчик, белая сова, рысь, верблюжья колючка, песчанка, песок, полярная ива, северный олень, сосна, лиственница, бурундук, ель, лемминг, соболь.

Задание 3. (10 баллов)

1) Подпишите на схематическом рисунке названия планет Солнечной системы.



2) Почему на Земле происходит смена времён года?

Земля крутится вокруг своей оси и вокруг Солнца изменяя тем самым температуру на разных своих сторонах.

95.

Задание 4. (6 баллов)

1) Выберите из списка и выпишите слова (это элементы культуры, растения, животные, географические названия и т.п.), связанные с Японией и Индией:

Тадж-Махал, сакура, Токио, рупия, Хонсю, Нью-Дели, кимоно, Фудзи, Ганг, иена, хокку, сари.

Япония: Сакура, Токио, Хонсю, кимоно, Фудзи, Ганг, иена, сари.

Индия:

Маджс-Махсан, мурдия, Нью-Дели, хокку, сапу

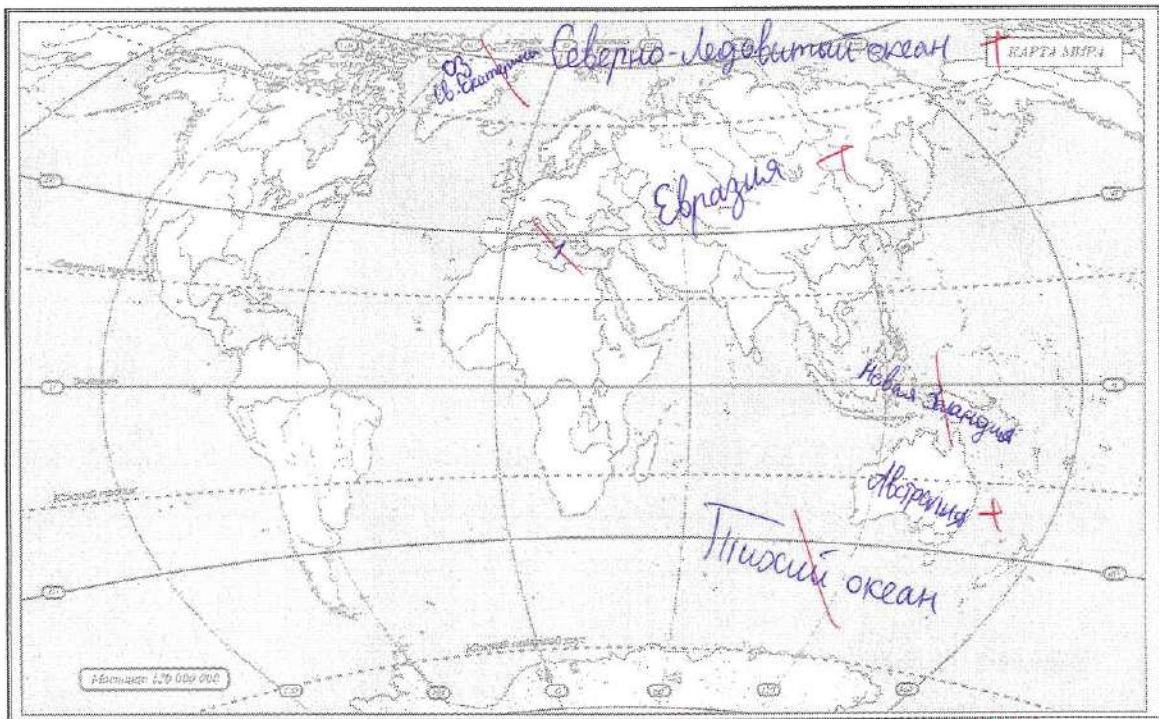
11 x 0,5 = 5,5

Задание 5. (7 баллов)

На контурной карте надпишите названия:

- самого большого материка
- самого маленького материка
- самого большого океана
- самого маленького океана
- крупнейшего острова
- крупнейшего полуострова

Цифрой 1 обозначьте Балтийское море



Тестовый тур

На каждый вопрос даны четыре варианта ответов.

Выберите только один правильный и внесите его в матрицу ответов.

Максимально 16 баллов, по 1 баллу за каждый правильный ответ.

1,5 x 10 = 15, 15 + 1,5 = 16,5

1. С какой из этих стран Россия не граничит?

- а) Индия б) Казахстан в) Китай г) Финляндия

2. Какие из этих морей омывают берега России?

- а) Красное и Белое б) Чёрное и Жёлтое

- в) Белое и Чёрное г) Жёлтое и Красное

3. Какой природной зоны нет в России?

- а) степи б) тайги в) тундры г) саванны

4. Что в переводе с греческого языка означает слово «география»?

- а) «изучение Земли» б) «землеописание»
в) «изучение природы» г) «описание природы»

5. Какие океаны омывают Африку?

- а) Тихий и Атлантический
б) Индийский и Атлантический
 в) Тихий и Индийский
г) Северный Ледовитый и Индийский

6. Какой материк открыли позже других материков?

- а) Северную Америку б) Австралию в) Антарктиду г) Южную Америку

7. Как вращение Земли вокруг оси отражается на явлениях в природе?

- а) реки стекают с возвышенностей в более низкие места

- б) происходит смена дня и ночи

- в) происходит смена времён года

- г) возникают приливы и отливы

8. Какое полезное ископаемое добывают в Калининградской области?

- а) железные руды б) каменный уголь

- в) торф г) медные руды

9. Какой город не является столицей?

- а) Венеция б) Пекин в) Париж г) Минск

10. Что производят на заводе «Янтарь» в городе Калининграде?

- + а) сыр б) украшения в) вагоны г) корабли

11. С какой страной граничит Калининградская область?

- + а) Латвия б) Белоруссия в) Польша г) Германия

12. Какой океан является самым маленьким по площади?

- + а) Тихий б) Северный Ледовитый
в) Индийский г) Атлантический

13. В какой стране традиционной женской одеждой является сари?

- + а) Индия б) Япония в) Бразилия г) Китай

14. На флаге какого государства изображён красный круг, символизирующий Солнце?

- + а) Египет б) Индия в) Япония г) Китай

15. Какую достопримечательность можно увидеть в городе, основанном Петром Первым?

- + а) памятник «Медный всадник»
б) Собор Василия Блаженного
в) Царь-колокол
г) Третьяковскую галерею

16. Какие животные изображены на гербе Австралийского Союза?

- + а) зебра и носорог б) кенгуру и эму
в) колибри и ягуар г) павлин и панда

Матрица для записи ответов

1	2	3	4	5	6	7	8	9	10
а	б	г	а	б	в	д	в	а	г

11	12	13	14	15	16
в	д	а	б	а	д

145.

Шифр

Г-05-08

5/16/9/6/2/9 = 475.

Всероссийская олимпиада школьников по географии. 2023-2024 учебный год.

Школьный этап. 5 класс

Начинать работу можно с любого задания, однако, мы рекомендуем выполнять задания в том порядке, в котором они даны. Если какое-то задание вызывает у вас затруднение, пропустите его и постарайтесь выполнить те, в ответах на которые вы уверены. К пропущенным заданиям можно будет вернуться, если у вас останется время.

Общее время выполнения работы - 75 минут

Максимальная сумма баллов – 62

Во время выполнения заданий не допускается использование атласов и других источников информации.

Теоретический тур

Задание 1. (6 баллов)

Отгадайте загадки:

1) Он и летом, и зимой –

Между небом и землёй.

Хоть всю жизнь к нему иди –

Он всё время впереди!

Горизонт +

2) Безобидны, травоядны,

Не в полосках и не в пятнах,

Сумка есть и длинный хвост,

Плюс к тому – немалый рост.

Австралийскую жару

Очень любят ...

кенгуру +

Черно-белый господин.

Ух, для птички он велик!

Ходит очень важно.

Самый южный материк

Заселил отважно.

пингвин +

4) Подрастал, подрастал,

Был рогатым – круглым стал.

Только круг, чудо-круг,

Стал опять рогатым вдруг.

5) Утром бусы засверкали,

Всю траву собой заткали,

А пошли искать их днём –

Ищем, ищем – не найдём!

роса +

6) Все обходят это место:

Здесь земля – как будто тесто,

Тут осока, кочки, мхи,

Нет опоры для ноги.

болото +

Задание 2. (17 баллов)

Заполните таблицу, используя список растений и животных.

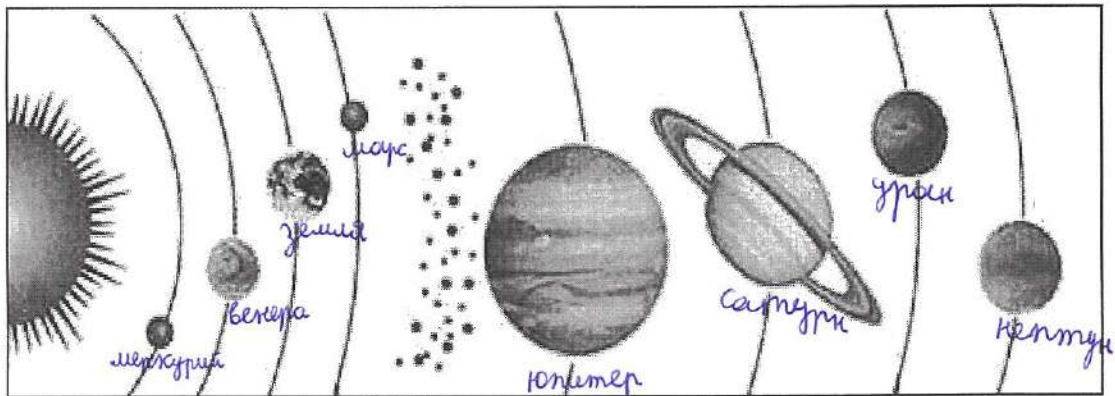
Природная зона	Растения	Животные
Тундра	карликовая берёза + полярная ива +	белая сова +, лемминг + северный олень, соболь +
Тайга	лиственница +, сосна +, мшанник + лиственница +, ель +, пихта +.	лось +, бурый медведь +, рысь +

Пустыня	верблюжья колючка +	песчанка + тушканчик +
---------	---------------------	---------------------------

Растения и животные: пихта, карликовая берёза, тушканчик, рябчик, белая сова, рысь, верблюжья колючка, песчанка, песок, полярная ива, северный олень, сосна, лиственница, бурундук, ель, лемминг, соболь.

Задание 3. (10 баллов)

1) Подпишите на схематическом рисунке названия планет Солнечной системы.



2) Почему на Земле происходит смена времён года?

Потому что Земля вращается вокруг Солнца

95.

Задание 4. (6 баллов)

1) Выберите из списка и выпишите слова (это элементы культуры, растения, животные, географические названия и т.п.), связанные с Японией и Индией:

Тадж-Махал, сакура, Токио, рупия, Хонсю, Нью-Дели, кимоно, Фудзи, Ганг, иена, хокку, сари.

Япония: +
Токио, кимоно, Хонсю, сакура, хокку, сари, Нью-Дели, Фудзи, иена

Индия:

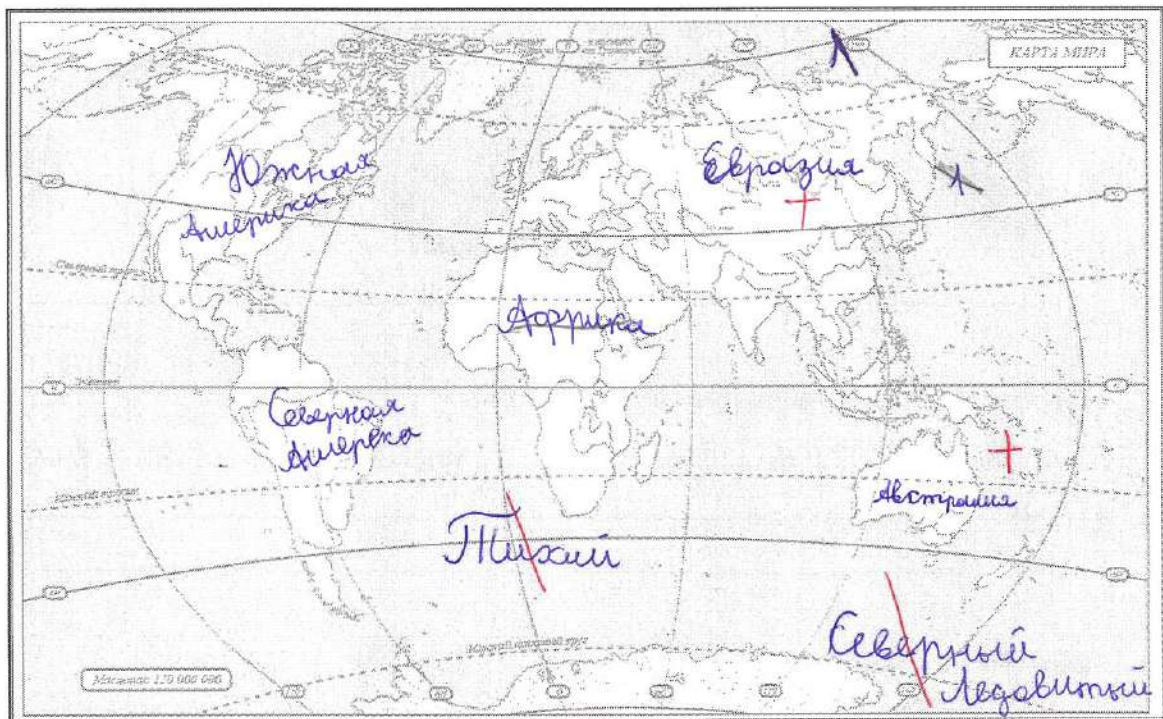
Мадра - Махал, рупия, ченна, Тамил, Нью-Дели, сарни

Задание 5. (7 баллов)

На контурной карте надпишите названия:

- самого большого материка
- самого маленького материка
- самого большого океана
- самого маленького океана
- крупнейшего острова
- крупнейшего полуострова

Цифрой 1 обозначьте Балтийское море



Тестовый тур

85.

На каждый вопрос даны четыре варианта ответов.

Выберите только один правильный и внесите его в матрицу ответов.

Максимально 16 баллов, по 1 баллу за каждый правильный ответ.

10. Что производят на заводе «Янтарь» в городе Калининграде?

- а) сыр б) украшения в) вагоны г) корабли

11. С какой страной граничит Калининградская область?

- а) Латвия б) Белоруссия в) Польша г) Германия

12. Какой океан является самым маленьким по площади?

- а) Тихий б) Северный Ледовитый
в) Индийский г) Атлантический

13. В какой стране традиционной женской одеждой является сари?

- а) Индия б) Япония в) Бразилия г) Китай

14. На флаге какого государства изображён красный круг, символизирующий Солнце?

- а) Египет б) Индия в) Япония г) Китай

15. Какую достопримечательность можно увидеть в городе, основанном Петром Первым?

- а) памятник «Медный всадник»
б) Собор Василия Блаженного
в) Царь-колокол
г) Третьяковскую галерею

16. Какие животные изображены на гербе Австралийского Союза?

- а) зебра и носорог б) кенгуру и эму
в) колибри и ягуар г) павлин и панда

Матрица для записи ответов

1	2	3	4	5	6	7	8	9	10
в	б+	г+	б+	в	г	б+	в	в	г+

11	12	13	14	15	16
в	б	а	в	г	в
+	+	+	+		

1. С какой из этих стран Россия не граничит?

- а) Индия б) Казахстан в) Китай г) Финляндия

2. Какие из этих морей омывают берега России?

- а) Красное и Белое б) Чёрное и Жёлтое
 в) Белое и Чёрное г) Жёлтое и Красное

3. Какой природной зоны нет в России?

- а) степи б) тайги в) тундры г) саванны

4. Что в переводе с греческого языка означает слово «география»?

- а) «изучение Земли» б) «землеописание»
в) «изучение природы» г) «описание природы»

5. Какие океаны омывают Африку?

- а) Тихий и Атлантический
б) Индийский и Атлантический
 в) Тихий и Индийский
г) Северный Ледовитый и Индийский

6. Какой материк открыли позже других материков?

- а) Северную Америку б) Австралию в) Антарктиду г) Южную Америку

7. Как вращение Земли вокруг оси отражается на явлениях в природе?

- а) реки стекают с возвышенностей в более низкие места
 б) происходит смена дня и ночи
 в) происходит смена времён года
г) возникают приливы и отливы

8. Какое полезное ископаемое добывают в Калининградской области?

- а) железные руды б) каменный уголь
 в) торф г) медные руды

9. Какой город не является столицей?

- а) Венеция б) Пекин в) Париж г) Минск

Шифр

Г-05-09

4/14/914/418 = 435

Всероссийская олимпиада школьников по географии. 2023-2024 учебный год.

Школьный этап. 5 класс

Начинать работу можно с любого задания, однако, мы рекомендуем выполнять задания в том порядке, в котором они даны. Если какое-то задание вызывает у вас затруднение, пропустите его и постарайтесь выполнить те, в ответах на которые вы уверены. К пропущенным заданиям можно будет вернуться, если у вас останется время.

Общее время выполнения работы - 75 минут

Максимальная сумма баллов – 62

Во время выполнения заданий не допускается использование атласов и других источников информации.

Теоретический тур

Задание 1. (6 баллов)

Отгадайте загадки:

1) Он и летом, и зимой –

Между небом и землёй.

Хоть всю жизнь к нему иди –

Он всё время впереди!

Облако

2) Безобидны, травоядны,

Не в полосках и не в пятнах,

Сумка есть и длинный хвост,

Плюс к тому – немалый рост.

Австралийскую жару

Очень любят ...

Кингсмену +

3) Он король полярных льдин,
 Черно-белый господин.
 Ух, для птички он велик!
 Ходит очень важно.
 Самый южный материк
 Заселил отважно.

Пингвин +

4) Подрастал, подрастал,
 Был рогатым – круглым стал.
 Только круг, чудо-круг,
 Стал опять рогатым вдруг.

Б. Козёл
~~Баран~~

5) Утром бусы засверкали,
 Всю траву собой заткали,
 А пошли искать их днём –
 Ищем, ищем – не найдём!

Лосось +

6) Все обходят это место:
 Здесь земля – как будто тесто,
 Тут осока, кочки, мхи,
 Нет опоры для ноги.

Болото +

Задание 2. (17 баллов)

Заполните таблицу, используя список растений и животных.

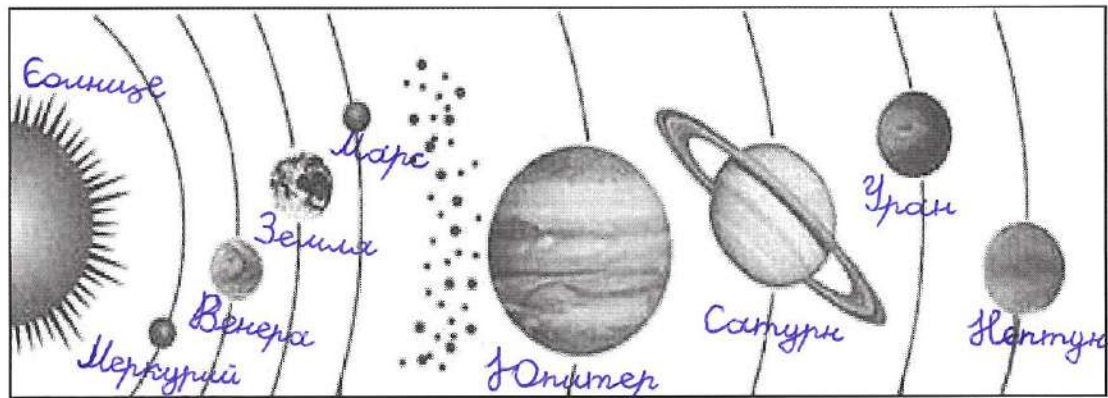
Природная зона	Растения	Животные
Тундра	полярная ива, + лишайник.	белая сова, + песец, + северный олень, + несколько.
Тайга	лиственница, + берёза, + сосна, + ель, +	рысь, + раббит, + бурундук, + соболь. +

Пустыня	верблюжья колючка +	тушканчик +
---------	------------------------	----------------

Растения и животные: пихта, карликовая берёза, тушканчик, рябчик, белая сова, рысь, верблюжья колючка, песчанка, песок, полярная ива, северный олень, сосна, лиственница, бурундук, ель, лемминг, соболь.

Задание 3. (10 баллов)

1) Подпишите на схематическом рисунке названия планет Солнечной системы.



2) Почему на Земле происходит смена времён года?

Из-за того что земля крутится вокруг Солнца и получает ^{одна} половина в тени, а другая в свету, там где свет день, а где тень ночь.

95

Задание 4. (6 баллов)

1) Выберите из списка и выпишите слова (это элементы культуры, растения, животные, географические названия и т.п.), связанные с Японией и Индией:

Тадж-Махал, сакура, Токио, рупия, Хонсю, Нью-Дели, кимоно, Фудзи, Ганг, иена, хокку, сари.

Япония:

Токио, сакура, кимоно, Хонсю, Нью-Дели, Ганг, хокку.

Индия:

Мадрас[†] - Момбай, Руптур, Пудучи, Ченнаи, Сачи.

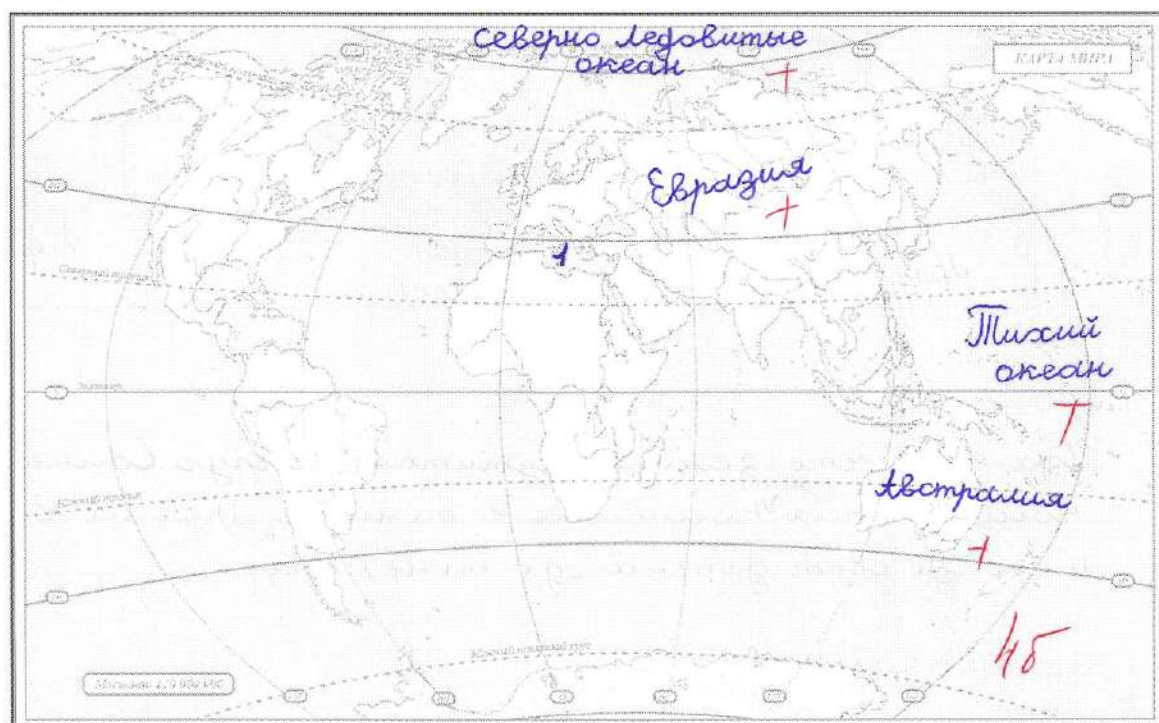
48.

Задание 5. (7 баллов)

На контурной карте надпишите названия:

- самого большого материка
- самого маленького материка
- самого большого океана
- самого маленького океана
- крупнейшего острова
- крупнейшего полуострова

Цифрой 1 обозначьте Балтийское море



Тестовый тур

На каждый вопрос даны четыре варианта ответов.

Выберите только один правильный и внесите его в матрицу ответов.

Максимально 16 баллов, по 1 баллу за каждый правильный ответ.

1. С какой из этих стран Россия не граничит?

- а) Индия б) Казахстан в) Китай г) Финляндия

2. Какие из этих морей омывают берега России?

- а) Красное и Белое б) Чёрное и Жёлтое
в) Белое и Чёрное г) Жёлтое и Красное

3. Какой природной зоны нет в России?

- а) степи б) тайги в) тундры г) саванны

4. Что в переводе с греческого языка означает слово «география»?

- а) «изучение Земли» б) «землеописание»
в) «изучение природы» г) «описание природы»

5. Какие океаны омывают Африку?

- а) Тихий и Атлантический
 б) Индийский и Атлантический
в) Тихий и Индийский
г) Северный Ледовитый и Индийский

6. Какой материк открыли позже других материков?

- а) Северную Америку б) Австралию в) Антарктиду г) Южную Америку

7. Как вращение Земли вокруг оси отражается на явлениях в природе?

- а) реки стекают с возвышенностей в более низкие места
б) происходит смена дня и ночи
 в) происходит смена времён года
г) возникают приливы и отливы

8. Какое полезное ископаемое добывают в Калининградской области?

- а) железные руды б) каменный уголь
в) торф г) медные руды

9. Какой город не является столицей?

- а) Венеция б) Пекин в) Париж г) Минск

4/2/8/4.5/11-28 335.

Шифр

Г-05-04

Всероссийская олимпиада школьников по географии. 2023-2024 учебный год.

Школьный этап. 5 класс

Начинать работу можно с любого задания, однако, мы рекомендуем выполнять задания в том порядке, в котором они даны. Если какое-то задание вызывает у вас затруднение, пропустите его и постарайтесь выполнить те, в ответах на которые вы уверены. К пропущенным заданиям можно будет вернуться, если у вас останется время.

Общее время выполнения работы - 75 минут

Максимальная сумма баллов – 62

Во время выполнения заданий не допускается использование атласов и других источников информации.

Теоретический тур

Задание 1. (6 баллов)

Отгадайте загадки:

1) Он и летом, и зимой –

Между небом и землёй.

Хоть всю жизнь к нему иди –

Он всё время впереди!

Грибок Т

2) Безобидны, травоядны,

Не в полосках и не в пятнах,

Сумка есть и длинный хвост,

Плюс к тому – немалый рост.

Австралийскую жару

Очень любят ...

Кенгурю Т

3) Он король полярных льдин,
 Черно-белый господин.
 Ух, для птички он велик!
 Ходит очень важно.
 Самый южный материк
 Заселил отважно.

пингвин †

4) Подрастал, подрастал,
 Был рогатым – круглым стал.
 Только круг, чудо-круг,
 Стал опять рогатым вдруг.

олень

5) Утром бусы засверкали,
 Всю траву собой заткали,
 А пошли искать их днём –
 Ищем, ищем – не найдём!

шмель

6) Все обходят это место:
 Здесь земля – как будто тесто,
 Тут осока, кочки, мхи,
 Нет опоры для ноги.

болото †

48

Задание 2. (17 баллов)

Заполните таблицу, используя список растений и животных.

Природная зона	Растения	Животные
Тундра	мох карликовая береза тысячелистник	соболь
Тайга	ель †	полярный олень

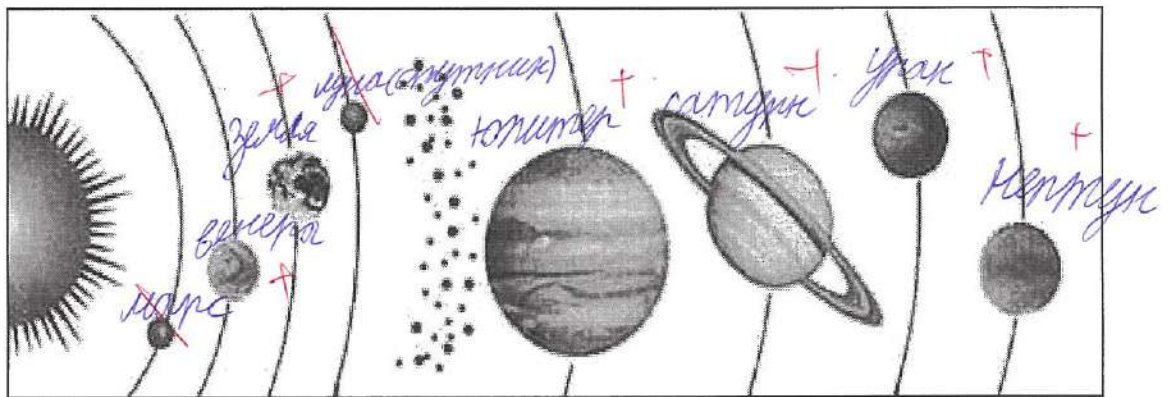
Пустыня	Верблюжья колючка	Лемминг
---------	----------------------	---------

25

Растения и животные: пихта, карликовая берёза, тушканчик, рябчик, белая сова, рысь, верблюжья колючка, песчанка, песок, полярная ива, северный олень, сосна, лиственница, бурундук, ель, лемминг, соболь.

Задание 3. (10 баллов)

1) Подпишите на схематическом рисунке названия планет Солнечной системы.



2) Почему на Земле происходит смена времён года?

потому что, земля ^{свой} вращается вокруг солнца и свет от солнца падает только на одну часть полушария Земли

Задание 4. (6 баллов)

1) Выберите из списка и выпишите слова (это элементы культуры, растения, животные, географические названия и т.п.), связанные с Японией и Индией:

Тадж-Махал, сакура, Токио, рупия, Хонсю, Нью-Дели, кимоно, Фудзи, Ганг, иена, хокку, сари.

Япония:

сакура, ~~Тадж-Махал~~, ~~Токио~~, ~~рупия~~, ~~Хонсю~~, Фудзи, сари, ~~Нью-Дели~~

Индия:

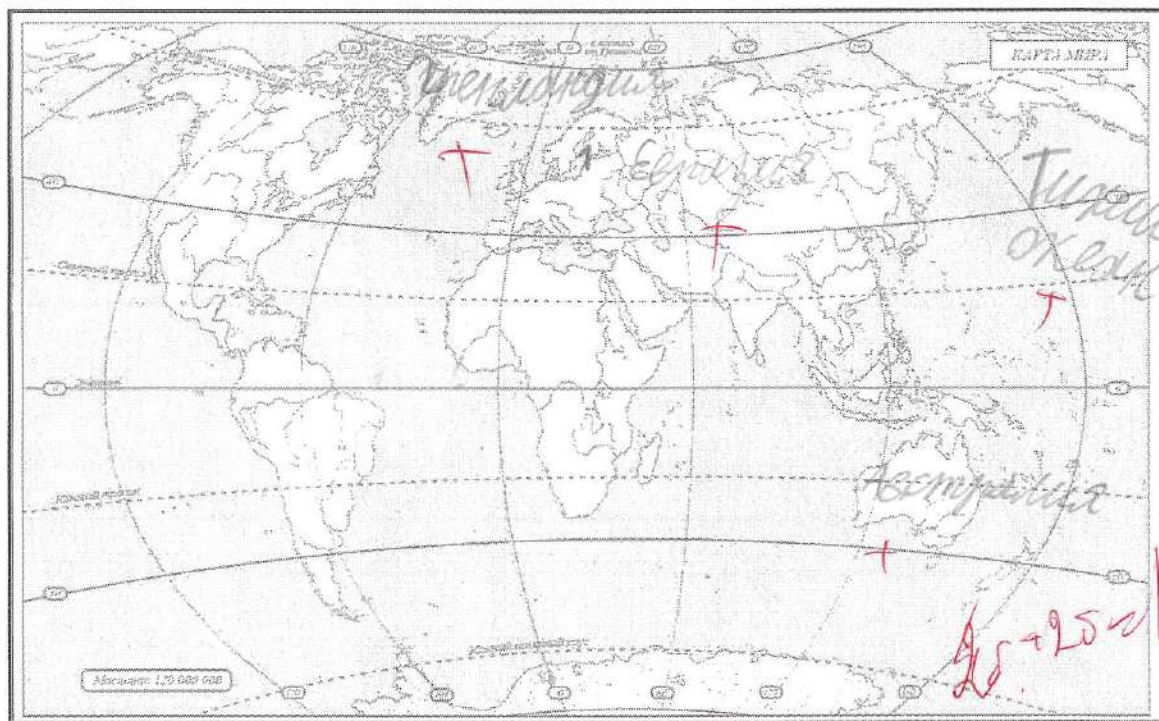
руссия, Голландия, Япония, Австралия 4,5 б

Задание 5. (7 баллов)

На контурной карте надпишите названия:

- самого большого материка
- самого маленького материка
- самого большого океана
- самого маленького океана
- крупнейшего острова
- крупнейшего полуострова

Цифрой 1 обозначьте Балтийское море



Тестовый тур

На каждый вопрос даны четыре варианта ответов.

Выберите только один правильный и внесите его в матрицу ответов.

Максимально 16 баллов, по 1 баллу за каждый правильный ответ.

1. С какой из этих стран Россия не граничит?

- а) Индия б) Казахстан в) Китай г) Финляндия

2. Какие из этих морей омывают берега России?

- а) Красное и Белое б) Чёрное и Жёлтое
в) Белое и Чёрное г) Жёлтое и Красное

3. Какой природной зоны нет в России?

- а) степи б) тайги в) тундры г) саванны

4. Что в переводе с греческого языка означает слово «география»?

- а) «изучение Земли» б) «землеописание»
в) «изучение природы» г) «описание природы»

5. Какие океаны омывают Африку?

- а) Тихий и Атлантический
б) Индийский и Атлантический
в) Тихий и Индийский
 г) Северный Ледовитый и Индийский

6. Какой материк открыли позже других материков?

- а) Северную Америку б) Австралию в) Антарктиду г) Южную Америку

7. Как вращение Земли вокруг оси отражается на явлениях в природе?

- а) реки стекают с возвышенностей в более низкие места
 б) происходит смена дня и ночи
в) происходит смена времён года
г) возникают приливы и отливы

8. Какое полезное ископаемое добывают в Калининградской области?

- а) железные руды б) каменный уголь
 в) торф г) медные руды

9. Какой город не является столицей?

- а) Венеция б) Пекин в) Париж г) Минск

10. Что производят на заводе «Янтарь» в городе Калининграде?

- а) сыр б) украшения в) вагоны г) корабли

11. С какой страной граничит Калининградская область?

- а) Латвия б) Белоруссия в) Польша г) Германия

12. Какой океан является самым маленьким по площади?

- а) Тихий б) Северный Ледовитый
в) Индийский г) Атлантический

13. В какой стране традиционной женской одеждой является сари?

- а) Индия б) Япония в) Бразилия г) Китай

14. На флаге какого государства изображён красный круг, символизирующий Солнце?

- а) Египет б) Индия в) Япония г) Китай

15. Какую достопримечательность можно увидеть в городе, основанном Петром Первым?

- а) памятник «Медный всадник»
б) Собор Василия Блаженного
в) Царь-колокол
г) Третьяковскую галерею

16. Какие животные изображены на гербе Австралийского Союза?

- а) зебра и носорог б) кенгуру и эму
в) колибри и ягуар г) павлин и панда

Матрица для записи ответов

1	2	3	4	5	6	7	8	9	10
а+	а	з+	б+	а	а-	б+	в+	а+	а

11	12	13	14	15	16
в+	в	а+	в+	а+	б+

115.

Шифр

Г-05-05

2/14/8/2/0/70 335

Всероссийская олимпиада школьников по географии. 2023-2024 учебный год.

Школьный этап. 5 класс

Начинать работу можно с любого задания, однако, мы рекомендуем выполнять задания в том порядке, в котором они даны. Если какое-то задание вызывает у вас затруднение, пропустите его и постарайтесь выполнить те, в ответах на которые вы уверены. К пропущенным заданиям можно будет вернуться, если у вас останется время.

Общее время выполнения работы - 75 минут

Максимальная сумма баллов – 62

Во время выполнения заданий не допускается использование атласов и других источников информации.

Теоретический тур

Задание 1. (6 баллов)

Отгадайте загадки:

1) Он и летом, и зимой –

Между небом и землёй.

Хоть всю жизнь к нему иди –

Он всё время впереди!

~~Ветер~~ _____

2) Безобидны, травоядны,

Не в полосках и не в пятнах,

Сумка есть и длинный хвост,

Плюс к тому – немалый рост.

Австралийскую жару

Очень любят ...

Кенгуру + _____

3) Он король полярных льдин,
 Черно-белый господин.
 Ух, для птички он велик!
 Ходит очень важно.
 Самый южный материк
 Заселил отважно.

~~Антарктида~~ +
 Пингвин

4) Подрастал, подрастал,
 Был рогатым – круглым стал.
 Только круг, чудо-круг,
 Стал опять рогатым вдруг.

5) Утром бусы засверкали,
 Всю траву собой заткали,
 А пошли искать их днём –
 Ищем, ищем – не найдём!

6) Все обходят это место:
 Здесь земля – как будто тесто,
 Тут осока, кочки, мхи,
 Нет опоры для ноги.

Задание 2. (17 баллов)

Заполните таблицу, используя список растений и животных.

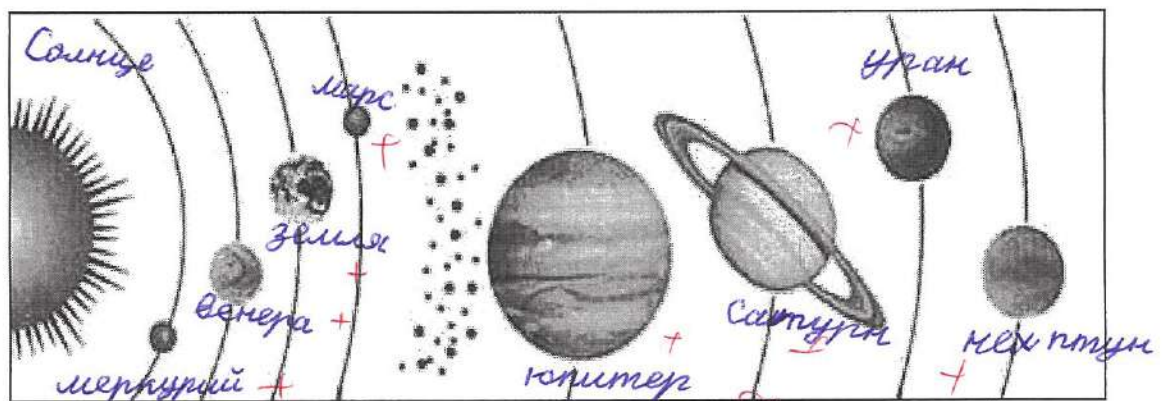
Природная зона	Растения	Животные
Тундра	карликовая берёза, + полярная ива, +	песец, северный олень, + +
Тайга	лиственница, + ель, сосна, +	рысь, заяц, белая сова, + бурый медведь, лось, + соболь, +

Пустыня	верблюжья колючка, тушканчик, песчанка	+	148
---------	--	---	-----

Растения и животные: пихта, карликовая берёза, тушканчик, рябчик, белая сова, рысь, верблюжья колючка, песчанка, песок, полярная ива, северный олень, сосна, лиственница, бурундук, ель, лемминг, соболь.

Задание 3. (10 баллов)

1) Подпишите на схематическом рисунке названия планет Солнечной системы.



2) Почему на Земле происходит смена времён года?

Задание 4. (6 баллов)

1) Выберите из списка и выпишите слова (это элементы культуры, растения, животные, географические названия и т.п.), связанные с Японией и Индией:

Тадж-Махал, сакура, Токио, рупия, Хонсю, Нью-Дели, кимоно, Фудзи, Ганг, иена, хокку, сари.

Япония: + +

сакура, Токио

Индия:

9

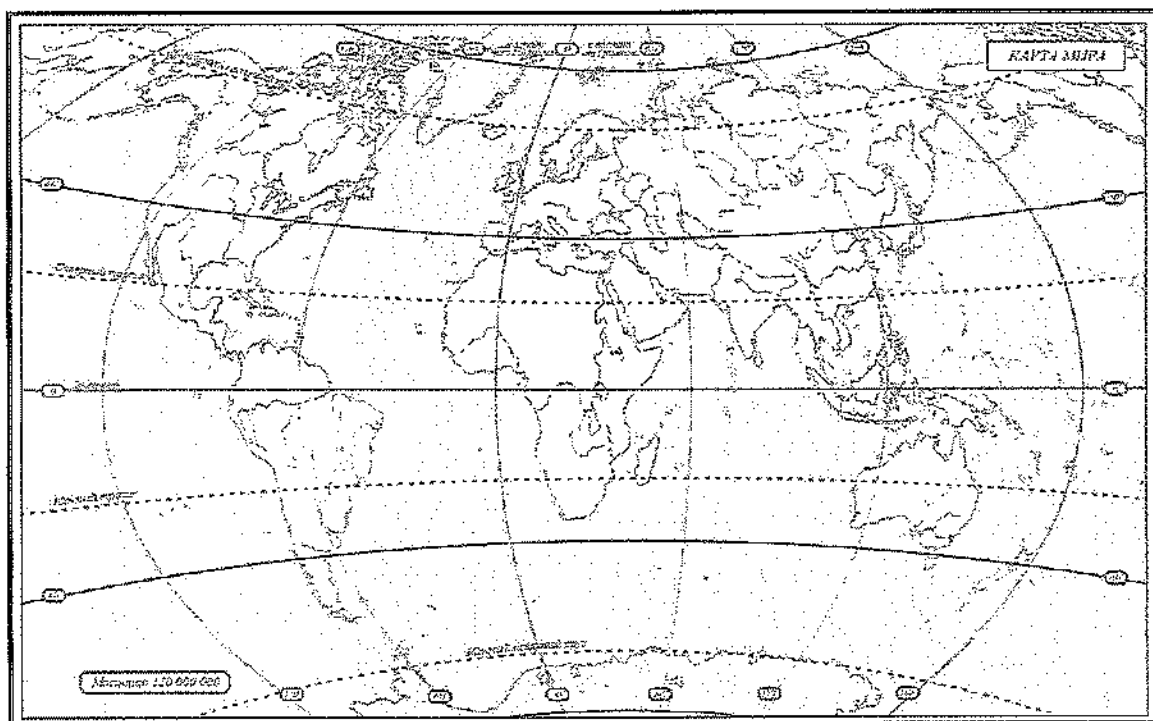
Задание 5. (7 баллов)

На контурной карте подпишите названия:

- самого большого материка
- самого маленького материка
- самого большого океана
- самого маленького океана
- крупнейшего острова
- крупнейшего полуострова

Цифрой 1 обозначьте Балтийское море

05



Тестовый тур

На каждый вопрос даны четыре варианта ответов.

Выберите только один правильный и внесите его в матрицу ответов.

Максимально 16 баллов, по 1 баллу за каждый правильный ответ.

1. С какой из этих стран Россия не граничит?

- а) Индия б) Казахстан в) Китай г) Финляндия

2. Какие из этих морей омывают берега России?

- а) Красное и Белое б) Чёрное и Жёлтое
в) Белое и Чёрное г) Жёлтое и Красное

3. Какой природной зоны нет в России?

- а) степи б) тайги в) тундры г) саванны

4. Что в переводе с греческого языка означает слово «география»?

- а) «изучение Земли» б) «землеописание»
в) «изучение природы» г) «описание природы»

5. Какие океаны омывают Африку?

- а) Тихий и Атлантический
б) Индийский и Атлантический
в) Тихий и Индийский
г) Северный Ледовитый и Индийский

6. Какой материк открыли позже других материков?

- а) Северную Америку б) Австралию в) Антарктиду г) Южную Америку

7. Как вращение Земли вокруг оси отражается на явлениях в природе?

- а) реки стекают с возвышенностей в более низкие места
б) происходит смена дня и ночи
в) происходит смена времён года
г) возникают приливы и отливы

8. Какое полезное ископаемое добывают в Калининградской области?

- а) железные руды б) каменный уголь
в) торф г) медные руды

9. Какой город не является столицей?

- а) Венеция б) Пекин в) Париж г) Минск

10. Что производят на заводе «Янтарь» в городе Калининграде?

- а) сыр б) украшения в) вагоны г) корабли

11. С какой страной граничит Калининградская область?

- а) Латвия б) Белоруссия в) Польша г) Германия

12. Какой океан является самым маленьким по площади?

- а) Тихий б) Северный Ледовитый
в) Индийский г) Атлантический

13. В какой стране традиционной женской одеждой является сари?

- а) Индия б) Япония в) Бразилия г) Китай

14. На флаге какого государства изображён красный круг, символизирующий Солнце?

- а) Египет б) Индия в) Япония г) Китай

15. Какую достопримечательность можно увидеть в городе, основанном Петром Первым?

- а) памятник «Медный всадник»
б) Собор Василия Блаженного
в) Царь-колокол
г) Третьяковскую галерею

16. Какие животные изображены на гербе Австралийского Союза?

- а) зебра и носорог б) кенгуру и эму
в) колибри и ягуар г) павлин и панда

Матрица для записи ответов

1	2	3	4	5	6	7	8	9	10

11	12	13	14	15	16

Шифр

Г-06-02

Всероссийская олимпиада школьников по географии. 2023-2024 учебный год.

Школьный этап. 6 класс

Начинать работу можно с любого задания, однако, мы рекомендуем выполнять задания в том порядке, в котором они даны. Если какое-то задание вызывает у вас затруднение, пропустите его и постарайтесь выполнить те, в ответах на которые вы уверены. К пропущенным заданиям можно будет вернуться, если у вас останется время.

Общее время выполнения работы - 75 минут

Максимальная сумма баллов – 48

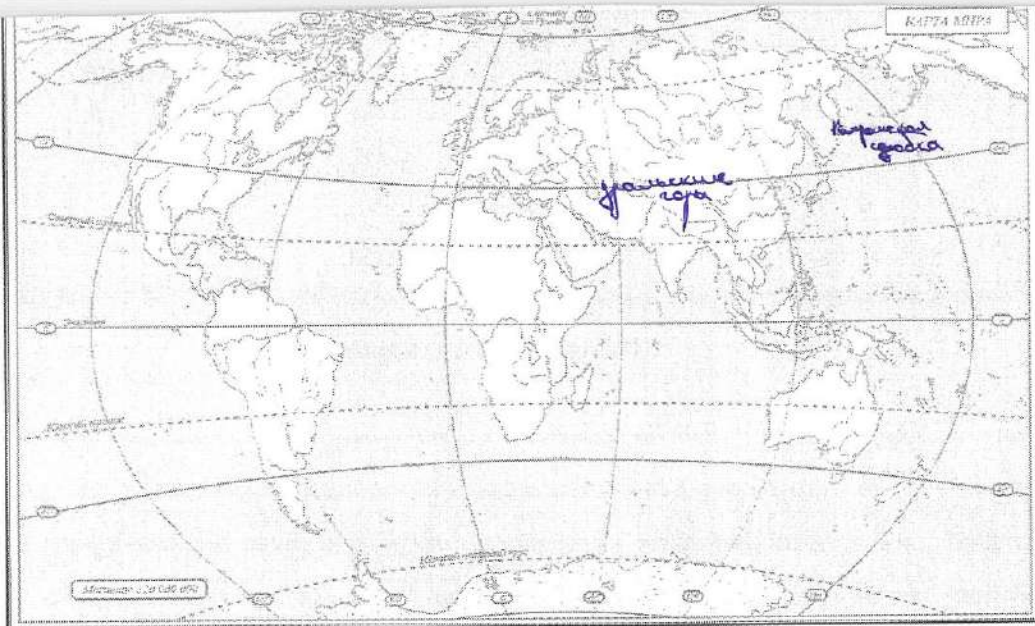
Во время выполнения заданий не допускается использование атласов и других источников информации.

Теоретический тур

Задание 1. (8 баллов)

На контурной карте надпишите названия:

- самого-высокого-действующего вулкана мира
- самой высокой в мире горной системы
- самой длинной в мире горной системы
- крупнейшей равнины Земли
- самой длинной горной системы России
- самой высокой горной системы России (можно обозначить цифрой и расшифровать)
- самого высокого действующего вулкана России



Как называется самая высокая горная вершина в мире?

Эверест

Как называется самая высокая горная вершина России?

1 ~~Дальние горы~~

Задание 2. (2 балла)

Почему на Земле происходит смена времён года?

1 Потому что Земля вращается вокруг солнца.

Задание 3. (3 балла)

Во время похода по родному краю его участники пользуются картой, масштаб которой 1:1 000 000. Сколько понадобится времени, чтобы проехать из одного города в другой на велосипедах со скоростью 12 км/час, если на карте расстояние между этими двумя городами по дороге равно 6 см? Ход рассуждений запишите.

3 $6 \text{ см} = 600 \text{ м}$, $600 \text{ м} : 12 \text{ км/ч} = 5 \text{ часов}$
 Ответ: 5 часов

Задание 4. (15 баллов)

11

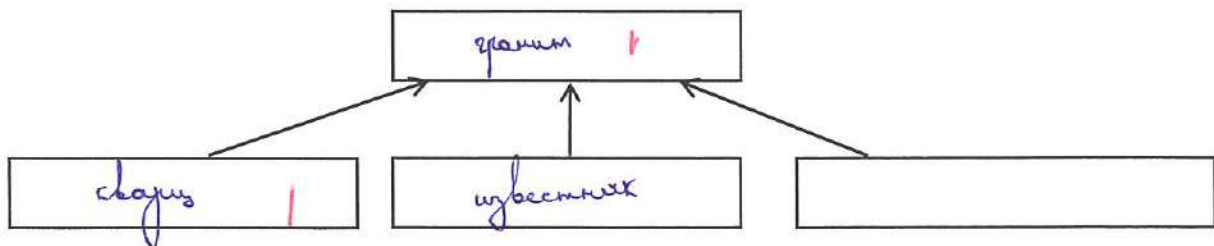
К каким полезным ископаемым относится информация? В качестве ответов укажите их порядковые номера.

1. Железная руда
2. Торф
3. Нефть
4. Гранит
5. Песок
6. Известняк

Информация о полезных ископаемых:

- 1) Состоит из трёх минералов: гранит 4 |
- 2) Являются горючими, используются как топливо. нефть 3 |
- 3) Из этого полезного ископаемого выплавляют чугун, сталь. железная руда 1 |
- 4) Используется в качестве удобрения, подстилки в животноводстве. 2 |
- 5) Используется для получения бензина. нефть 3 |
- 6) Его образование связано со скелетами, раковинами морских организмов. 6 |
- 7) Состоит из кальцита. 6 |
- 8) Его образование и добыча связаны с болотами. 2 |
- 9) Является обломочной осадочной горной породой. 5 |
- 10) При изменении физико-химических условий превращается в мрамор. 4

Заполните схему для полезного ископаемого, состоящего из трёх минералов:



Задание 5. (4 балла)

Ответьте на вопросы, прочитав стихотворные и прозаические отрывки.

1)

А кругом на широких равнинах,

Где трава укрывает жирафа,

.....

Он раскинул тенистые рощи

Прихотливых мимоз и акаций,
Рассадил по холмам баобабы,
В галереях лесов, где прохладно
И светло, как в дорическом храме,
Он провёл многоводные реки...

— О каком материке пишет Н.Гумилёв? Штормая Америка

2)

_____ зев открыл – дым хлынул клубом – пламя
Широко развилось, как боевое знамя.
Земля волнуется – с шатнувшихся колонн
Кумиры падают! Народ, гонимый страхом,
Толпами, стар и млад, под воспаленным прахом,
Под каменным дождем бежит из града вон.

Название какого вулкана пропущено (напечатана линия) в строчках А.Пушкина, созданных под впечатлением картины К.Брюллова «Последний день Помпеи»? Везувий

3) По этому поясу земли, говорят, широкая лента украшения прошла из дорогих камней. Всякие есть, а больше сзелена, да иссиня. Изумруды, александриты, аквамарины, аметисты. А по самой серёдке этой хребтины двойной ряд хризолитов.

— О какой горной системе пишет в своих сказах П.Бажов? Сильна

4) Но в болотах вода не даёт родителям-растениям передать всё своё добро детям. Тысячи лет это добро под водой сохраняется, болото становится кладовой солнца, и потом вся эта кладовая солнца как _____ достаётся человеку от солнца в наследство.

Название какого полезного ископаемого пропущено (напечатана линия) в отрывке из произведения М.Пришвина «Кладовая солнца»? то нефть

Тестовый тур

На каждый вопрос даны четыре варианта ответов.

Выберите только один правильный и внесите его в матрицу ответов.

Максимально 16 баллов, по 1 баллу за каждый правильный ответ.

10. Выберите самую длинную реку, полностью протекающую по территории Калининградской области:

- а) Лава б) Неман в) Анграпа г) Преголя

11. С какой из этих стран граничит Россия?

- а) Турция б) Норвегия в) Индия г) Германия

12. Какое море не омывает берега России?

- а) Северное б) Чёрное в) Карское г) Берингово

13. Литосфера – это:

- а) вещество между ядром и земной корой
 б) твёрдое ядро Земли
 в) верхняя твёрдая оболочка Земли
 г) водная оболочка Земли

14. Вулкан, извержение которого уничтожило древний город Помпеи, называется:

- а) Этна б) Кракатау в) Везувий г) Фудзияма

15. Какое из утверждений о градусной сети является верным?

- а) Меридиан направлен на север и на юг.
 б) Параллели имеют одинаковую длину.
 в) Меридиан направлен на запад и на восток.
 г) Нулевой меридиан – самый длинный.

16. Какой материк пересекают все меридианы?

- а) Австралия б) Африка в) Евразия г) Антарктида

Матрица для записи ответов

1	2	3	4	5	6	7	8	9	10
2-	б+	2+	а+	2-	а-	2-	2+	б+	2+

10

11	12	13	14	15	16
б+	б-	б+	б+	а+	б-

1. Кто открыл морской путь из Европы в Индию?

- а) Васко да Гама б) Джеймс Кук
в) Афанасий Никитин г) Марко Поло

2. В Калининградской области добывают:

- а) золото б) железные руды
в) торф г) гранит

3. Суслик и дрофа обитают:

- а) в тундре б) в тайге
в) в широколиственных лесах г) в степях

4. Мореплаватели Ф.Ф.Беллинсгаузен и М.П.Лазарев:

- а) открыли Антарктиду
б) исследовали Северный Ледовитый океан
в) открыли Северную Америку
г) нашли пролив между Евразией и Северной Америкой

5. Какова высота Джомолунгмы?

- а) 9949 м б) 8848 м в) 7747 м г) 6646 м

6. Что изучают сейсмологи?

- а) ледники б) землетрясения в) ураганы г) озёра

7. Какой объект Всемирного наследия находится не на территории России?

- а) вулканы Камчатки б) погост Кижии
в) мавзолей Тадж-Махал г) озеро Байкал

8. В какую из стран ты сможешь попасть, если поедешь на юг Европы?

- а) в Норвегию б) в Финляндию
в) в Швейцарию г) в Грецию

9. Какие горы находятся в России?

- а) Анды б) Гималаи в) Алтай г) Альпы

Шифр

Г-06-09

Всероссийская олимпиада школьников по географии. 2023-2024 учебный год.

Школьный этап. 6 класс

Начинать работу можно с любого задания, однако, мы рекомендуем выполнять задания в том порядке, в котором они даны. Если какое-то задание вызывает у вас затруднение, пропустите его и постарайтесь выполнить те, в ответах на которые вы уверены. К пропущенным заданиям можно будет вернуться, если у вас останется время.

Общее время выполнения работы - 75 минут

Максимальная сумма баллов – 48

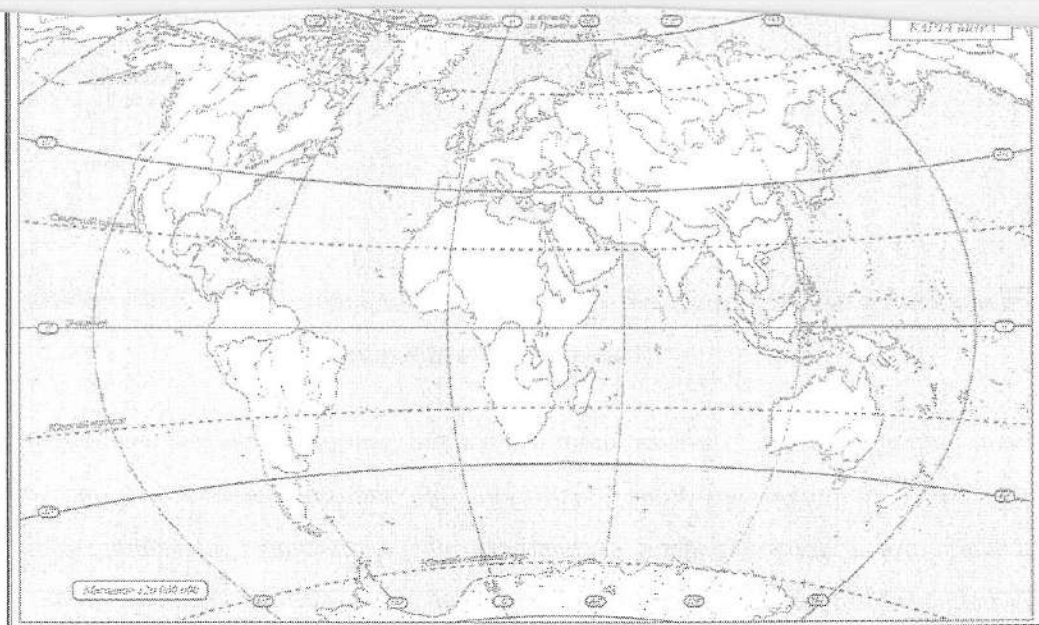
Во время выполнения заданий не допускается использование атласов и других источников информации.

Теоретический тур

Задание 1. (8 баллов)

На контурной карте напишите названия:

- самого высокого действующего вулкана мира
- самой высокой в мире горной системы
- самой длинной в мире горной системы
- крупнейшей равнины Земли
- самой длинной горной системы России
- самой высокой горной системы России (можно обозначить цифрой и расшифровать)
- самого высокого действующего вулкана России



Как называется самая высокая горная вершина в мире?

Эверест

Как называется самая высокая горная вершина России?

Задание 2. (2 балла)

Почему на Земле происходит смена времён года?

Земля вращается вокруг своей оси.

Задание 3. (3 балла)

Во время похода по родному краю его участники пользуются картой, масштаб которой 1:1 000 000. Сколько понадобится времени, чтобы проехать из одного города в другой на велосипедах со скоростью 12 км/час, если на карте расстояние между этими двумя городами по дороге равно 6 см? Ход рассуждений запишите.

Задание 4. (15 баллов)

К каким полезным ископаемым относится информация? В качестве ответов укажите их порядковые номера.

- 1. Железная руда
- 2. Торф
- 3. Нефть
- 4. Гранит
- 5. Песок
- 6. Известняк

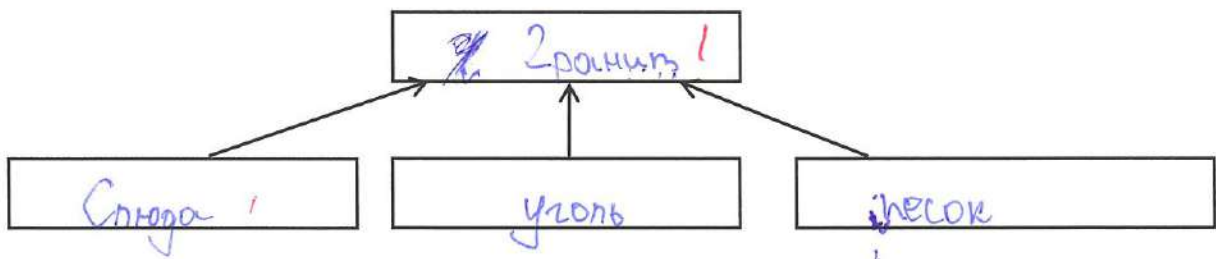
Информация о полезных ископаемых:

- 1) Состоит из трёх минералов. 4 ¹
- 2) Являются горючими, используются как топливо. 3 ¹
- 3) Из этого полезного ископаемого выплавляют чугун, сталь. 1 ¹
- 4) Используется в качестве удобрения, подстилки в животноводстве. 2 ¹
- 5) Используется для получения бензина. 3 ¹
- 6) Его образование связано со скелетами, раковинами морских организмов. —
- 7) Состоит из кальцита. 6 ¹
- 8) Его образование и добыча связаны с болотами. 2 ¹
- 9) Является обломочной осадочной горной породой. 5 ¹
- 10) При изменении физико-химических условий превращается в мрамор. 5 [—]

85

Заполните схему для полезного ископаемого, состоящего из трёх минералов:

25



Задание 5. (4 балла)

Ответьте на вопросы, прочитав стихотворные и прозаические отрывки.

1)

А кругом на широких равнинах,

Где трава укрывает жирафа,

.....

Он раскинул тенистые рощи

Прихотливых мимоз и акаций,
Рассадил по холмам баобабы,
В галереях лесов, где прохладно
И светло, как в дорическом храме,
Он провёл многоводные реки...

О каком материке пишет Н.Гумилёв? Африка

2)

_____ зев открыл – дым хлынул клубом – пламя

Широко развилось, как боевое знамя.

Земля волнуется – с шатнувшихся колонн

Кумиры падают! Народ, гонимый страхом,

Толпами, стар и млад, под воспаленным прахом,

Под каменным дождем бежит из града вон.

Название какого вулкана пропущено (напечатана линия) в строчках А.Пушкина, созданных под впечатлением картины К.Брюллова «Последний день Помпеи»? Везувий

3) По этому поясу земли, говорят, широкая лента украшения прошла из дорогих камней. Всякие есть, а больше сзелена, да иссиня. Изумруды, александриты, аквамарины, аметисты. А по самой серёдке этой хребтины двойной ряд хризолитов.

О какой горной системе пишет в своих сказах П.Бажов? _____

4) Но в болотах вода не даёт родителям-растениям передать всё своё добро детям. Тысячи лет это добро под водой сохраняется, болото становится кладовой солнца, и потом вся эта кладовая солнца как _____ достаётся человеку от солнца в наследство.

35
Название какого полезного ископаемого пропущено (напечатана линия) в отрывке из произведения М.Пришвина «Кладовая солнца»? Торф

Тестовый тур

На каждый вопрос даны четыре варианта ответов.

Выберите только один правильный и внесите его в матрицу ответов.

Максимально 16 баллов, по 1 баллу за каждый правильный ответ.

1. Кто открыл морской путь из Европы в Индию?

- а) Васко да Гама б) Джеймс Кук
в) Афанасий Никитин г) Марко Поло

2. В Калининградской области добывают:

- а) золото б) железные руды
в) торф г) гранит

3. Суслик и дрофа обитают:

- а) в тундре б) в тайге
в) в широколиственных лесах г) в степях

4. Мореплаватели Ф.Ф.Беллинсгаузен и М.П.Лазарев:

- а) открыли Антарктиду
б) исследовали Северный Ледовитый океан
в) открыли Северную Америку
г) нашли пролив между Евразией и Северной Америкой

5. Какова высота Джомолунгмы?

- а) 9949 м б) 8848 м в) 7747 м г) 6646 м

6. Что изучают сейсмологи?

- а) ледники б) землетрясения в) ураганы г) озёра

7. Какой объект Всемирного наследия находится не на территории России?

- а) вулканы Камчатки б) погост Кижы
в) мавзолей Тадж-Махал г) озеро Байкал

8. В какую из стран ты сможешь попасть, если поедешь на юг Европы?

- а) в Норвегию б) в Финляндию
в) в Швейцарию г) в Грецию

9. Какие горы находятся в России?

- а) Анды б) Гималаи в) Алтай г) Альпы

10. Выберите самую длинную реку, полностью протекающую по территории Калининградской области:

- а) Лава б) Неман в) Анграпа г) Преголя

11. С какой из этих стран граничит Россия?

- а) Турция б) Норвегия в) Индия г) Германия

12. Какое море не омывает берега России?

- а) Северное б) Чёрное в) Карское г) Берингово

13. Литосфера – это:

- а) вещество между ядром и земной корой
б) твёрдое ядро Земли
в) верхняя твёрдая оболочка Земли
г) водная оболочка Земли

14. Вулкан, извержение которого уничтожило древний город Помпеи, называется:

- а) Этна б) Кракатау в) Везувий г) Фудзияма

15. Какое из утверждений о градусной сети является верным?

- а) Меридиан направлен на север и на юг.
б) Параллели имеют одинаковую длину.
в) Меридиан направлен на запад и на восток.
г) Нулевой меридиан – самый длинный.

16. Какой материк пересекают все меридианы?

- а) Австралия б) Африка в) Евразия г) Антарктида

Матрица для записи ответов

1	2	3	4	5	6	7	8	9	10
д-	б+	е+	а+	з-	в-	д-	в-	б+	з+

11	12	13	14	15	16
е-	в-	в+	б+	д-	з+

Шифр

Г-06-07

Всероссийская олимпиада школьников по географии. 2023-2024 учебный год.

Школьный этап. 6 класс

Начинать работу можно с любого задания, однако, мы рекомендуем выполнять задания в том порядке, в котором они даны. Если какое-то задание вызывает у вас затруднение, пропустите его и постарайтесь выполнить те, в ответах на которые вы уверены. К пропущенным заданиям можно будет вернуться, если у вас останется время.

Общее время выполнения работы - 75 минут

Максимальная сумма баллов – 48

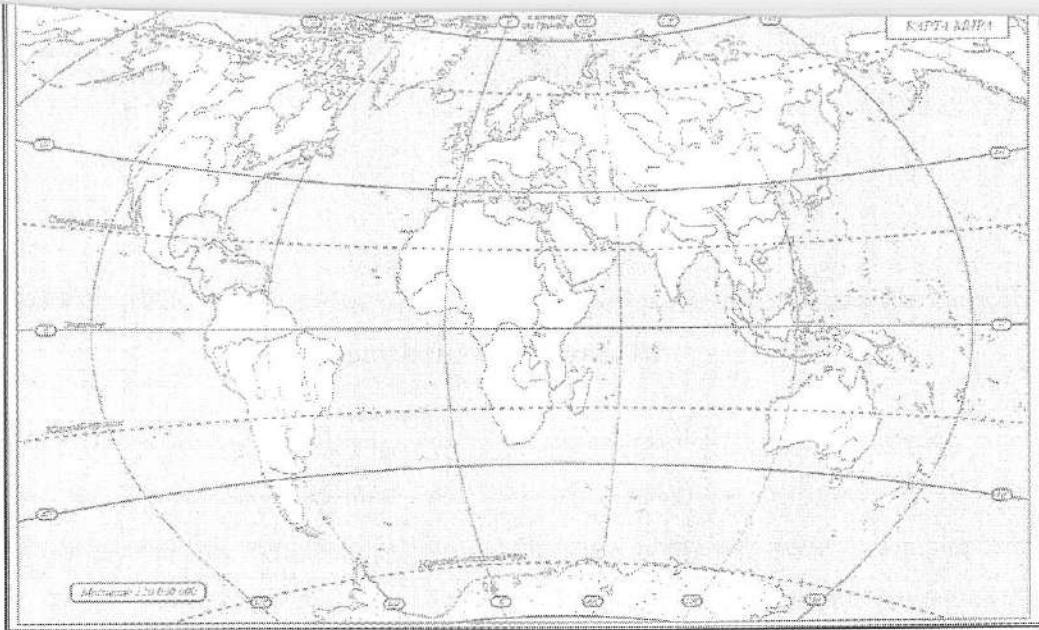
Во время выполнения заданий не допускается использование атласов и других источников информации.

Теоретический тур

Задание 1. (8 баллов)

На контурной карте напишите названия:

- самого высокого действующего вулкана мира
- самой высокой в мире горной системы
- самой длинной в мире горной системы
- крупнейшей равнины Земли
- самой длинной горной системы России
- самой высокой горной системы России (можно обозначить цифрой и расшифровать)
- самого высокого действующего вулкана России



Как называется самая высокая горная вершина в мире?

1 Эверест

Как называется самая высокая горная вершина России?

Задание 2. (2 балла)

Почему на Земле происходит смена времён года?

1 Из-за вращения Земли вокруг Солнца.

Задание 3. (3 балла)

Во время похода по родному краю его участники пользуются картой, масштаб которой 1:1 000 000. Сколько понадобится времени, чтобы проехать из одного города в другой на велосипедах со скоростью 12 км/час, если на карте расстояние между этими двумя городами по дороге равно 6 см? Ход рассуждений запишите.

35 В 1 км 1000 м, а в 1 м 100 см, 1 км = ~~10~~ км = 10 000 см. Масштаб 1:1 000 000 (в одном см на карте 1 000 000 см на местности) = 6 см 10 км. $S = \text{расстояние}$ 60 см; $V = 12 \text{ км/ч}$. $T = S : V = 60 : 12 = 4 \text{ ч}$
 Ответ: ~~4~~ 5 ч

$$\begin{array}{r} 60 \overline{) 12} \\ \underline{60} \\ 0 \end{array}$$

Задание 4. (15 баллов)

К каким полезным ископаемым относится информация? В качестве ответов укажите их порядковые номера.

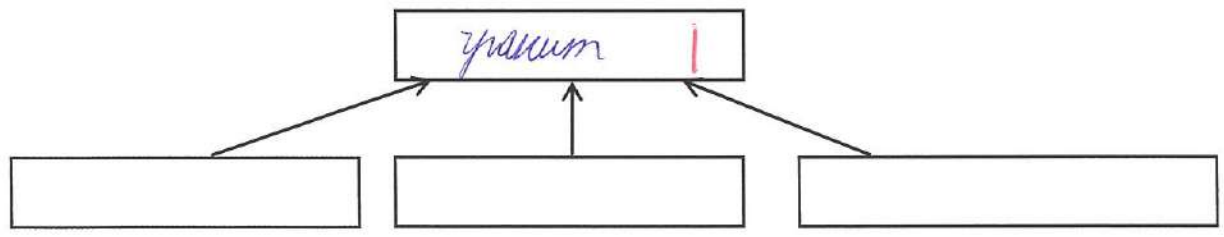
- ° 1. Железная руда
- ° 2. Торф
- ° 3. Нефть
- ° 4. Гранит
- ° 5. Песок
- ° 6. Известняк

Информация о полезных ископаемых:

- 1) Состоит из трёх минералов. 4 |
- 2) Являются горючими, используются как топливо. 3, 2 | 2
- 3) Из этого полезного ископаемого выплавляют чугун, сталь. 1 -
- 4) Используется в качестве удобрения, подстилки в животноводстве. 2 |
- 5) Используется для получения бензина. 3 |
- 6) Его образование связано со скелетами, раковинами морских организмов. 6 |
- 7) Состоит из кальцита. 5 -
- 8) Его образование и добыча связаны с болотами. 2 -
- 9) Является обломочной осадочной горной породой. 4
- 10) При изменении физико-химических условий превращается в мрамор. 4

7

Заполните схему для полезного ископаемого, состоящего из трёх минералов:



Задание 5. (4 балла)

Ответьте на вопросы, прочитав стихотворные и прозаические отрывки.

1)
 А кругом на широких равнинах,
 Где трава укрывает жирафа,

 Он раскинул тенистые рощи

Прихотливых мимоз и акаций,
Рассадила по холмам баобабы,
В галереях лесов, где прохладно
И светло, как в дорическом храме,
Он провёл многоводные реки...

О каком материке пишет Н.Гумилёв? австралия

2)

_____ зев открыл – дым хлынул клубом – пламя

Широко развилось, как боевое знамя.

Земля волнуется – с шатнувшихся колонн

Кумиры падают! Народ, гонимый страхом,

Толпами, стар и млад, под воспаленным прахом,

Под каменным дождем бежит из града вон.

Название какого вулкана пропущено (напечатана линия) в строчках А.Пушкина, созданных под впечатлением картины К.Брюллова «Последний день Помпеи»? Везувий Везувий

3) По этому поясу земли, говорят, широкая лента украшения прошла из дорогих камней. Всякие есть, а больше сзелена, да иссиня. Изумруды, александриты, аквамарины, аметисты. А по самой серёдке этой хребтины двойной ряд хризолитов.

О какой горной системе пишет в своих сказах П.Бажов? Уральские

4) Но в болотах вода не даёт родителям-растениям передать всё своё добро детям. Тысячи лет это добро под водой сохраняется, болото становится кладовой солнца, и потом вся эта кладовая солнца как _____ достаётся человеку от солнца в наследство.

Название какого полезного ископаемого пропущено (напечатана линия) в отрывке из произведения М.Пришвина «Кладовая солнца»? _____

Тестовый тур

На каждый вопрос даны четыре варианта ответов.

Выберите только один правильный и внесите его в матрицу ответов.

Максимально 16 баллов, по 1 баллу за каждый правильный ответ.

1. Кто открыл морской путь из Европы в Индию?

- а) Васко да Гама б) Джеймс Кук
в) Афанасий Никитин г) Марко Поло

2. В Калининградской области добывают:

- а) золото б) железные руды
в) торф г) гранит

3. Суслик и дрофа обитают:

- а) в тундре б) в тайге
в) в широколиственных лесах г) в степях

4. Мореплаватели Ф.Ф.Беллинсгаузен и М.П.Лазарев:

- а) открыли Антарктиду
б) исследовали Северный Ледовитый океан
в) открыли Северную Америку
г) нашли пролив между Евразией и Северной Америкой

5. Какова высота Джомолунгмы?

- а) 9949 м б) 8848 м в) 7747 м г) 6646 м

6. Что изучают сейсмологи?

- а) ледники б) землетрясения в) ураганы г) озёра

7. Какой объект Всемирного наследия находится не на территории России?

- а) вулканы Камчатки б) погост Кижи
в) мавзолей Тадж-Махал г) озеро Байкал

8. В какую из стран ты сможешь попасть, если поедешь на юг Европы?

- а) в Норвегию б) в Финляндию
в) в Швейцарию г) в Грецию

9. Какие горы находятся в России?

- а) Анды б) Гималаи в) Алтай г) Альпы

10. Выберите самую длинную реку, полностью протекающую по территории Калининградской области:

- а) Лава б) Неман в) Анграпа г) Преголя

11. С какой из этих стран граничит Россия?

- а) Турция б) Норвегия в) Индия г) Германия

12. Какое море не омывает берега России?

- а) Северное б) Чёрное в) Карское г) Берингово

13. Литосфера – это:

- а) вещество между ядром и земной корой
б) твёрдое ядро Земли
в) верхняя твёрдая оболочка Земли
г) водная оболочка Земли

14. Вулкан, извержение которого уничтожило древний город Помпеи, называется:

- а) ~~Этна~~ б) Кракатау в) Везувий г) Фудзияма

15. Какое из утверждений о градусной сети является верным?

- а) Меридиан направлен на север и на юг.
б) Параллели имеют одинаковую длину.
в) Меридиан направлен на запад и на восток.
г) Нулевой меридиан – самый длинный.

16. Какой материк пересекают все меридианы?

- а) Австралия б) Африка в) Евразия г) Антарктида

Матрица для записи ответов

1	2	3	4	5	6	7	8	9	10
г-	г-	г+	г-	в+	а-	б+	д-	г-	г+

11	12	13	14	15	16
г-	а+	б+	б+	б-	г+

Шифр

[-06-10]

Всероссийская олимпиада школьников по географии. 2023-2024 учебный год.

Школьный этап. 6 класс

Начинать работу можно с любого задания, однако, мы рекомендуем выполнять задания в том порядке, в котором они даны. Если какое-то задание вызывает у вас затруднение, пропустите его и постарайтесь выполнить те, в ответах на которые вы уверены. К пропущенным заданиям можно будет вернуться, если у вас останется время.

Общее время выполнения работы - 75 минут

Максимальная сумма баллов - 48

Во время выполнения заданий не допускается использование атласов и других источников информации.

Теоретический тур

Задание 1. (8 баллов)

На контурной карте надпишите названия:

- самого высокого действующего вулкана мира
- самой высокой в мире горной системы
- самой длинной в мире горной системы
- крупнейшей равнины Земли
- самой длинной горной системы России
- самой высокой горной системы России (можно обозначить цифрой и расшифровать)
- самого высокого действующего вулкана России



Как называется самая высокая горная вершина в мире?

1 Эверест (Джомолунга) Джомолунга

Как называется самая высокая горная вершина России?

Эверест (Джомолунга)

Задание 2. (2 балла)

Почему на Земле происходит смена времён года?

1 Земля вращается орбитально поэтому происходит смена времён года.

Задание 3. (3 балла)

Во время похода по родному краю его участники пользуются картой, масштаб которой 1:1 000 000. Сколько понадобится времени, чтобы проехать из одного города в другой на велосипедах со скоростью 12 км/час, если на карте расстояние между этими двумя городами по дороге равно 6 см? Ход рассуждений запишите.

1 $1:1.000.000 = 1\text{см} = 1000\text{км}$ $6\text{см} = 6000\text{км}$
 $6000 : 12\text{ч} = 500\text{ч}$.

1 Ответ 500ч

Задание 4. (15 баллов)

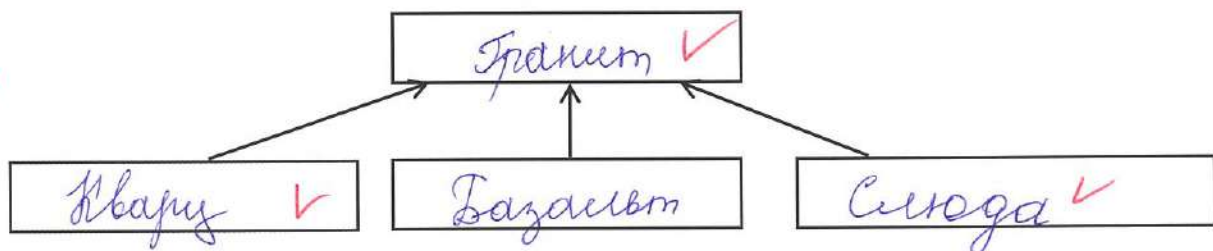
К каким полезным ископаемым относится информация? В качестве ответов укажите их порядковые номера.

1. Железная руда
2. Торф
3. Нефть
4. Гранит
5. Песок
6. Известняк

Информация о полезных ископаемых:

- 1) Состоит из трёх минералов. Гранит ✓
- 2) Являются горючими, используются как топливо. Нефть ✓
- 3) Из этого полезного ископаемого выплавляют чугун, сталь. Железная руда ✓
- 4) Используется в качестве удобрения, подстилки в животноводстве. Песок -
- 5) Используется для получения бензина. Нефть ✓
- 6) Его образование связано со скелетами, раковинами морских организмов. Известняк ✓
- 7) Состоит из кальцита. Песок -
- 8) Его образование и добыча связаны с болотами. Торф ✓
- 9) Является обломочной осадочной горной породой. Известняк -
- 10) При изменении физико-химических условий превращается в мрамор. Гранит -

Заполните схему для полезного ископаемого, состоящего из трёх минералов:

**Задание 5. (4 балла)**

Ответьте на вопросы, прочитав стихотворные и прозаические отрывки.

1)

А кругом на широких равнинах,

Где трава укрывает жирафа,

.....

Он раскинул тенистые рощи

Прихотливых мимоз и акаций,
Рассадил по холмам баобабы,
В галереях лесов, где прохладно
И светло, как в дорическом храме,
Он провёл многоводные реки...

О каком материке пишет Н.Гумилёв? Африка

2)

Вулкана зев открыл – дым хлынул клубом – пламя
Широко развилось, как боевое знамя.

Земля волнуется – с шатнувшихся колонн
Кумиры падают! Народ, гонимый страхом,
Толпами, стар и млад, под воспаленным прахом,
Под каменным дождем бежит из града вон.

Название какого вулкана пропущено (напечатана линия) в строчках А.Пушкина, созданных под впечатлением картины К.Брюллова «Последний день Помпеи»? Везувий

3) По этому поясу земли, говорят, широкая лента украшения прошла из дорогих камней. Всякие есть, а больше сзелена, да иссиня. Изумруды, александриты, аквамарины, аметисты. А по самой середке этой хребтины двойной ряд хризолитов.

О какой горной системе пишет в своих сказах П.Бажов? Уральские горы

4) Но в болотах вода не даёт родителям-растениям передать всё своё добро детям. Тысячи лет это добро под водой сохраняется, болото становится кладовой солнца, и потом вся эта кладовая солнца как морф достаётся человеку от солнца в наследство.

Название какого полезного ископаемого пропущено (напечатана линия) в отрывке из произведения М.Пришвина «Кладовая солнца»? Морф

Тестовый тур

На каждый вопрос даны четыре варианта ответов.

Выберите только один правильный и внесите его в матрицу ответов.

Максимально 16 баллов, по 1 баллу за каждый правильный ответ.

1. Кто открыл морской путь из Европы в Индию?

- а) Васко да Гама б) Джеймс Кук
 в) Афанасий Никитин ~~г) Марко Поло~~

2. В Калининградской области добывают:

- а) золото б) железные руды
 в) торф г) гранит

3. Суслик и дрофа обитают:

- а) в тундре б) в тайге
 в) в широколиственных лесах г) в степях

4. Мореплаватели Ф.Ф.Беллинсгаузен и М.П.Лазарев:

- а) открыли Антарктиду
 б) исследовали Северный Ледовитый океан
 в) открыли Северную Америку
 г) нашли пролив между Евразией и Северной Америкой

5. Какова высота Джомолунгмы?

- а) 9949 м б) 8848 м в) 7747 м г) 6646 м

6. Что изучают сейсмологи?

- а) ледники б) землетрясения в) ураганы г) озёра

7. Какой объект Всемирного наследия находится не на территории России?

- а) вулканы Камчатки б) погост Кижы
 в) мавзолей Тадж-Махал ~~г) озеро Байкал~~

8. В какую из стран ты сможешь попасть, если поедешь на юг Европы?

- а) в Норвегию б) в Финляндию
 в) в Швейцарию г) в Грецию

9. Какие горы находятся в России?

- ~~а) Анды~~ б) Гималаи в) Алтай г) Альпы

10. Выберите самую длинную реку, полностью протекающую по территории Калининградской области:

- а) Лава б) Неман в) Анграпа г) Преголя

11. С какой из этих стран граничит Россия?

- а) Турция б) Норвегия в) Индия г) Германия

12. Какое море не омывает берега России?

- а) Северное б) Чёрное в) Карское г) Берингово

13. Литосфера – это:

- а) вещество между ядром и земной корой
 б) твёрдое ядро Земли
 в) верхняя твёрдая оболочка Земли
 г) водная оболочка Земли

14. Вулкан, извержение которого уничтожило древний город Помпеи, называется:

- а) Этна б) Кракатау в) Везувий г) Фудзияма

15. Какое из утверждений о градусной сети является верным?

- а) Меридиан направлен на север и на юг.
 б) Параллели имеют одинаковую длину.
 в) Меридиан направлен на запад и на восток.
 г) Нулевой меридиан – самый длинный.

16. Какой материк пересекают все меридианы?

- а) Австралия б) Африка в) Евразия г) Антарктида

Матрица для записи ответов

1	2	3	4	5	6	7	8	9	10
a+	b+	z+	δ-	δ+	δ+	a-	δ-	b+	z+

11	12	13	14	15	16
b-	b-	b+	b+	a+	+z

Шифр

Г-07-15

Всероссийская олимпиада школьников по географии. 2023-2024 учебный год.

Школьный этап. 7 класс

Начинать работу можно с любого задания, однако, мы рекомендуем выполнять задания в том порядке, в котором они даны. Если какое-то задание вызывает у вас затруднение, пропустите его и постарайтесь выполнить те, в ответах на которые вы уверены. К пропущенным заданиям можно будет вернуться, если у вас останется время.

Общее время выполнения работы - 90 минут

Максимальная сумма баллов – 60

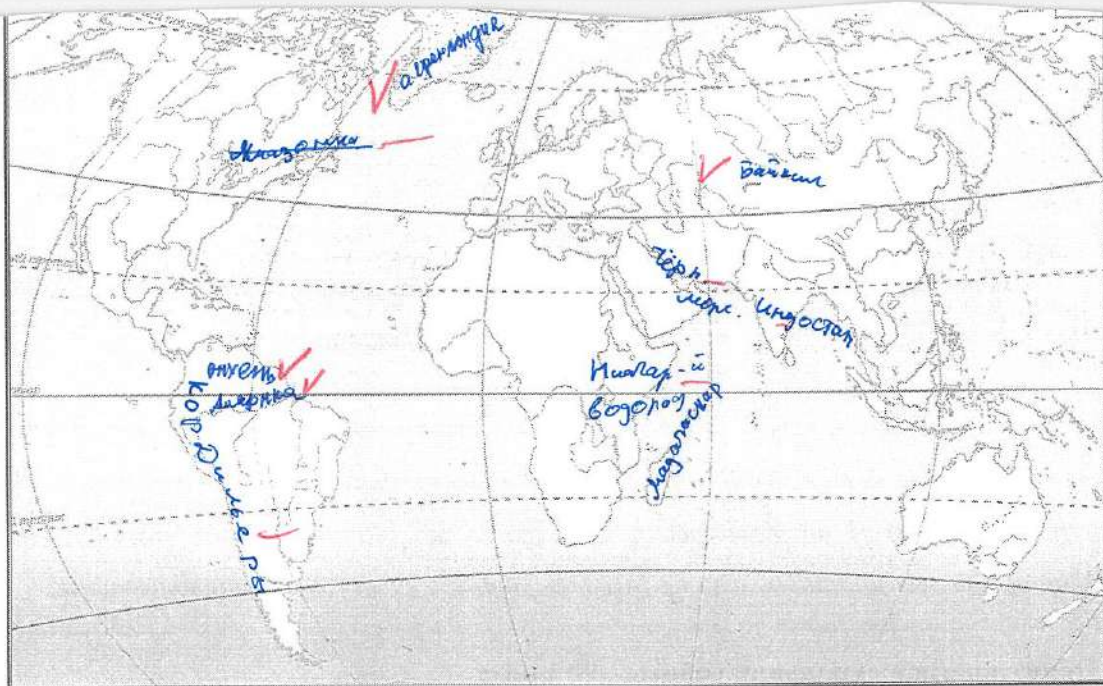
Во время выполнения заданий не допускается использование атласов и других источников информации.

Теоретический тур

Задание 1. (10 баллов)

Вспомните природные рекорды мира. На контурной карте напишите названия географических объектов-рекордсменов:

- самого глубокого озера Байкал
- самого большого по площади озера Байкал
- высочайшего водопада Ниагарский водопад
- самого высокого действующего вулкана
- крупнейшего острова Мадагаскар
- самой длинной и многоводной реки Амазонка
- самой высокой горной системы
- самого большого моря Черное море
- самой длинной горной системы Кордильеры
- самого большого полуострова Индостан



25

Задание 2. (3 балла)

В каком направлении дуют ночные бризы и почему они образуются на берегах морей?

Ночные бризы дуют в сторону от берега к низкому давлению. Образуются они потому что давление над морем больше, чем над сушей.

Задание 3. (7 баллов)

Определите географические объекты по описаниям.

1) Этот пролив был открыт в 1520 году во время кругосветного плавания и назван в честь путешественника, который его возглавлял. Длина пролива 575 км, наименьшая ширина 2,2 км. Многочисленные подводные скалы и мели затрудняют здесь судоходство.

✓ Магелланов пролив

2) На географических картах этот объект обозначается словом «море». Солёная вода и большие размеры объясняют, почему древние так его называли. В этот водный объект впадает Волга. На его северном побережье находится самая большая в мире низменность, расположенная ниже уровня моря.

Озеро Байкал

3) Это самое древнее озеро на Земле. Его котловина начала формироваться 25–30 млн. лет назад. Уникальные флора и фауна на 75% состоят из растений и животных, которые нигде больше на Земле не встречаются. Среди них наиболее известны омуль и живородящая рыбка голомянка.

✓ Озеро Байкал

4) Море бассейна Атлантического океана, расположенное между Африкой и Евразией. С океаном его соединяет Гибралтарский пролив. С севера к его берегам выходят страны Европы, с юга – страны Северной Африки, а с востока – страны Азии. Побережье моря – территория знаменитых курортов мира.

Термал
Красное море

5) Самый широкий и глубокий пролив Земли. Он назван в честь знаменитого английского мореплавателя, командира второй (после экспедиции Ф. Магеллана) кругосветной морской экспедиции. Пролив соединяет Тихий и Атлантический океаны и разделяет Южную Америку и Антарктиду.

✓ Пролив Дрейкса

6) Это самая большая пустынная территория планеты. Она расположена на севере второго по величине материка, в условиях очень жаркого и сухого климата. Лишь к северу и к югу от неё расположены поселения людей.

✓ Пустыня Сахара

4) 7) Горная система, протянувшаяся между Чёрным и Каспийским морями, по которой проходит граница России с зарубежными странами. Это самые высокие горы России, высшая точка – гора Эльбрус. Вершины гор покрыты вечными снегами и ледниками. Здесь часты сходы снежных лавин.



Уральские горы

Задание 4. (9 баллов)

Дополните таблицу, выбрав названия растений из списка: виктория, раффлезия, лиственница, эвкалипт, саксаул, баобаб, финиковая пальма, кокосовая пальма, ковыль. Названия растений, не включённых в таблицу, подпишите под фотографиями.

№	Некоторые особенности растений	Названия растений
1	Вечнозелёное дерево, типичное для Австралии. Из листьев получают масло, применяемое в медицине.	Эвкалипт ✓
2	Многолетняя трава, относящаяся к злаковым и распространённая в степях.	Ковыль ✓
3	Древесное или кустарниковое растение пустынь Азии, хороший закрепитель песков. Зелёные веточки – корм для верблюдов и овец.	Саксаул ✓
4	Хвойное дерево с твёрдой прочной древесиной. Осенью хвоя опадает. Самое распространённое дерево в России.	Лиственница ✓
5	Водное растение Южной Америки. Листья с загнутыми	Виктория ✓

	краями диаметром до 2 м выдерживают груз до 50 кг.	
6	Растение тропиков и субтропиков Африки и Азии. Плоды съедобны.	Финиковая пальма ✓
7	Растёт в тропиках на морских побережьях, на островах. Возделывают главным образом для получения копры.	Кокосовая пальма ✓



95

А) раффлезия ✓

Б) баобаб ✓

Задание 5. (15 баллов)

Выберите из списка и выпишите слова (это элементы культуры, растения, животные, географические названия и т.п.), связанные с Японией и Индией:

Тадж-Махал, сакура, Колизей, Токио, «Ла Скала», рупия, Хонсю, юань, Нью-Дели, кимоно, большая панда, Фудзи, иена, хокку, Этна, бумеранг, сари, сомбреро, Буэнос-Айрес, коала

Оставшиеся слова внесите в таблицу, указав страны, к которым они относятся

Япония:

сакура, Токио, кимоно, иена, Фудзи

Индия:

Тадж-Махал, Рупия, Нью-Дели, хокку, Этна, сари

Слова, связанные с другими странами:

Слова (элементы культуры, растения, животные, географические названия и т.п.)	Страны
Колизей, Ла Скала	Италия ✓
Сомбреро, Буэнос-Айрес	Мексика
Бумеранг, коала	Австралия ✓
юань, Большая панда	Китай ✓

Тестовый тур

На каждый вопрос даны четыре варианта ответов.

Выберите только один правильный и внесите его в матрицу ответов.

Максимально 16 баллов, по 1 баллу за каждый правильный ответ.

1. Какая горная порода является магматической?

- а) известняк б) глина в) гранит г) мрамор

2. Масштаб плана 1:5000. Какому расстоянию на местности соответствует участок плана длиной 3 см?

- а) 100 м б) 50 м в) 15 м г) 150 м

3. Точка с какими координатами наиболее удалена от экватора?

- а) 35° ю.ш. 55° з.д. б) 30° с.ш. 45° в.д.
в) 55° с.ш. 60° в.д. г) 60° с.ш. 35° в.д.

4. Какова годовая амплитуда колебаний температур, если средняя многолетняя температура января +2°C, а средняя многолетняя температура июля +22°C?

- а) 20°C б) 10°C в) 24°C г) 12°C

5. Выберите фамилию первооткрывателя Антарктиды:

- а) Р.Амундсен б) И.Крузенштерн
в) Т.Хейердал г) Ф.Беллинсгаузен

6. Какое государство находится в Европе?

- а) Китай б) Португалия в) Египет г) Перу

7. Какое полезное ископаемое добывают в Калининградской области?

- а) каменный уголь б) бокситы
в) торф г) медные руды

8. Наибольшие значения солёности характерны для:

- а) моря Бофорта б) Северного моря
в) Карского моря г) Красного моря

9. Какому азимуту соответствует направление строго на северо-восток?

- а) 45° б) 220° в) 135° г) 170°

10. Формой рельефа, образованной деятельностью ветра, является:

- а) овраг б) вулкан в) дюна г) курган

11. Как называется часть дна речной долины, затопляемая во время разлива реки?

- а) межень б) пойма в) дельта г) устье

12. На долю кислорода в составе воздуха приходится около:

- а) 81% б) 61% в) 21% г) 11%

13. В каком из случаев будет дуть самый сильный ветер?

- а) в точке А атмосферное давление 755 мм, в точке Б 762 мм
 б) в точке А атмосферное давление 763 мм, в точке Б 758 мм
 в) в точке А атмосферное давление 744 мм, в точке Б 750мм
 г) в точке А атмосферное давление 754 мм, в точке Б 752 мм

14. Выберите верное утверждение о реке Неман:

- а) Река Шешупе является притоком Немана.
 б) Неман впадает в Калининградский залив.
 в) Исток Немана находится в Калининградской области.
 г) На Немане расположен город Черняховск.

15. Суслик и дрофа обитают:

- а) в тундре б) в тайге
 в) в широколиственных лесах г) в степях

16. Что изучают сейсмологи?

- а) ледники б) землетрясения в) ураганы г) озёра

Матрица для записи ответов

1	2	3	4	5	6	7	8	9	10
✓ Б	Г ✓	Г ✓	Б	А	Б ✓	А	Г ✓	А ✓	Б ✓

11	12	13	14	15	16
А ✓	Б ✓	Б	Г	Г ✓	Б ✓

Шифр

Г-07-17

Всероссийская олимпиада школьников по географии. 2023-2024 учебный год.

Школьный этап. 7 класс

Начинать работу можно с любого задания, однако, мы рекомендуем выполнять задания в том порядке, в котором они даны. Если какое-то задание вызывает у вас затруднение, пропустите его и постарайтесь выполнить те, в ответах на которые вы уверены. К пропущенным заданиям можно будет вернуться, если у вас останется время.

Общее время выполнения работы - 90 минут

Максимальная сумма баллов – 60

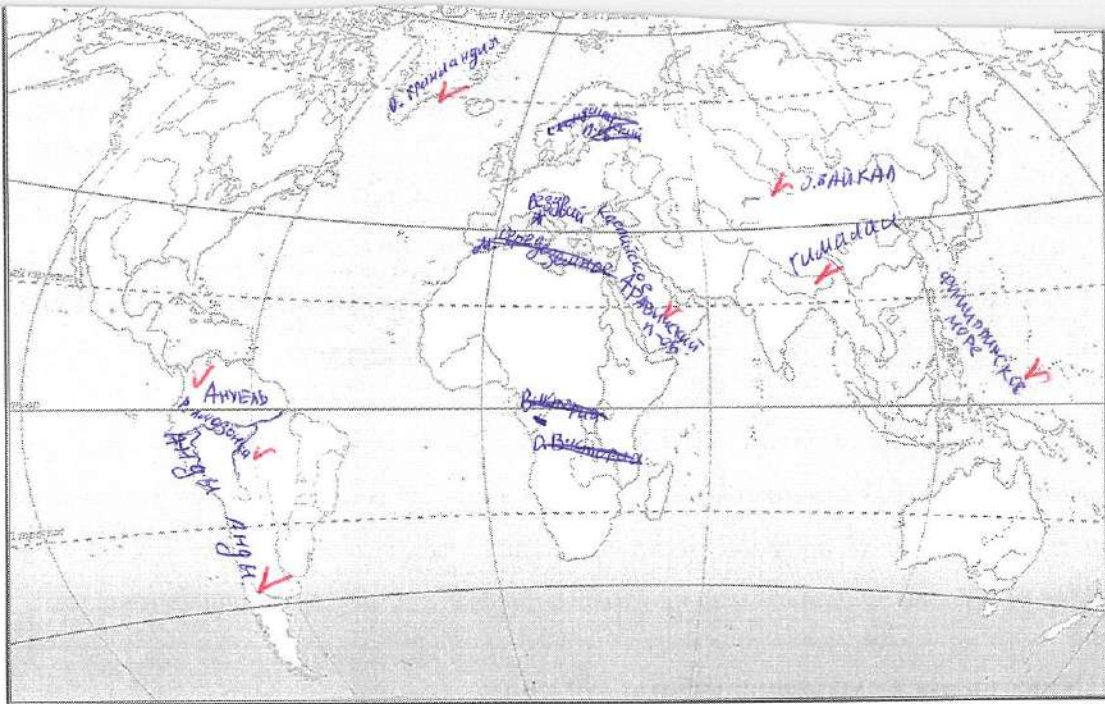
Во время выполнения заданий не допускается использование атласов и других источников информации.

Теоретический тур

Задание 1. (10 баллов)

Вспомните природные рекорды мира. На контурной карте подпишите названия географических объектов-рекордсменов:

- самого глубокого озера
- самого большого по площади озера
- высочайшего водопада
- самого высокого действующего вулкана
- крупнейшего острова
- самой длинной и многоводной реки
- самой высокой горной системы
- самого большого моря
- самой длинной горной системы
- самого большого полуострова



45

Задание 2. (3 балла)

В каком направлении дуют ночные бризы и почему они образуются на берегах морей?

Ночные бризы дуют ~~на море~~, они образуются на берегах морей, потому что вода медленно нагревается и медленно остывает, а значит бриз меняет направление 2 раза в сутки. ^{Ночью} он дует с берега в море, потому что над ~~з~~ берегом атмосферное давление больше ~~чем~~ над морем, а ~~ветер~~ ^{днем} меняет направление, потому что атмосферное давление больше над водой ~~чем~~ над берегом.

35

Задание 3. (7 баллов)

Определите географические объекты по описаниям.

1) Этот пролив был открыт в 1520 году во время кругосветного плавания и назван в честь путешественника, который его возглавлял. Длина пролива 575 км, наименьшая ширина 2,2 км. Многочисленные подводные скалы и мели затрудняют здесь судоходство.

✓ Магелановский пролив

2) На географических картах этот объект обозначается словом «море». Солёная вода и большие размеры объясняют, почему древние так его называли. В этот водный объект впадает Волга. На его северном побережье находится самая большая в мире низменность, расположенная ниже уровня моря.

✓ Каспийское море

3) Это самое древнее озеро на Земле. Его котловина начала формироваться 25–30 млн. лет назад. Уникальные флора и фауна на 75% состоят из растений и животных, которые нигде больше на Земле не встречаются. Среди них наиболее известны омуль и живородящая рыбка голомянка.

✓ Озеро Виктория Байкал

4) Море бассейна Атлантического океана, расположенное между Африкой и Евразией. С океаном его соединяет Гибралтарский пролив. С севера к его берегам выходят страны Европы, с юга – страны Северной Африки, а с востока – страны Азии. Побережье моря – территория знаменитых курортов мира.

✓ средиземное море

5) Самый широкий и глубокий пролив Земли. Он назван в честь знаменитого английского мореплавателя, командира второй (после экспедиции Ф. Магеллана) кругосветной морской экспедиции. Пролив соединяет Тихий и Атлантический океаны и разделяет Южную Америку и Антарктиду.

Пролив Гудзонов

6) Это самая большая пустынная территория планеты. Она расположена на севере второго по величине материка, в условиях очень жаркого и сухого климата. Лишь к северу и к югу от неё расположены поселения людей.

65 ✓ Пустыня Сахара

7) Горная система, протянувшаяся между Чёрным и Каспийским морями, по которой проходит граница России с зарубежными странами. Это самые высокие горы России, высшая точка – гора Эльбрус. Вершины гор покрыты вечными снегами и ледниками. Здесь часты сходы снежных лавин.


✓ Кавказские горы

Задание 4. (9 баллов)


Дополните таблицу, выбрав названия растений из списка: виктория, раффлезия, лиственница, эвкалипт, саксаул, баобаб, финиковая пальма, кокосовая пальма, ковыль. Названия растений, не включённых в таблицу, подпишите под фотографиями.

№	Некоторые особенности растений	Названия растений
1	Вечнозелёное дерево, типичное для Австралии. Из листьев получают масло, применяемое в медицине.	эвкалипт ✓
2	Многолетняя трава, относящаяся к злаковым и распространённая в степях.	ковыль ✓
3	Древесное или кустарниковое растение пустынь Азии, хороший закрепитель песков. Зелёные веточки – корм для верблюдов и овец.	саксаул ✓
4	Хвойное дерево с твёрдой прочной древесиной. Осенью хвоя опадает. Самое распространённое дерево в России.	лиственница ✓
5	Водное растение Южной Америки. Листья с загнутыми	Виктория ✓

	краями диаметром до 2 м выдерживают груз до 50 кг.	Баобаб
6	Растение тропиков и субтропиков Африки и Азии. Плоды съедобны.	фениксовая пальма ✓
7	Растёт в тропиках на морских побережьях, на островах. Возделывают главным образом для получения копры.	кокосовая пальма ✓



А) Раффлезия ✓



Б) Виттерсия Баобаб ✓

Задание 5. (15 баллов)

Выберите из списка и выпишите слова (это элементы культуры, растения, животные, географические названия и т.п.), связанные с Японией и Индией:

Тадж-Махал, сакура, Колизей, Токио, «Ла Скала», рупия, Хонсю, юань, Нью-Дели, кимоно, большая панда, Фудзи, иена, хокку, Этна, бумеранг, сари, сомбреро, Буэнос-Айрес, коала

Оставшиеся слова внесите в таблицу, указав страны, к которым они относятся

Япония:

сакура, Токио, Хонсю, юань, кимоно, ~~Бетто~~ хокку, Фудзи, иена

Индия:

Нью-Дели, ~~Бумеранг~~, рупия, сари

Слова, связанные с другими странами:

Слова (элементы культуры, растения, животные, географические названия и т.п.)	Страны
Тадж-Махал	ОАЭ
Колизей, Этна	Италия ✓
«Ла Скала», Буэнос-Айрес,	Бразилия
Большая панда,	Китай ✓
иена сомбреро	Мексика ✓

На каждый вопрос даны четыре варианта ответов.

Выберите только один правильный и внесите его в матрицу ответов.

Максимально 16 баллов, по 1 баллу за каждый правильный ответ.

1. Какая горная порода является магматической?

- а) известняк б) глина в) гранит г) мрамор

2. Масштаб плана 1:5000. Какому расстоянию на местности соответствует участок плана длиной 3 см?

- а) 100 м ~~б) 50 м~~ в) 15 м г) 150 м

3. Точка с какими координатами наиболее удалена от экватора?

- а) 35° ю.ш. 55° з.д. б) 30° с.ш. 45° в.д.
~~в) 55° с.ш. 60° в.д.~~ г) 60° с.ш. 35° в.д.

4. Какова годовая амплитуда колебаний температур, если средняя многолетняя температура января +2°C, а средняя многолетняя температура июля +22°C?

- а) 20°C б) 10°C в) 24°C г) 12°C

5. Выберите фамилию первооткрывателя Антарктиды:

- а) Р.Амундсен б) И.Крузенштерн
в) Т.Хейердал г) Ф.Беллинсгаузен

6. Какое государство находится в Европе?

- а) Китай б) Португалия в) Египет г) Перу

7. Какое полезное ископаемое добывают в Калининградской области?

- а) каменный уголь б) бокситы
в) торф г) медные руды

8. Наибольшие значения солёности характерны для:

- а) моря Бофорта б) Северного моря
в) Карского моря г) Красного моря

9. Какому азимуту соответствует направление строго на северо-восток?

- а) 45° б) 220° в) 135° г) 170°

10. Формой рельефа, образованной деятельностью ветра, является:

- а) овраг б) вулкан в) дюна г) курган

11. Как называется часть дна речной долины, затопляемая во время разлива реки?

- а) межень б) пойма в) дельта г) устье

12. На долю кислорода в составе воздуха приходится около:

- а) 81% б) 61 % в) 21% г) 11%

13. В каком из случаев будет дуть самый сильный ветер?

- а) в точке А атмосферное давление 755 мм, в точке Б 762 мм
 б) в точке А атмосферное давление 763 мм, в точке Б 758 мм
 в) в точке А атмосферное давление 744 мм, в точке Б 750мм
 г) в точке А атмосферное давление 754 мм, в точке Б 752 мм

14. Выберите верное утверждение о реке Неман:

- а) Река Шешупе является притоком Немана.
 б) Неман впадает в Калининградский залив.
 в) Исток Немана находится в Калининградской области.
 г) На Немане расположен город Черняховск.

15. Суслик и дрофа обитают:

- а) в тундре б) в тайге
 в) в широколиственных лесах г) в степях

16. Что изучают сейсмологи?

- а) ледники б) землетрясения в) ураганы г) озёра

Матрица для записи ответов

1	2	3	4	5	6	7	8	9	10
В+	Б+	В	А+	А	Б+	А	Г+	Б	В+

11	12	13	14	15	16
В	В+	А+	Б	Г+	Б+

105

Шифр

Г-07-22

Всероссийская олимпиада школьников по географии. 2023-2024 учебный год.

Школьный этап. 7 класс

Начинать работу можно с любого задания, однако, мы рекомендуем выполнять задания в том порядке, в котором они даны. Если какое-то задание вызывает у вас затруднение, пропустите его и постарайтесь выполнить те, в ответах на которые вы уверены. К пропущенным заданиям можно будет вернуться, если у вас останется время.

Общее время выполнения работы - 90 минут

Максимальная сумма баллов – 60

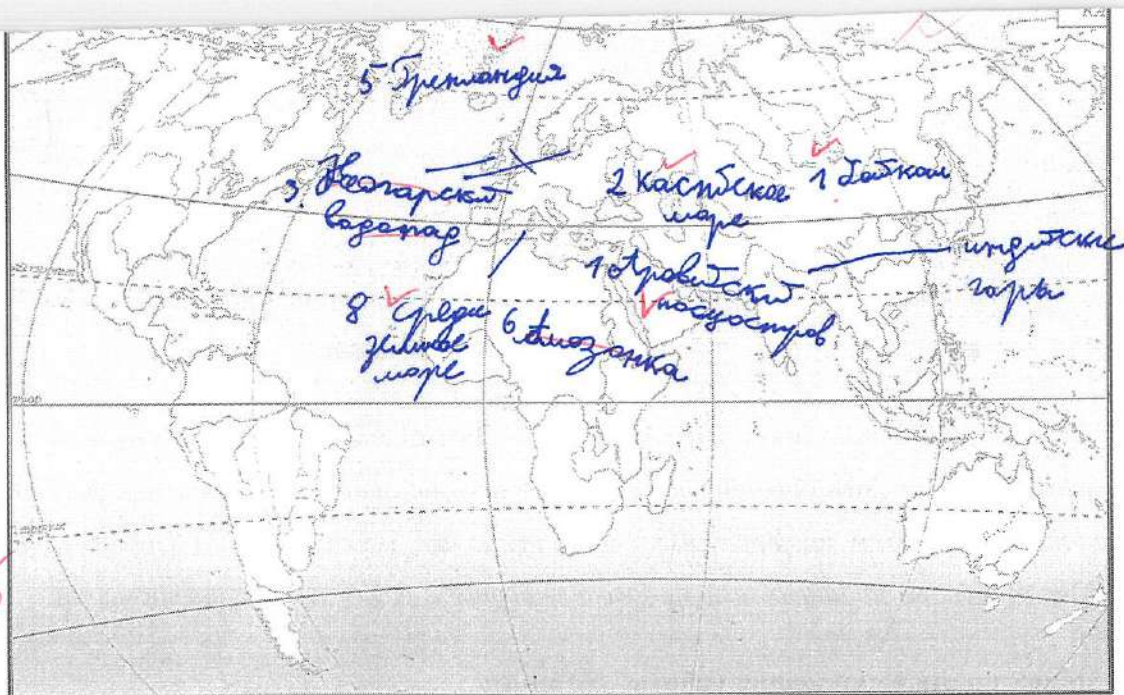
Во время выполнения заданий не допускается использование атласов и других источников информации.

Теоретический тур

Задание 1. (10 баллов)

Вспомните природные рекорды мира. На контурной карте надпишите названия географических объектов-рекордсменов:

- самого глубокого озера
- самого большого по площади озера
- высочайшего водопада
- самого высокого действующего вулкана
- крупнейшего острова
- самой длинной и многоводной реки
- самой высокой горной системы
- самого большого моря
- самой длинной горной системы
- самого большого полуострова



56

Задание 2. (3 балла)

В каком направлении дуют ночные бризы и почему они образуются на берегах морей?

Ночью прохладнее суше, поэтому бризы дуют с суши на море.

Задание 3. (7 баллов)

Определите географические объекты по описаниям.

1) Этот пролив был открыт в 1520 году во время кругосветного плавания и назван в честь путешественника, который его возглавлял. Длина пролива 575 км, наименьшая ширина 2,2 км. Многочисленные подводные скалы и мели затрудняют здесь судоходство.

Берингов пролив

2) На географических картах этот объект обозначается словом «море». Солёная вода и большие размеры объясняют, почему древние так его называли. В этот водный объект впадает Волга. На его северном побережье находится самая большая в мире низменность, расположенная ниже уровня моря.

Чёрное море.

3) Это самое древнее озеро на Земле. Его котловина начала формироваться 25–30 млн. лет назад. Уникальные флора и фауна на 75% состоят из растений и животных, которые нигде больше на Земле не встречаются. Среди них наиболее известны омуль и живородящая рыбка голомянка.

Озеро Каспийское море.

4) Море бассейна Атлантического океана, расположенное между Африкой и Евразией. С океаном его соединяет Гибралтарский пролив. С севера к его берегам выходят страны Европы, с юга – страны Северной Африки, а с востока – страны Азии. Побережье моря – территория знаменитых курортов мира.

Красное море

5) Самый широкий и глубокий пролив Земли. Он назван в честь знаменитого английского мореплавателя, командира второй (после экспедиции Ф. Магеллана) кругосветной морской экспедиции. Пролив соединяет Тихий и Атлантический океаны и разделяет Южную Америку и Антарктиду.

Пролив Дрейка.

6) Это самая большая пустынная территория планеты. Она расположена на севере второго по величине материка, в условиях очень жаркого и сухого климата. Лишь к северу и к югу от неё расположены поселения людей.

Пустыня Сахара.

7) Горная система, протянувшаяся между Чёрным и Каспийским морями, по которой проходит граница России с зарубежными странами. Это самые высокие горы России, высшая точка – гора Эльбрус. Вершины гор покрыты вечными снегами и ледниками. Здесь часты сходы снежных лавин.



Уральские горы.

Задание 4. (9 баллов)

Дополните таблицу, выбрав названия растений из списка: виктория, раффлезия, лиственница, эвкалипт, саксаул, баобаб, финиковая пальма, кокосовая пальма, ковыль. Названия растений, не включённых в таблицу, подпишите под фотографиями.

№	Некоторые особенности растений	Названия растений
1	Вечнозелёное дерево, типичное для Австралии. Из листьев получают масло, применяемое в медицине.	Эвкалипт ✓
2	Многолетняя трава, относящаяся к злаковым и распространённая в степях.	Ковыль ✓
3	Древесное или кустарниковое растение пустынь Азии, хороший закрепитель песков. Зелёные веточки – корм для верблюдов и овец.	Саксаул ✓
4	Хвойное дерево с твёрдой прочной древесиной. Осенью хвоя опадает. Самое распространённое дерево в России.	Лиственница ✓
5	Водное растение Южной Америки. Листья с загнутыми	Мствирица ✓

	краями диаметром до 2 м выдерживают груз до 50 кг.	
6	Растение тропиков и субтропиков Африки и Азии. Плоды съедобны.	ореховая пальма. ✓
7	Растёт в тропиках на морских побережьях, на островах. Возделывают главным образом для получения копры.	Кокосовая пальма. ✓



А) папоротниковидная ✓

Б) баобаб ✓

95

Задание 5. (15 баллов)

Выберите из списка и выпишите слова (это элементы культуры, растения, животные, географические названия и т.п.), связанные с Японией и Индией:

Тадж-Махал, сакура, Колизей, Токио, «Ла Скала», рупия, Хонсю, юань, Нью-Дели, кимоно, большая панда, Фудзи, иена, хокку, Этна, бумеранг, сари, сомбреро, Буэнос-Айрес, коала

Оставшиеся слова внесите в таблицу, указав страны, к которым они относятся

Япония:

сакура, Токио, Большая панда, Фудзи, иена, хокку, Кимono

Индия:

Этна, Бумеранг, Тадж-Махал, сомбреро, «Ла Скала», сари.

Слова, связанные с другими странами:

95

Слова (элементы культуры, растения, животные, географические названия и т.п.)	Страны
юань	Китай
Буэнос-Айрес	✓ столица Аргентины.
коала	✓ Австралия.
Колизей	✓ Италия.
рупия	Бангладеш. Индия.

На каждый вопрос даны четыре варианта ответов.

Выберите только один правильный и внесите его в матрицу ответов.

Максимально 16 баллов, по 1 баллу за каждый правильный ответ.

1. Какая горная порода является магматической?

- а) известняк б) глина в) гранит г) мрамор

2. Масштаб плана 1:5000. Какому расстоянию на местности соответствует участок плана длиной 3 см?

- а) 100 м б) 50 м в) 15 м г) 150 м

3. Точка с какими координатами наиболее удалена от экватора?

- а) 35° ю.ш. 55° з.д. б) 30° с.ш. 45° в.д.
в) 55° с.ш. 60° в.д. г) 60° с.ш. 35° в.д.

4. Какова годовая амплитуда колебаний температур, если средняя многолетняя температура января +2°C, а средняя многолетняя температура июля +22°C?

- а) 20°C б) 10°C в) 24°C г) 12°C

5. Выберите фамилию первооткрывателя Антарктиды:

- а) Р.Амундсен б) И.Крузенштерн
в) Т.Хейердал г) Ф.Беллинсгаузен

6. Какое государство находится в Европе?

- а) Китай б) Португалия в) Египет г) Перу

7. Какое полезное ископаемое добывают в Калининградской области?

- а) каменный уголь б) бокситы
 в) торф г) медные руды

8. Наибольшие значения солёности характерны для:

- а) моря Бофорта б) Северного моря
в) Карского моря г) Красного моря

9. Какому азимуту соответствует направление строго на северо-восток?

- а) 45° б) 220° в) 135° г) 170°

10. Формой рельефа, образованной деятельностью ветра, является:

- а) овраг б) вулкан в) дюна г) курган

11. Как называется часть дна речной долины, затопляемая во время разлива реки?

- а) межень б) пойма в) дельта г) устье

12. На долю кислорода в составе воздуха приходится около:

- а) 81% б) 61% в) 21% г) 11%

13. В каком из случаев будет дуть самый сильный ветер?

- а) в точке А атмосферное давление 755 мм, в точке Б 762 мм
 б) в точке А атмосферное давление 763 мм, в точке Б 758 мм
 в) в точке А атмосферное давление 744 мм, в точке Б 750 мм
 г) в точке А атмосферное давление 754 мм, в точке Б 752 мм

14. Выберите верное утверждение о реке Неман:

- а) Река Шешупе является притоком Немана.
 б) Неман впадает в Калининградский залив.
 в) Исток Немана находится в Калининградской области.
 г) На Немане расположен город Черняховск.

15. Суслик и дрофа обитают:

- а) в тундре б) в тайге
 в) в широколиственных лесах г) в степях

16. Что изучают сейсмологи?

- а) ледники б) землетрясения в) ураганы г) озёра

Матрица для записи ответов

1	2	3	4	5	6	7	8	9	10
В ✓	Г ✓	Г ✓	А ✓	Г ✓	Б ✓	В ✓	Г ✓	А ✓	В ✓

11	12	13	14	15	16
А -	А -	А ✓	А ✓	В -	Б ✓

135

Шифр

Г-08-18

Всероссийская олимпиада школьников по географии. 2023-2024 учебный год.

Школьный этап. 8 класс

Начинать работу можно с любого задания, однако, мы рекомендуем выполнять задания в том порядке, в котором они даны. Если какое-то задание вызывает у вас затруднение, пропустите его и постарайтесь выполнить те, в ответах на которые вы уверены. К пропущенным заданиям можно будет вернуться, если у вас останется время.

Общее время выполнения работы - 90 минут

Максимальная сумма баллов – 64

Во время выполнения заданий не допускается использование атласов и других источников информации.

Теоретический тур

Задание 1. (6 баллов)

Ниже перечислены утверждения об одной из частей света. Определите, о какой части света идёт речь, и укажите номера двух лишних утверждений. К каким частям света относятся лишние утверждения? Назовите пункт, о котором говорится в утверждении № 6.

1. В этой части света обитает большая панда.
2. В этой части света занимался исследованиями Н.М.Пржевальский.
3. В этой части света находится мыс Рока.
4. В этой части света обитает страус нанду.
5. В этой части света самая высокая численность населения.
6. В этой части света находится пункт, где отмечено максимальное количество осадков на Земле.
7. В этой части света находится отметка высоты 8848 м.

Часть света Южная Азия ✓

Лишнее утверждение: номер 4 ✓ часть света Южная Америка ✓

Лишнее утверждение: номер 3 ✓ часть света Южная Америка (Бразилия)

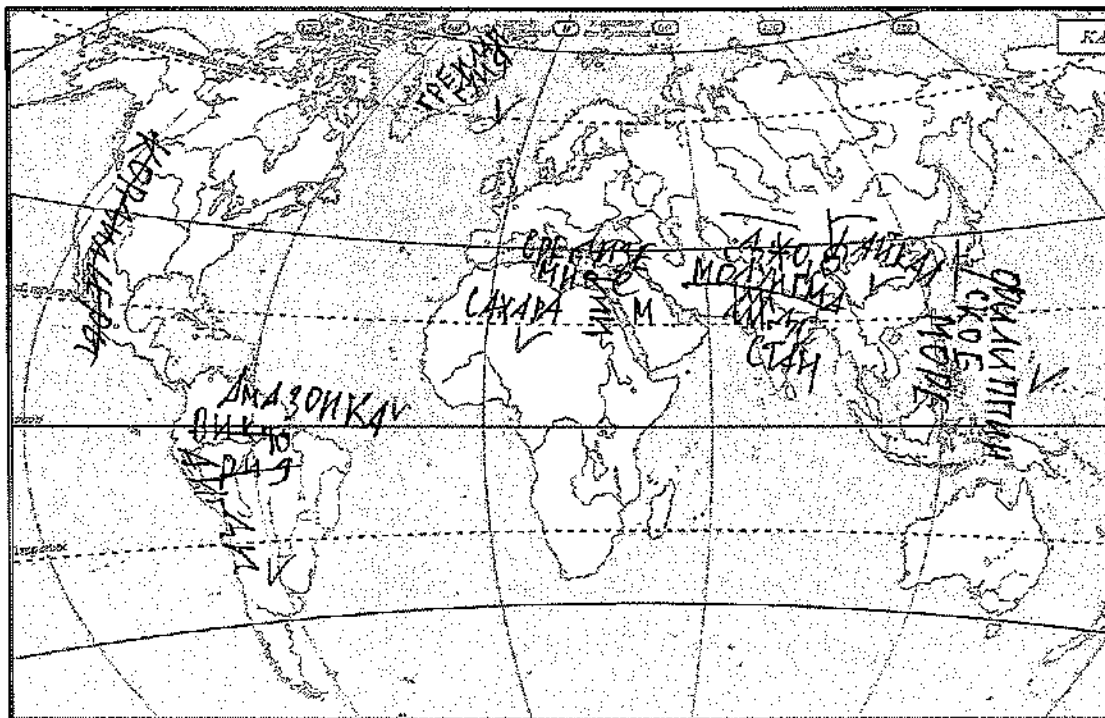
Пункт Индия (Дели) Юго-запад Индии (Калькутта) ✓

66

Задание 2. (14 баллов)

Вспомните природные рекорды мира. На контурной карте напишите названия географических объектов-рекордсменов:

- самого глубокого озера
- самого большого по площади озера
- высочайшего водопада
- самого высокого действующего вулкана
- крупнейшего острова
- самой длинной и многоводной реки
- самой высокой горной системы
- самого большого моря
- самой длинной горной системы
- самого большого полуострова
- крупнейшей пустыни



65

Как называется крупнейшее государство самого большого полуострова?

Грэнландия Индия

Какому государству принадлежит самый большой остров?

США - Канада Япония V

В какой стране находится устье самой длинной реки?

Бриз ✓

Задание 3. (3 балла)


В каком направлении дуют ночные бризы и почему они образуются на берегах морей?

30
~~В южном направлении. Они образуются~~
~~от водной массы~~
 С берега на море. Из-за разницы в температуре —
 море → атмосферное давление → ветер.
 Днём наоборот


Задание 4. (9 баллов)

Дополните таблицу, выбрав названия растений из списка: виктория, раффлезия, лиственница, эвкалипт, саксаул, баобаб, финиковая пальма, кокосовая пальма, ковыль. Названия растений, не включённых в таблицу, подпишите под фотографиями.

№	Некоторые особенности растений	Названия растений
1	Вечнозелёное дерево, типичное для Австралии. Из листьев получают масло, применяемое в медицине.	Эвкалипт ✓ Кокосовая пальма ✓
2	Многолетняя трава, относящаяся к злаковым и распространённая в степях.	Ковыль ✓
3	Древесное или кустарниковое растение пустынь Азии, хороший закрепитель песков. Зелёные веточки – корм для верблюдов и овец.	Саксаул ✓ Эвкалипт ✓
4	Хвойное дерево с твёрдой прочной древесиной. Осенью хвоя падает. Самое распространённое дерево в России.	Лиственница ✓
5	Водное растение Южной Америки. Листья с загнутыми краями диаметром до 2 м выдерживают груз до 50 кг.	Виктория ✓ Саксаул ✓
6	Растение тропиков и субтропиков Африки и Азии. Плоды съедобны.	Финиковая пальма ✓ Ковыль ✓
7	Растёт в тропиках на морских побережьях, на островах. Возделывают главным образом для получения копры.	Кокосовая пальма ✓ Виктория ✓



А) Рагнармезма ✓



Б) Забобаб ✓

9

Задание 5. (16 баллов)

1. В каждом из двух списков найдите и выпишите по 7 понятий (это элементы духовной и материальной культуры, имена, представители органического мира и т.п.), относящихся к одной стране. Определите страны.

1) Сари, хинди, Тадж-Махал, птица киви, Рабиндранат Тагор, рупия, Хоккайдо, «Махабхарата», гора Кука, Махатма Ганди, кимоно, Акира Куросава

Тадж-Махал, Хинди, Махатма Ганди, Масабхарата
Сари, рупия

Страна Индия

2) Суоми, маори, Хельсинки, Лапландия, Веллингтон, Ян Сибелиус, иена, саамы, гаттерия, «Калевала», Инариярви, хокку

Хельсинки, Лапландия, Веллингтон, «Калевала»
хокку

Страна Новая Зеландия

2. Слова, оставшиеся в обоих списках, объедините, а затем разделите на две группы и укажите названия островных государств, с которыми эти понятия связаны.

10

1) Суоми, Финляндия, Инариярви, хокку

Островное государство Южная Корея Япония ✓

2) Маори, Ян Сибелиус, иена, саамы

Островное государство Норвегия Новая Зеландия ✓

Тестовый тур

На каждый вопрос даны четыре варианта ответов.

Выберите только один правильный и внесите его в матрицу ответов.

Максимально 16 баллов, по 1 баллу за каждый правильный ответ.

1. Выберите фамилию первооткрывателя Антарктиды:

- а) Р.Амундсен ~~б) И.Крузенштерн~~
 в) Т.Хейердал г) Ф.Беллинсгаузен

2. Какое полезное ископаемое добывают в Калининградской области?

- ~~а) каменный уголь~~ б) бокситы
 в) торф г) медные руды

3. Выберите верное утверждение о реке Неман:

- а) Река Шешупе является притоком Немана.
 б) Неман впадает в Калининградский залив.
 в) Исток Немана находится в Калининградской области.
 г) На Немане расположен город Черняховск.

4. Точка с какими координатами наиболее удалена от экватора?

- а) 35° ю.ш. 55° з.д. б) 30° с.ш. 45° в.д.
 в) 55° с.ш. 60° в.д. г) 60° с.ш. 35° в.д.

5. В Южной Америке расположено государство:

- а) Боливия б) Ботсвана в) Ливия г) ЮАР

6. Муссонные дожди часто вызывают наводнения на реке:

- а) Хуанхэ б) Енисей в) Дунай г) Тигр

7. Какой стране принадлежат Канарские острова?

- ~~а) Марокко~~ б) Португалия в) Алжир г) Испания

8. Холодным течением является:

- ~~а) Бразильское~~ б) Перуанское
 в) Гольфстрим г) Куроисио

9. Какой остров раньше носил название Цейлон?

- а) Шри-Ланка б) Исландия в) Сахалин г) Хоккайдо

10. Как называется самая восточная точка Северной Америки?

- а) Кабу-Бранку б) Сент-Чарльз
в) Байрон г) Рас-Хафун

11. На каком острове находится Джакарта?

- а) Ява б) Суматра в) Калимантан г) Сулавеси

12. Как называется столица Канады?

- а) Монреаль б) Квебек в) Ванкувер г) Оттава

13. Какая пустыня является береговой?

- а) Гоби б) Намиб в) Каракумы г) Такла-Макан

14. Какое озеро Африки расположено южнее других?

- а) Рудольф б) Танганьика в) Ньяса г) Чад

15. Берега какого материка омывает море Уэдделла?

- а) Северная Америка б) Евразия в) Австралия г) Антарктида

16. Где обитает коала?

- а) Африка б) Южная Америка в) Австралия г) Евразия

Матрица для записи ответов

1	2	3	4	5	6	7	8	9	10
2 ✓	б ✓	а ✓	2 ✓	а ✓	а ✓	2 ✓	б ✓	а ✓	б ✓

11	12	13	14	15	16
б ✓	2 ✓	б ✓	2 ✓	а ✓	б ✓

135

Шифр

Г-08-11

Всероссийская олимпиада школьников по географии. 2023-2024 учебный год.

Школьный этап. 8 класс

Начинать работу можно с любого задания, однако, мы рекомендуем выполнять задания в том порядке, в котором они даны. Если какое-то задание вызывает у вас затруднение, пропустите его и постарайтесь выполнить те, в ответах на которые вы уверены. К пропущенным заданиям можно будет вернуться, если у вас останется время.

Общее время выполнения работы - 90 минут

Максимальная сумма баллов – 64

Во время выполнения заданий не допускается использование атласов и других источников информации.

Теоретический тур

Задание 1. (6 баллов)

Ниже перечислены утверждения об одной из частей света. Определите, о какой части света идёт речь, и укажите номера двух лишних утверждений. К каким частям света относятся лишние утверждения? Назовите пункт, о котором говорится в утверждении № 6.

1. В этой части света обитает большая панда. ~~Африка~~
2. В этой части света занимался исследованиями Н.М.Пржевальский.
3. В этой части света находится мыс Рока.
4. В этой части света обитает страус нанду. ~~Африка~~
5. В этой части света самая высокая численность населения. ~~Африка~~
6. В этой части света находится пункт, где отмечено максимальное количество осадков на Земле.
7. В этой части света находится отметка высоты 8848 м.

Часть света Азия

Лишнее утверждение: номер 4 часть света ~~Африка~~ Америка

Лишнее утверждение: номер 3 часть света Юв. Америка Европа

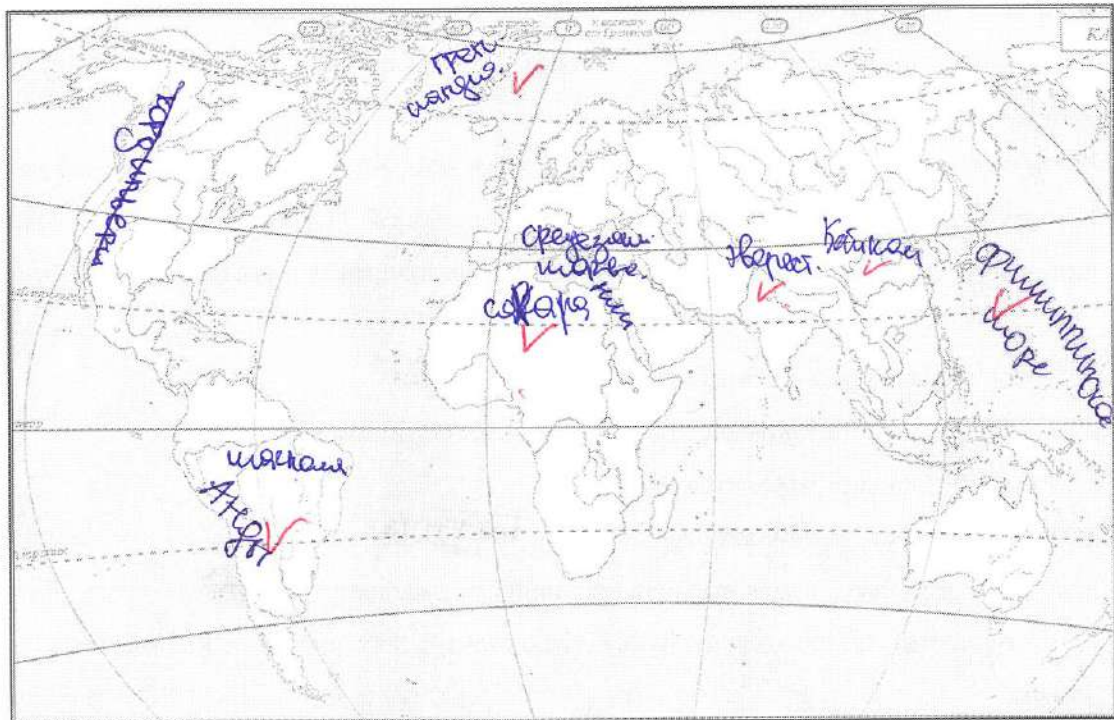
Пункт Дели (Индия) Термукудани

6

Задание 2. (14 баллов)

Вспомните природные рекорды мира. На контурной карте надпишите названия географических объектов-рекордсменов:

- самого глубокого озера
- самого большого по площади озера
- высочайшего водопада
- самого высокого действующего вулкана
- крупнейшего острова
- самой длинной и многоводной реки
- самой высокой горной системы
- самого большого моря
- самой длинной горной системы
- самого большого полуострова
- крупнейшей пустыни



55

Как называется крупнейшее государство самого большого полуострова?

Грэнландия, Индия ✓

Какому государству принадлежит самый большой остров?

Грэнландия, Вануату ✓

В какой стране находится устье самой длинной реки?

Бразилия ✓

Задание 3. (3 балла)



В каком направлении дуют ночные бризы и почему они образуются на берегах морей?

2 С суши на море из-за разницы в А.Д.

Задание 4. (9 баллов)

Дополните таблицу, выбрав названия растений из списка: виктория, раффлезия, лиственница, эвкалипт, саксаул, баобаб, финиковая пальма, кокосовая пальма, ковыль. Названия растений, не включённых в таблицу, подпишите под фотографиями.

№	Некоторые особенности растений	Названия растений
1	Вечнозелёное дерево, типичное для Австралии. Из листьев получают масло, применяемое в медицине.	эвкалипт ✓
2	Многолетняя трава, относящаяся к злаковым и распространённая в степях.	ковыль ✓
3	Древесное или кустарниковое растение пустынь Азии, хороший закрепитель песков. Зелёные веточки – корм для верблюдов и овец.	виктория. —
4	Хвойное дерево с твёрдой прочной древесиной. Осенью хвоя падает. Самое распространённое дерево в России.	лиственница ✓
5	Водное растение Южной Америки. Листья с загнутыми краями диаметром до 2 м выдерживают груз до 50 кг.	саксаул. —
6	Растение тропиков и субтропиков Африки и Азии. Плоды съедобны.	раффлезия ✓
7	Растёт в тропиках на морских побережьях, на островах. Возделывают главным образом для получения копры.	кокосовая пальма ✓



75

А) раффлезия ✓

Б) баобаб ✓

Задание 5. (16 баллов)

1. В каждом из двух списков найдите и выпишите по 7 понятий (это элементы духовной и материальной культуры, имена, представители органического мира и т.п.), относящихся к одной стране. Определите страны.

1) Сари, хинди, Тадж-Махал, птица киви, Рабиндранат Тагор, рупия, Хоккайдо, «Махабхарата», гора Кука, Махатма Ганди, кимоно, Акира Куросава

Сари, хинди, Тадж-Махал, Рабиндранат Тагор,
рупия, Махабхарата, Махатма Ганди.

Страна Индия

2) Суоми, маори, Хельсинки, Лапландия, Веллингтон, Ян Сибелиус, иена, саамы, гаттерия, «Калевала», Инчариярви, хокку

Суоми, Хельсинки, Лапландия, Ян Сибелиус,
Инчариярви

Страна Финляндия.

60

2. Слова, оставшиеся в обоих списках, объедините, а затем разделите на две группы и укажите названия островных государств, с которыми эти понятия связаны.

1)

Островное государство _____

2)

Островное государство _____

Тестовый тур

На каждый вопрос даны четыре варианта ответов.

Выберите только один правильный и внесите его в матрицу ответов.

Максимально 16 баллов, по 1 баллу за каждый правильный ответ.

1. Выберите фамилию первооткрывателя Антарктиды:

- а) Р.Амундсен б) И.Крузенштерн
 в) Г.Хейердал г) Ф.Беллинсгаузен

2. Какое полезное ископаемое добывают в Калининградской области?

- а) каменный уголь б) бокситы
 в) торф г) медные руды

3. Выберите верное утверждение о реке Неман:

- а) Река Шешупе является притоком Немана.
 б) Неман впадает в Калининградский залив.
 в) Исток Немана находится в Калининградской области.
 г) На Немане расположен город Черняховск.

4. Точка с какими координатами наиболее удалена от экватора?

- а) 35° ю.ш. 55° з.д. б) 30° с.ш. 45° в.д.
 в) 55° с.ш. 60° в.д. г) 60° с.ш. 35° в.д.

5. В Южной Америке расположено государство:

- а) Боливия б) Ботсвана в) Ливия г) ЮАР

6. Муссонные дожди часто вызывают наводнения на реке:

- а) Хуанхэ б) Енисей в) Дунай г) Тигр

7. Какой стране принадлежат Канарские острова?

- а) Марокко б) Португалия в) Алжир г) Испания

8. Холодным течением является:

- а) Бразильское б) Перуанское
 в) Гольфстрим г) Куроисио

9. Какой остров раньше носил название Цейлон?

- а) Шри-Ланка б) Исландия в) Сахалин г) Хоккайдо

10. Как называется самая восточная точка Северной Америки?

- а) Кабу-Бранку б) Сент-Чарльз
 в) Байрон г) Рас-Хафун

11. На каком острове находится Джакарта?

- а) Ява б) Суматра в) Калимантан г) Сулавеси

12. Как называется столица Канады?

- а) Монреаль б) Квебек в) Ванкувер г) Оттава

13. Какая пустыня является береговой?

- а) Гоби б) Намиб в) Каракумы г) Такла-Макан

14. Какое озеро Африки расположено южнее других?

- а) Рудольф б) Танганьика в) Ньяса г) Чад

15. Берега какого материка омывает море Уэдделла?

- а) Северная Америка б) Евразия в) Австралия г) Антарктида

16. Где обитает коала?

- а) Африка б) Южная Америка в) Австралия г) Евразия

Матрица для записи ответов

1	2	3	4	5	6	7	8	9	10
б	а-	з-	з✓	а✓	а✓	а-	б✓	а✓	б✓

11	12	13	14	15	16
б-	з✓	б✓	б✓	з✓	б✓

Шифр

F-08-23

Всероссийская олимпиада школьников по географии. 2023-2024 учебный год.

Школьный этап. 8 класс

Начинать работу можно с любого задания, однако, мы рекомендуем выполнять задания в том порядке, в котором они даны. Если какое-то задание вызывает у вас затруднение, пропустите его и постарайтесь выполнить те, в ответах на которые вы уверены. К пропущенным заданиям можно будет вернуться, если у вас останется время.

Общее время выполнения работы - 90 минут

Максимальная сумма баллов – 64

Во время выполнения заданий не допускается использование атласов и других источников информации.

Теоретический тур

Задание 1. (6 баллов)

Ниже перечислены утверждения об одной из частей света. Определите, о какой части света идёт речь, и укажите номера двух лишних утверждений. К каким частям света относятся лишние утверждения? Назовите пункт, о котором говорится в утверждении № 6.

1. В этой части света обитает большая панда.
2. В этой части света занимался исследованиями Н.М.Пржевальский.
3. В этой части света находится мыс Рока.
4. В этой части света обитает страус нанду.
5. В этой части света самая высокая численность населения.
6. В этой части света находится пункт, где отмечено максимальное количество осадков на Земле.
7. В этой части света находится отметка высоты 8848 м.

Часть света Азия V

Лишнее утверждение: номер 3 V часть света _____

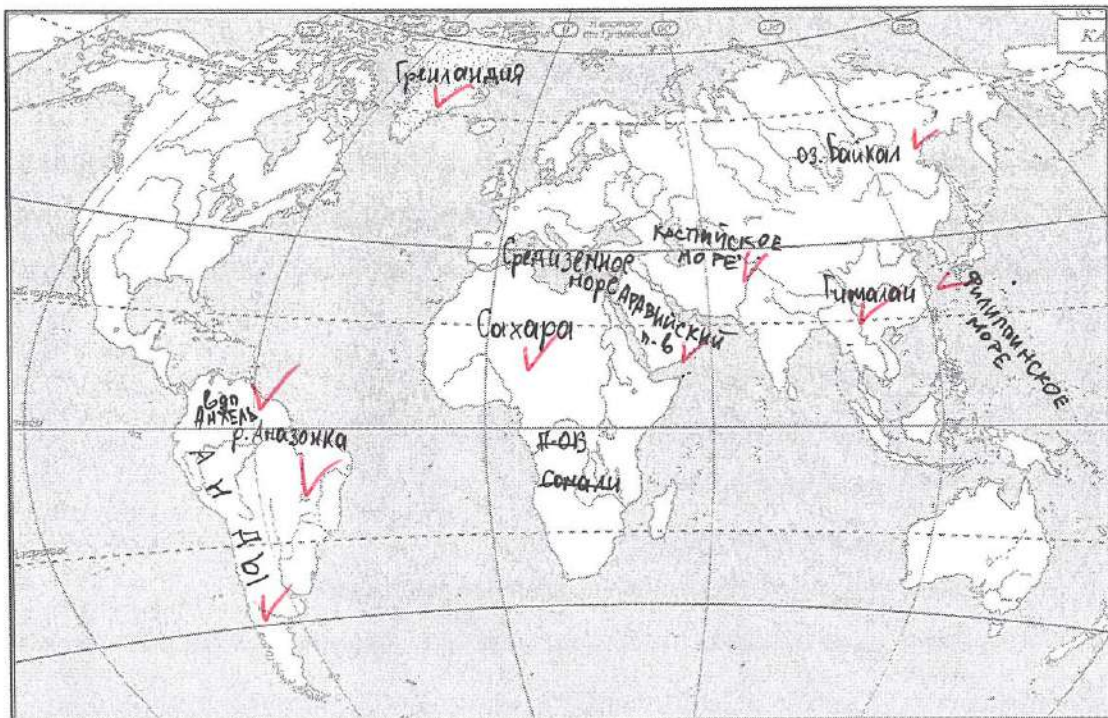
Лишнее утверждение: номер 4 V часть света Южная

Пункт _____

Задание 2. (14 баллов)

Вспомните природные рекорды мира. На контурной карте напишите названия географических объектов-рекордсменов:

- самого глубокого озера
- самого большого по площади озера
- высочайшего водопада
- самого высокого действующего вулкана
- крупнейшего острова
- самой длинной и многоводной реки
- самой высокой горной системы
- самого большого моря
- самой длинной горной системы
- самого большого полуострова
- крупнейшей пустыни



Как называется крупнейшее государство самого большого полуострова?

✓ Саудовская Аравия

Какому государству принадлежит самый большой остров?

✓ Венгрия

В какой стране находится устье самой длинной реки?

✓ Бразилия

Задание 3. (3 балла)

В каком направлении дуют ночные бризы и почему они образуются на берегах морей?

35 Ночной бриз дует с подветренной стороны моря. Они образуются от резкого перепада давления над сушей и водой из-за того, что вода нагревается и расширяется сильнее суши.


Задание 4. (9 баллов)

Дополните таблицу, выбрав названия растений из списка: виктория, раффлезия, лиственница, эвкалипт, саксаул, баобаб, финиковая пальма, кокосовая пальма, ковыль. Названия растений, не включённых в таблицу, подпишите под фотографиями.

№	Некоторые особенности растений	Названия растений
1	Вечнозелёное дерево, типичное для Австралии. Из листьев получают масло, применяемое в медицине.	Эвкалипт ✓
2	Многолетняя трава, относящаяся к злаковым и распространённая в степях.	Ковыль ✓
3	Древесное или кустарниковое растение пустынь Азии, хороший закрепитель песков. Зелёные веточки – корм для верблюдов и овец.	Саксаул ✓
4	Хвойное дерево с твёрдой прочной древесиной. Осенью хвоя опадает. Самое распространённое дерево в России.	лиственница ✓
5	Водное растение Южной Америки. Листья с загнутыми краями диаметром до 2 м выдерживают груз до 50 кг.	виктория ✓
6	Растение тропиков и субтропиков Африки и Азии. Плоды съедобны.	финиковая пальма ✓
7	Растёт в тропиках на морских побережьях, на островах. Возделывают главным образом для получения кофры.	кокосовая пальма ✓



А) Раффлезия



Б) Баобаб

Задание 5. (16 баллов)

1. В каждом из двух списков найдите и выпишите по 7 понятий (это элементы духовной и материальной культуры, имена, представители органического мира и т.п.), относящихся к одной стране. Определите страны.

1) Сари, хинди, Тадж-Махал, птица киви, Рабиндранат Тагор, рупия, Хоккайдо, «Махабхарата», гора Кука, Махатма Ганди, кимоно, Акира Куросава

Хинди, Тадж-Махал, рупия, «Махабхарата», Махатма Ганди, Сари, Рабиндранат Тагор.

Страна Индия

2) Суоми, маори, Хельсинки, Лапландия, Веллингтон, Ян Сибелиус, иена, саамы, гаттерия, «Калевала», Инариярви, хокку

Суоми, маори, иена, саамы, Инариярви, хокку, Хельсинки, Лапландия, Веллингтон, Ян Сибелиус, гаттерия.

Страна Финляндия

2. Слова, оставшиеся в обоих списках, объедините, а затем разделите на две группы и укажите названия островных государств, с которыми эти понятия связаны.

1) Хоккайдо, кимоно, Акира Куросава, иена, Инариярви, хокку
Островное государство Япония

2) Гора Кука, птица киви, Ян Сибелиус, гаттерия
Островное государство Австралия

Тестовый тур

На каждый вопрос даны четыре варианта ответов.

Выберите только один правильный и внесите его в матрицу ответов.

Максимально 16 баллов, по 1 баллу за каждый правильный ответ.

1. Выберите фамилию первооткрывателя Антарктиды:

- а) Р.Амундсен б) И.Крузенштерн
в) Т.Хейердал г) Ф.Беллинсгаузен

2. Какое полезное ископаемое добывают в Калининградской области?

- а) каменный уголь б) бокситы
в) торф г) медные руды

3. Выберите верное утверждение о реке Неман:

- а) Река Шешупе является притоком Немана.
б) Неман впадает в Калининградский залив.
в) Исток Немана находится в Калининградской области.
г) На Немане расположен город Черняховск.

4. Точка с какими координатами наиболее удалена от экватора?

- а) 35° ю.ш. 55° з.д. б) 30° с.ш. 45° в.д.
в) 55° с.ш. 60° в.д. г) 60° с.ш. 35° в.д.

5. В Южной Америке расположено государство:

- а) Боливия б) Ботсвана в) Ливия г) ЮАР

6. Муссонные дожди часто вызывают наводнения на реке:

- а) Хуанхэ б) Енисей в) Дунай г) Тигр

7. Какой стране принадлежат Канарские острова?

- а) Марокко б) Португалия в) Алжир г) Испания

8. Холодным течением является:

- а) Бразильское б) Перуанское
в) Гольфстрим г) Куроисио

9. Какой остров раньше носил название Цейлон?

- а) Шри-Ланка б) Исландия в) Сахалин г) Хоккайдо

10. Как называется самая восточная точка Северной Америки?

- а) Кабу-Бранку б) Сент-Чарльз
в) Байрон г) Рас-Хафун

11. На каком острове находится Джакарта?

- а) Ява б) Суматра в) Калимантан г) Сулавеси

12. Как называется столица Канады?

- а) Монреаль б) Квебек в) Ванкувер г) Оттава

13. Какая пустыня является береговой?

- а) Гоби б) Намиб в) Каракумы г) Такла-Макан

14. Какое озеро Африки расположено южнее других?

- а) Рудольф б) Танганьика в) Ньяса г) Чад

15. Берега какого материка омывает море Уэдделла?

- а) Северная Америка б) Евразия в) Австралия г) Антарктида

16. Где обитает коала?

- а) Африка б) Южная Америка в) Австралия г) Евразия

Матрица для записи ответов

1	2	3	4	5	6	7	8	9	10
Б	В✓	Г	Г✓	А✓	А✓	Б	Б✓	А✓	Б✓

11	12	13	14	15	16
В	Г✓	В	Б	А	А

5. В этой части света самая высокая численность населения.

6. В этой части света находится пункт, где отмечено максимальное количество осадков на Земле.

7. В этой части света находится отметка высоты 8848 м.

Часть света Азия +

Лишнее утверждение: номер 3 + часть света Северная Америка

Лишнее утверждение: номер 4 + часть света Африка


Пункт гора Маверло-Восток Миди, Тиньянас, не далеко от
Тампагуа +

Задание 4. (12 баллов)

1) Дополните таблицу, выбрав названия растений из списка:–секвойя, вельвичия; виктория, раффлезия, лиственница, эвкалипт, саксаул, ковыль, криптомерия, женьшень, маньчжурский орех, теveja. Названия растений, не включённых в таблицу, подпишите под фотографиями.

№	Некоторые особенности растений	Названия растений
1	Вечнозелёное дерево, типичное для Австралии. Из листьев получают масло, применяемое в медицине.	Эвкалипт +
2	Название этого травянистого растения в переводе с китайского языка означает «корень жизни», «человек-корень». Препараты из корня – тонизирующее средство.	Женьшень +
3	Многолетняя трава, относящаяся к злаковым и распространённая в степях.	Ковыль +
4	Древесное или кустарниковое растение пустынь Азии, хороший закрепитель песков. Зелёные веточки – корм для верблюдов и овец.	Саксаул +
5	Вечнозелёное хвойное дерево прибрежных лесов Северной Америки, высотой более 100 м.	Секвойя +
6	Хвойное дерево с твёрдой прочной древесиной. Осенью хвоя опадает. Самое распространённое дерево в России.	Лиственница +
7	Водное растение Южной Америки. Листья с загнутыми краями диаметром до 2 м выдерживают груз до 50 кг.	Вельвичия +
8	Дерево в Северном Китае, Корее, в России – в Приморье и Приамурье. Плоды используют в кондитерской промышленности.	Маньчжурский орех +

9	Вечнозелёное дерево родом из тропической Америки, источник натурального каучука.	Тевье +
10	Вечнозелёное хвойное дерево. Считается национальным символом Японии.	Криптанерия +

А) ~~Биктория~~Б) ~~Радифоргия~~

105

Задание 5. (16 баллов)

1. В каждом из двух списков найдите и выпишите по 7 понятий (это элементы духовной и материальной культуры, имена, представители органического мира и т.п.), относящихся к одной стране. Определите страны.

1) Сари, хинди, Тадж-Махал, птица киви, Рабиндранат Тагор, рупия, Хоккайдо, «Махабхарата», гора Кука, Махатма Ганди, кимоно, Акира Куросава

~~Сари, хинди, Тадж-Махал, Рабиндранат Тагор, рупия, «Махабхарата», Махатма Ганди.~~

Страна Индия

4,5

2) Суоми, маори, Хельсинки, Лапландия, Веллингтон, Ян Сибелиус, иена, саамы, гаттерия, «Калевала», Инариярви, хокку

~~Суоми, Хельсинки, Лапландия, Ян Сибелиус, саамы, гаттерия, «Калевала».~~

Страна Финляндия

4,5

2. Слова, оставшиеся в обоих списках, объедините, а затем разделите на две группы и укажите названия островных государств, с которыми эти понятия связаны.

1) ~~Хоккайдо, кимоно Акира Куросава, хокку, и~~

Островное государство Япония

+

3,5

2)

Птица киви, юна Кука, марси, Великий кан, Маршарви
 Островное государство Нова Зеландия

Тестовый тур

На каждый вопрос даны четыре варианта ответов.

Выберите только один правильный и внесите его в матрицу ответов.

Максимально 16 баллов, по 1 баллу за каждый правильный ответ.

1. Выберите верное утверждение:

- а) Российский участок Вислинской косы называют Балтийской косой.
 б) Балтийская коса длиннее Куршской косы.
 в) На Балтийской косе нет дюн.
 г) Российский участок Вислинской косы называют Куршской косой.

2. Выберите верное утверждение о реке Неман:

- а) Река Шешупе является притоком Немана.
 б) Неман впадает в Калининградский залив.
 в) Исток Немана находится в Калининградской области.
 г) На Немане расположен город Черняховск.

3. В Южной Америке расположено государство:

- а) ЮАР б) Ботсвана в) Ливия г) Боливия

4. Муссонные дожди часто вызывают наводнения на реке:

- а) Енисей б) Хуанхэ в) Дунай г) Тигр

5. Какой стране принадлежат Канарские острова?

- а) Марокко б) Португалия в) Алжир г) Испания

6. Какой остров раньше носил название Цейлон?

- а) Сахалин б) Исландия в) Шри-Ланка г) Хоккайдо

7. Как называется столица Канады?

- а) Монреаль б) Квебек в) Ванкувер г) Оттава

8. Выберите город с наибольшей численностью населения:

- а) Саратов б) Самара в) Сыктывкар г) Салехард

9. Как называется высшая точка Уральских гор?

- а) Победа б) Казбек в) Народная г) Белуха

10. Если годовое количество осадков составляет 700 мм, а испаряемость – 300 мм, каким является увлажнение?

- + а) избыточное б) недостаточное в) достаточное г) скудное

11. Для какой природной зоны характерны каштановые почвы?

- а) лесостепь б) тайга
 в) широколиственные леса г) сухая степь

12. Как называется возвышенность, на которой берёт начало Днепр?

- а) Приволжская б) Смоленско-Московская
 в) Среднерусская г) Валдайская

13. Выберите верное утверждение:

- а) Верхоянский хребет относится к эпохе мезозойской складчатости.
 б) Кавказ относится к эпохе герцинской складчатости.
 в) Алтай относится к эпохе кайнозойской складчатости.
 г) Уральские горы относятся к эпохе каледонской складчатости.

14. Какой географический объект на карте России расположен восточнее других?

- + а) Сихотэ-Алинь б) Яблонный хребет
 в) Восточный Саян г) Северные Увалы

15. На территории какого субъекта РФ находится Уссурийский заповедник?

- а) Магаданская область б) Хабаровский край
 в) Приморский край г) Амурская область

16. Выберите наиболее ранний период геологической истории Земли:

- + а) кембрийский б) силурийский в) меловой г) пермский

Матрица для записи ответов

1	2	3	4	5	6	7	8	9	10

11	12	13	14	15	16

2/8/4/9/13/12 => 48

Шифр
17-09-06

Всероссийская олимпиада школьников по географии. 2023-2024 учебный год.

Школьный этап. 9 класс

Начинать работу можно с любого задания, однако, мы рекомендуем выполнять задания в том порядке, в котором они даны. Если какое-то задание вызывает у вас затруднение, пропустите его и постарайтесь выполнить те, в ответах на которые вы уверены. К пропущенным заданиям можно будет вернуться, если у вас останется время.

Общее время выполнения работы - 135 минут

Максимальная сумма баллов – 64

Во время выполнения заданий не допускается использование атласов и других источников информации.

Теоретический тур

Задание 1. (4 балла)

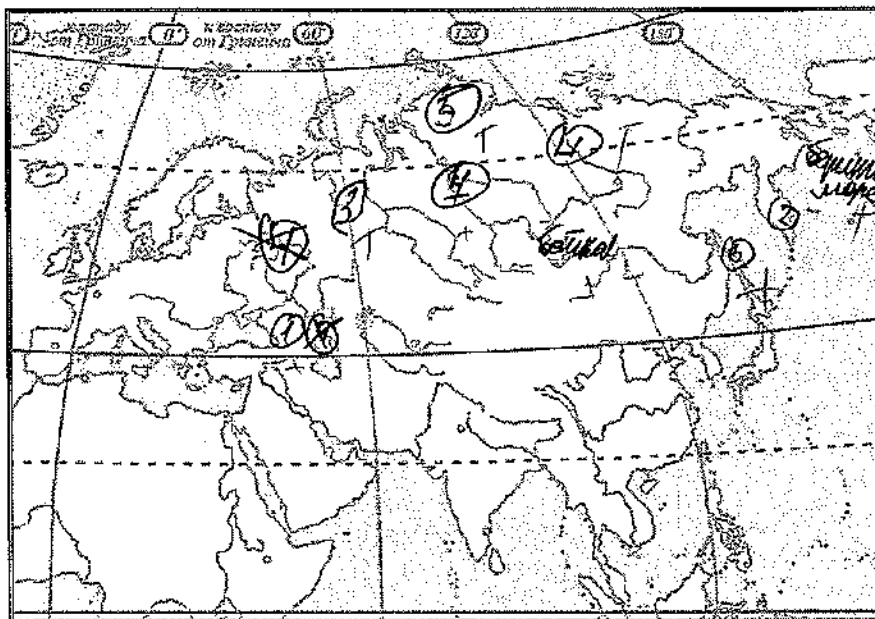
Дополните схему, объясняющую причины высокого естественного плодородия чернозёмов. В рамках разместите следующие словосочетания: большое содержание гумуса; высокое плодородие, ослабленный промыв почвы; обильная травянистая растительность.



Задание 2. (10 баллов)

Вспомните природные рекорды России. На контурной карте Евразии надпишите названия географических объектов-рекордсменов России:

- самой длинной горной системы
- самой высокой горной системы (можно обозначить цифрой и расшифровать)
- самой длинной реки, бассейн которой полностью находится в России
- самой многоводной реки
- крупнейшего полуострова
- самого большого и глубокого моря у берегов России
- самого высокого действующего вулкана
- крупнейшего острова
- самого глубокого озера



- 1 - Кавказские горы +
- 2 - Ключевская сопка +
- 3 - Уральские горы +
- ~~4 - Каспийское море~~
- 4 - Лена +
- 5 - Эльбрус +
- 6 - Сахалин +
- 7 - Енисей +

Как называется высшая точка самой высокой горной системы России?

Эльбрус + 88

Задание 3. (6 баллов)

Ниже перечислены утверждения об одной из частей света. Определите, о какой части света идёт речь, и укажите номера двух лишних утверждений. К каким частям света относятся лишние утверждения? Назовите пункт, о котором говорится в утверждении № 6.

1. В этой части света обитает большая панда.
2. В этой части света занимался исследованиями Н.М.Пржевальский.
3. В этой части света находится мыс Рока.
4. В этой части света обитает страус нанду.

1-09-06

5. В этой части света самая высокая численность населения.

6. В этой части света находится пункт, где отмечено максимальное количество осадков на Земле.

7. В этой части света находится отметка высоты 8848 м.

Часть света Азия +

Лишнее утверждение: номер 5 часть света Европа +

Лишнее утверждение: номер 4 + часть света Южная Америка +

Пункт Мунбаи

Задание 4. (12 баллов)

1) Дополните таблицу, выбрав названия растений из списка: ~~секвойя~~, ~~вельвичия~~, ~~виктория~~, раффлезия, лиственница, эвкалипт, сакаул, ковыль, криптомерия, женьшень, маньчжурский орех, гевея. Названия растений, не включённых в таблицу, подпишите под фотографиями.

№	Некоторые особенности растений	Названия растений
1	Вечнозелёное дерево, типичное для Австралии. Из листьев получают масло, применяемое в медицине.	Секвойя Эвкалипт +
2	Название этого травянистого растения в переводе с китайского языка означает «корень жизни», «человек-корень». Препараты из корня – тонизирующее средство.	Женьшень +
3	Многолетняя трава, относящаяся к злаковым и распространённая в степях.	Ковыль +
4	Древесное или кустарниковое растение пустынь Азии, хороший закрепитель песков. Зелёные веточки – корм для верблюдов и овец.	Сакаул +
5	Вечнозелёное хвойное дерево прибрежных лесов Северной Америки, высотой более 100 м.	Раффлезия +
6	Хвойное дерево с твёрдой прочной древесиной. Осенью хвоя опадает. Самое распространённое дерево в России.	Лиственница +
7	Водное растение Южной Америки. Листья с загнутыми краями диаметром до 2 м выдерживают груз до 50 кг.	Виктория +
8	Дерево в Северном Китае, Корее, в России – в Приморье и Приамурье. Плоды используют в кондитерской промышленности.	Маньчжурский орех +

9	Вечнозелёное дерево родом из тропической Америки, источник натурального каучука.	кевейра +
10	Вечнозелёное хвойное дерево. Считается национальным символом Японии.	сакура омбайя



А) Кримталерия



Б) Вельчиция +

9,5

Задание 5. (16 баллов)

1. В каждом из двух списков найдите и выпишите по 7 понятий (это элементы духовной и материальной культуры, имена, представители органического мира и т.п.), относящихся к одной стране. Определите страны.

1) Сары, хинди, Тадж-Махал, птица киви, Рабиндранат Тагор, рунья, Хоккайдо, «Махабхарата», гора Кука, Махатма Ганди, кимоно, Акира Куросава

Индия, Тадж-Махал, Рабиндранат Тагор, рунья, Махатма Ганди, «Махабхарата», Сары

Страна Индия +

11,5 +

2) Суэми, маори, Хельсинки, Лапландия, Веллингтон, Ян Сибелиус, пена, саамы, гаттерия, «Калевала», Инариярви, хокку

Суэми, Хельсинки, Лапландия, саамы, Веллингтон, Ян Сибелиус, гаттерия

Страна Финляндия + 3,5

2. Слова, оставшиеся в обоих списках, объедините, а затем разделите на две группы и укажите названия островных государств, с которыми эти понятия связаны.

1) кимоно, Акира Куросава, Хоккайдо, пена, Инариярви

Островное государство Япония +

2)

11,5

~~координаты, гора Эльб, река Кубань, остров, Балтика~~
Островное государство ~~Ямайка - Новая Земля~~ 25

"Поллвага"
"Валда"

Тестовый тур

На каждый вопрос даны четыре варианта ответов.

Выберите только один правильный и внесите его в матрицу ответов.

Максимально 16 баллов, по 1 баллу за каждый правильный ответ.

1. Выберите верное утверждение:

- а) Российский участок Вислинской косы называют Балтийской косой.
- б) Балтийская коса длиннее Куршской косы.
- в) На Балтийской косе нет дюн.
- г) Российский участок Вислинской косы называют Куршской косой.

2. Выберите верное утверждение о реке Неман:

- а) Река Шешупе является притоком Немана.
- б) Неман впадает в Калининградский залив.
- в) Исток Немана находится в Калининградской области.
- г) На Немане расположен город Черняховск.

3. В Южной Америке расположено государство:

- а) ЮАР
- б) Ботсвана
- в) Ливия
- г) Боливия

4. Муссонные дожди часто вызывают наводнения на реке:

- а) Енисей
- б) Хуанхэ
- в) Дунай
- г) Тигр

5. Какой стране принадлежат Канарские острова?

- а) Марокко
- б) Португалия
- в) Алжир
- г) Испания

6. Какой остров раньше носил название Цейлон?

- а) Сахалин
- б) Исландия
- в) Шри-Ланка
- г) Хоккайдо

7. Как называется столица Канады?

- а) Монреаль
- б) Квебек
- в) Ванкувер
- г) Оттава

8. Выберите город с наибольшей численностью населения:

- а) Саратов
- б) Самара
- в) Сыктывкар
- г) Салехард

9. Как называется высшая точка Уральских гор?

- а) Победа
- б) Казбек
- в) Народная
- г) Белуха

10. Если годовое количество осадков составляет 700 мм, а испаряемость – 300 мм, каким является увлажнение?

- а) избыточное б) недостаточное в) достаточное г) скудное

11. Для какой природной зоны характерны каштановые почвы?

- а) лесостепь б) тайга
в) широколиственные леса г) сухая степь

12. Как называется возвышенность, на которой берёт начало Днепр?

- а) Приволжская б) Смоленско-Московская
в) Среднерусская г) Валдайская

13. Выберите верное утверждение:

- а) Восточный хребет относится к эпохе мезозойской складчатости.
б) Кавказ относится к эпохе герцинской складчатости.
в) Алтай относится к эпохе кайнозойской складчатости.
г) Уральские горы относятся к эпохе каледонской складчатости.

14. Какой географический объект на карте России расположен восточнее других?

- а) Сихотэ-Алинь б) Яблонный хребет
в) Восточный Саян г) Северные Увалы

15. На территории какого субъекта РФ находится Уссурийский заповедник?

- а) Магаданская область б) Хабаровский край
в) Приморский край г) Амурская область

16. Выберите наиболее ранний период геологической истории Земли:

- а) кембрийский б) силурийский в) меловой г) пермский

Матрица для записи ответов

1	2	3	4	5	6	7	8	9	10
а+	б	г+	б+	г+	б	г+	б	б	б
							+	+	
11	12	13	14	15	16				
б	г+	а+	а+	б+	г				

Шифр
F09-04

4/7/2/7/11/10^{лет} = 5 4/5.

Всероссийская олимпиада школьников по географии. 2023-2024 учебный год.

Школьный этап. 9 класс

Начинать работу можно с любого задания, однако, мы рекомендуем выполнять задания в том порядке, в котором они даны. Если какое-то задание вызывает у вас затруднение, пропустите его и постарайтесь выполнить те, в ответах на которые вы уверены. К пропущенным заданиям можно будет вернуться, если у вас останется время.

Общее время выполнения работы - 135 минут

Максимальная сумма баллов – 64

Во время выполнения заданий не допускается использование атласов и других источников информации.

Теоретический тур

Задание 1. (4 балла)

Дополните схему, объясняющую причины высокого естественного плодородия чернозёмов. В рамках разместите следующие словосочетания: большое содержание гумуса; высокое плодородие, ослабленный промыв почвы; обильная травянистая растительность.

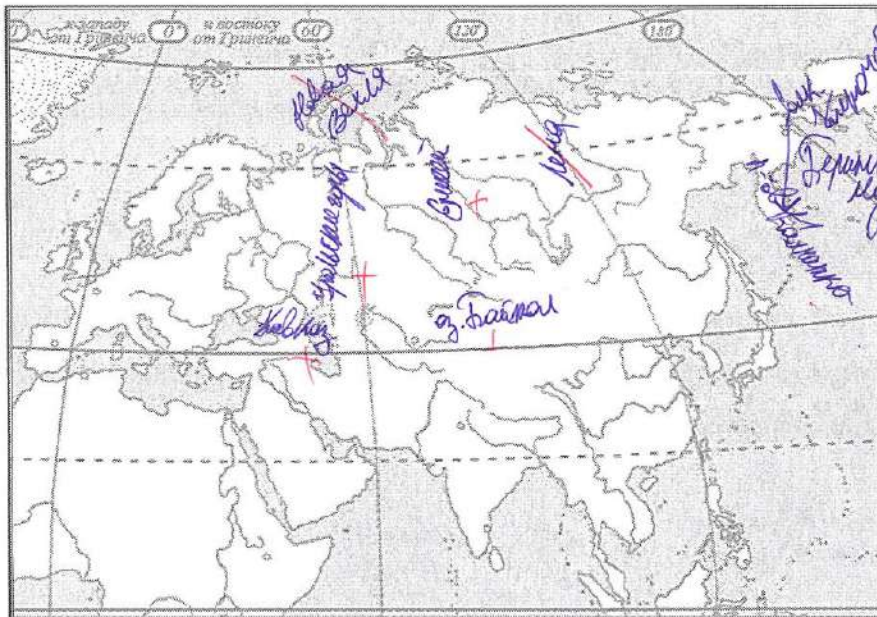


Задание 2. (10 баллов)

Вспомните природные рекорды России. На контурной карте Евразии надпишите названия географических объектов-рекордсменов России:

- самой длинной горной системы
- самой высокой горной системы (можно обозначить цифрой и расшифровать)
- самой длинной реки, бассейн которой полностью находится в России
- самой многоводной реки
- крупнейшего полуострова
- самого большого и глубокого моря у берегов России
- самого высокого действующего вулкана
- крупнейшего острова
- самого глубокого озера

Г-09-04



$$\frac{135}{2} = 75$$

Как называется высшая точка самой высокой горной системы России? г. Эльбрус +

Задание 3. (6 баллов)

Ниже перечислены утверждения об одной из частей света. Определите, о какой части света идёт речь, и укажите номера двух лишних утверждений. К каким частям света относятся лишние утверждения? Назовите пункт, о котором говорится в утверждении № 6.

1. В этой части света обитает большая панда.
2. В этой части света занимался исследованиями Н.М.Пржевальский.
3. В этой части света находится мыс Рока.
4. В этой части света обитает страус нанду.

5. В этой части света самая высокая численность населения.

6. В этой части света находится пункт, где отмечено максимальное количество осадков на Земле.

7. В этой части света находится отметка высоты 8848 м.

Часть света Азия +

Лишнее утверждение: номер 4 часть света Африка

Лишнее утверждение: номер 3 часть света Европа

Пункт Серранундети +

25

Задание 4. (12 баллов)

1) Дополните таблицу, выбрав названия растений из списка: секвойя, вельвичия, виктория, раффлезия, лиственница, эвкалипт, саксаул, ковыль, криптомерия, женьшень, маньчжурский орех, гевея. Названия растений, не включённых в таблицу, подпишите под фотографиями.

№	Некоторые особенности растений	Названия растений
1	Вечнозелёное дерево, типичное для Австралии. Из листьев получают масло, применяемое в медицине.	Эвкалипт +
2	Название этого травянистого растения в переводе с китайского языка означает «корень жизни», «человек-корень». Препараты из корня – тонизирующее средство.	женьшень +
3	Многолетняя трава, относящаяся к злаковым и распространённая в степях.	ковыль +
4	Древесное или кустарниковое растение пустынь Азии, хороший закрепитель песков. Зелёные веточки – корм для верблюдов и овец.	саксаул +
5	Вечнозелёное хвойное дерево прибрежных лесов Северной Америки, высотой более 100 м.	маньчжурский орех секвойя + 4/5
6	Хвойное дерево с твёрдой прочной древесиной. Осенью хвоя опадает. Самое распространённое дерево в России.	лиственница +
7	Водное растение Южной Америки. Листья с загнутыми краями диаметром до 2 м выдерживают груз до 50 кг.	виктория +
8	Дерево в Северном Китае, Корее, в России – в Приморье и Приамурье. Плоды используют в кондитерской промышленности.	раффлезия

9	Вечнозелёное дерево родом из тропической Америки, источник натурального каучука.	белладула
10	Вечнозелёное хвойное дерево. Считается национальным символом Японии.	кедр



А) каштановый орех

Б) кроталея

Задание 5. (16 баллов)

1. В каждом из двух списков найдите и выпишите по 7 понятий (это элементы духовной и материальной культуры, имена, представители органического мира и т.п.), относящихся к одной стране. Определите страны.

1) Сари, хинди, Тадж-Махал, птица киви, Рабиндранат Тагор, рупия, Хоккайдо, «Махабхарата», гора Кука, Махатма Ганди, кимоно, Акира Куросава

Сари, хинди, Тадж-Махал, рупия, «Махабхарата»,
гора Кука, Махатма Ганди, Рабиндранат Тагор
 Страна Индия + 4,5 + +

2) Суоми, маори, Хельсинки, Лапландия, Веллингтон, Ян Сибелиус, иена, саамы, гаттерия, «Калевала», Инариярви, хокку

Суоми, маори, Ян Сибелиус, иена, «Калевала», саамы
Инариярви, хокку, Хельсинки, Лапландия, гаттерия
 Страна Финляндия + 4, + +

2. Слова, оставшиеся в обоих списках, объедините, а затем разделите на две группы и укажите названия островных государств, с которыми эти понятия связаны.

1) Веллингтон, птица киви, гора Кука, маори
 Островное государство Новая Зеландия

2) 2,5
115.

Кимарю, Акира Курасава, шема, сокку, Суами
 Островное государство Япония

Тестовый тур

На каждый вопрос даны четыре варианта ответов.

Выберите только один правильный и внесите его в матрицу ответов.

Максимально 16 баллов, по 1 баллу за каждый правильный ответ.

1. Выберите верное утверждение:

- а) Российский участок Вислинской косы называют Балтийской косой.
- б) Балтийская коса длиннее Куршской косы.
- в) На Балтийской косе нет дюн.
- г) Российский участок Вислинской косы называют Куршской косой.

2. Выберите верное утверждение о реке Неман:

- а) Река Шешупе является притоком Немана.
- б) Неман впадает в Калининградский залив.
- в) Исток Немана находится в Калининградской области.
- г) На Немане расположен город Черняховск.

3. В Южной Америке расположено государство:

- а) ЮАР
- б) Ботсвана
- в) Ливия
- г) Боливия

4. Муссонные дожди часто вызывают наводнения на реке:

- а) Енисей
- б) Хуанхэ
- в) Дунай
- г) Тигр

5. Какой стране принадлежат Канарские острова?

- а) Марокко
- б) Португалия
- в) Алжир
- г) Испания

6. Какой остров раньше носил название Цейлон?

- а) Сахалин
- б) Исландия
- в) Шри-Ланка
- г) Хоккайдо

7. Как называется столица Канады?

- а) Монреаль
- б) Квебек
- в) Ванкувер
- г) Оттава

8. Выберите город с наибольшей численностью населения:

- а) Саратов
- б) Самара
- в) Сыктывкар
- г) Салехард

9. Как называется высшая точка Уральских гор?

- а) Победа
- б) Казбек
- в) Народная
- г) Белуха

10. Если годовое количество осадков составляет 700 мм, а испаряемость – 300 мм, каким является увлажнение?

- а) избыточное б) недостаточное в) достаточное г) скудное

11. Для какой природной зоны характерны каштановые почвы?

- а) лесостепь б) тайга
в) широколиственные леса г) сухая степь

12. Как называется возвышенность, на которой берёт начало Днепр?

- а) Приволжская б) Смоленско-Московская
в) Среднерусская г) Валдайская

13. Выберите верное утверждение:

- а) Верхоянский хребет относится к эпохе мезозойской складчатости.
б) Кавказ относится к эпохе герцинской складчатости.
в) Алтай относится к эпохе кайнозойской складчатости.
г) Уральские горы относятся к эпохе каледонской складчатости.

14. Какой географический объект на карте России расположен восточнее других?

- а) Сихотэ-Алинь б) Яблонный хребет
в) Восточный Саян г) Северные Увалы

15. На территории какого субъекта РФ находится Уссурийский заповедник?

- а) Магаданская область б) Хабаровский край
в) Приморский край г) Амурская область

16. Выберите наиболее ранний период геологической истории Земли:

- а) кембрийский б) силурийский в) меловой г) пермский

Матрица для записи ответов

1	2	3	4	5	6	7	8	9	10
a	a	z	b	z + b		z	b	b + a	a + z

11	12	13	14	15	16
b	b	b	b	b	a

105

3/7/08/12 / 7 лет / 10 = 408.

Шифр
17-09-05

Всероссийская олимпиада школьников по географии. 2023-2024 учебный год.

Школьный этап. 9 класс

Начинать работу можно с любого задания, однако, мы рекомендуем выполнять задания в том порядке, в котором они даны. Если какое-то задание вызывает у вас затруднение, пропустите его и постарайтесь выполнить те, в ответах на которые вы уверены. К пропущенным заданиям можно будет вернуться, если у вас останется время.

Общее время выполнения работы - 135 минут

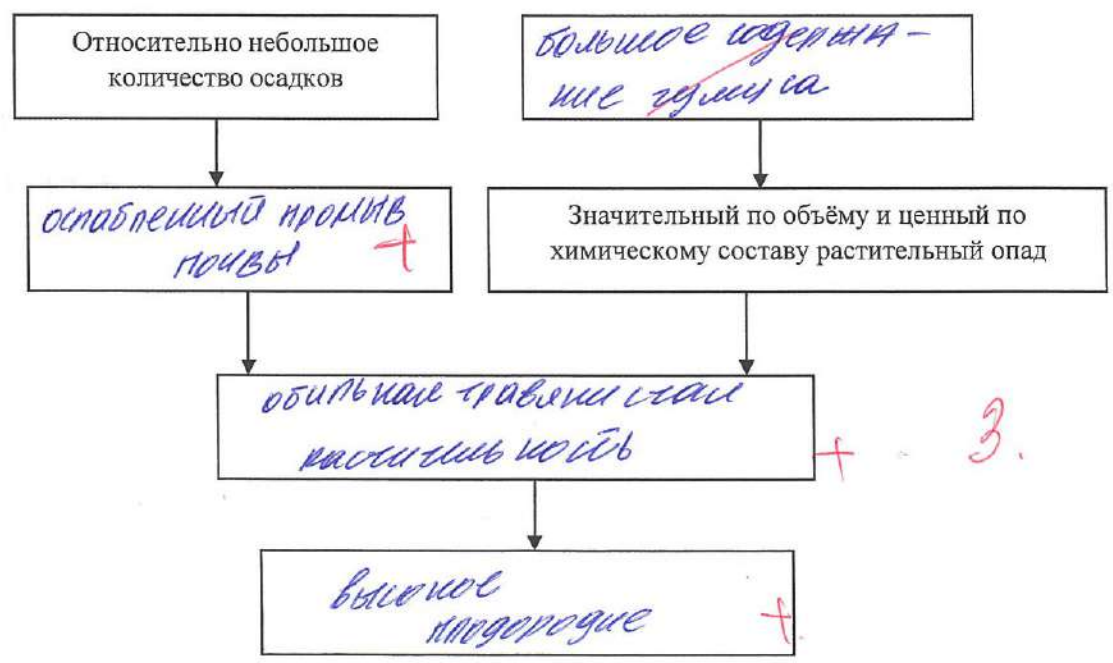
Максимальная сумма баллов – 64

Во время выполнения заданий не допускается использование атласов и других источников информации.

Теоретический тур

Задание 1. (4 балла)

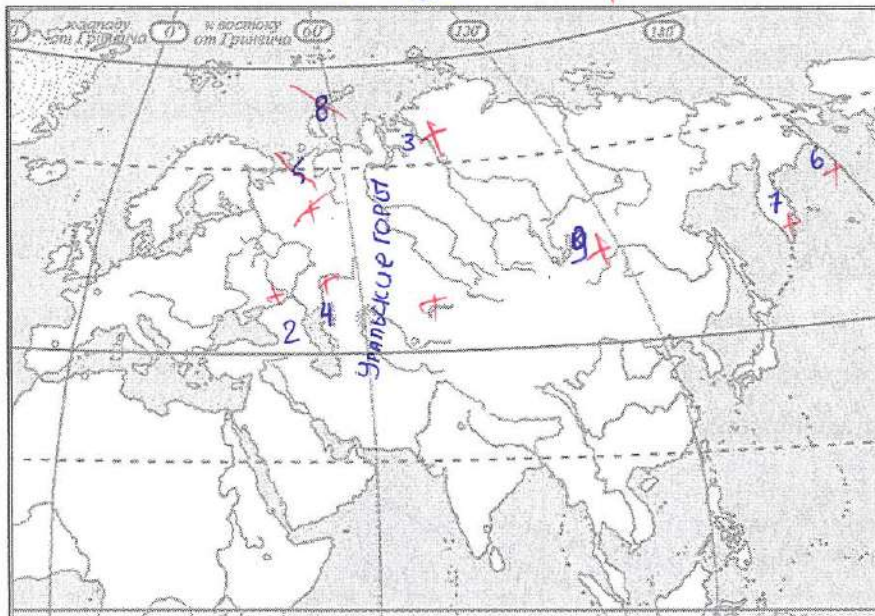
Дополните схему, объясняющую причины высокого естественного плодородия чернозёмов. В рамках разместите следующие словосочетания: большое содержание гумуса; высокое плодородие, ослабленный промыв почвы; обильная травянистая растительность.



Задание 2. (10 баллов)

Вспомните природные рекорды России. На контурной карте Евразии надпишите названия географических объектов-рекордсменов России:

- самой длинной горной системы 2 - Большой Кавказ
- самой высокой горной системы (можно обозначить цифрой и расшифровать) 2 - Большой Кавказ
- самой длинной реки, бассейн которой полностью находится в России 3 - Обь, р. Обь
- самой многоводной реки 4 - Волга
- крупнейшего полуострова 5 - п-ов Таймыр
- самого большого и глубокого моря у берегов России 6 - Берингово море
- самого высокого действующего вулкана 7 - Ключевая Сопка
- крупнейшего острова 0. Новая Земля
- самого глубокого озера 9 - оз. Байкал



$$65 - 1 = 75$$

Эльбрус

Как называется высшая точка самой высокой горной системы России? Эльбрус

Задание 3. (6 баллов)

Ниже перечислены утверждения об одной из частей света. Определите, о какой части света идёт речь, и укажите номера двух лишних утверждений. К каким частям света относятся лишние утверждения? Назовите пункт, о котором говорится в утверждении № 6.

1. В этой части света обитает большая панда.
2. В этой части света занимался исследованиями Н.М.Пржевальский.
3. В этой части света находится мыс Рока.
4. В этой части света обитает страус нанду.

5. В этой части света самая высокая численность населения. *

6. В этой части света находится пункт, где отмечено максимальное количество осадков на Земле.

7. В этой части света находится отметка высоты 8848 м.

Часть света ВОСТОК

Лишнее утверждение: номер 2 часть света север

Лишнее утверждение: номер 4 часть света юг

Пункт юг Амазонская низина


08.

Задание 4. (12 баллов)

1) Дополните таблицу, выбрав названия растений из списка: секвойя, вельвичия, виктория, раффлезия, лиственница, эвкалипт, саксаул, ковыль, криптомерия, женьшень, маньчжурский орех, гевея. Названия растений, не включённых в таблицу, подпишите под фотографиями.

№	Некоторые особенности растений	Названия растений
1	Вечнозелёное дерево, типичное для Австралии. Из листьев получают масло, применяемое в медицине.	ЭВКАЛИПТ +
2	Название этого травянистого растения в переводе с китайского языка означает «корень жизни», «человек-корень». Препараты из корня – тонизирующее средство.	ЖЕНЬШЕНЬ +
3	Многолетняя трава, относящаяся к злаковым и распространённая в степях.	КОВЫЛЬ +
4	Древесное или кустарниковое растение пустынь Азии, хороший закрепитель песков. Зелёные веточки – корм для верблюдов и овец.	САКСАУЛ +
5	Вечнозелёное хвойное дерево прибрежных лесов Северной Америки, высотой более 100 м.	ГЕВЕЯ СЕКВОЙЯ +
6	Хвойное дерево с твёрдой прочной древесиной. Осенью хвоя опадает. Самое распространённое дерево в России.	ЛИСТВЕНИЦА +
7	Водное растение Южной Америки. Листья с загнутыми краями диаметром до 2 м выдерживают груз до 50 кг.	ГЕВЕЯ +
8	Дерево в Северном Китае, Корее, в России – в Приморье и Приамурье. Плоды используют в кондитерской промышленности.	МАНЬЧЖУРСКИЙ ОРЕХ +

9	Вечнозелёное дерево родом из тропической Америки, источник натурального каучука.	СЕКВОЙА РАСФЛЕЗИЯ
10	Вечнозелёное хвойное дерево. Считается национальным символом Японии.	ГЕВЕЯ



85.

А) Виктория

Б) Вельвичия +

Задание 5. (16 баллов)

1. В каждом из двух списков найдите и выпишите по 7 понятий (это элементы духовной и материальной культуры, имена, представители органического мира и т.п.), относящихся к одной стране. Определите страны.

1) Сари, хинди, Тадж-Махал, птица киви, Рабиндранат Тагор, рупия, Хоккайдо, «Махабхарата», гора Кука, Махатма Ганди, кимоно, Акира Куросава

Тадж-Махал, Махатма Ганди, Акира Куросава;
«Махабхарата», Сари, хинди, сари, хинди, рупия +

Страна Индия + 1

45.

2) Суоми, маори, Хельсинки, Лапландия, Веллингтон, Ян Сибелиус, иена, саамы, гаттерия, «Калевала», Инариярви, хокку

Хельсинки, Лапландия, саамы, гаттерия, Ян Сибелиус;
«Калевала», Инариярви +

Страна Финляндия + 1

45

2. Слова, оставшиеся в обоих списках, объедините, а затем разделите на две группы и укажите названия островных государств, с которыми эти понятия связаны.

1) Птица киви, Рабиндранат Тагор, иена, гора Кука
Островное государство Австралия Новая Зеландия +

2)

15

95

~~Киншоко, суши, маоры, хоккеку, Хоккайдо~~
Островное государство Япония 30

Тестовый тур

На каждый вопрос даны четыре варианта ответов.

Выберите только один правильный и внесите его в матрицу ответов.

Максимально 16 баллов, по 1 баллу за каждый правильный ответ.

1. Выберите верное утверждение:

- а) Российский участок Вислинской косы называют Балтийской косой.
- б) Балтийская коса длиннее Куршской косы.
- в) На Балтийской косе нет дюн.
- г) Российский участок Вислинской косы называют Куршской косой.

2. Выберите верное утверждение о реке Неман:

- а) Река Шешупе является притоком Немана.
- б) Неман впадает в Калининградский залив.
- в) Исток Немана находится в Калининградской области.
- г) На Немане расположен город Черняховск.

3. В Южной Америке расположено государство:

- а) ЮАР
- б) Ботсвана
- в) Ливия
- г) Боливия

4. Муссонные дожди часто вызывают наводнения на реке:

- а) Енисей
- б) Хуанхэ
- в) Дунай
- г) Тигр

5. Какой стране принадлежат Канарские острова?

- а) Марокко
- б) Португалия
- в) Алжир
- г) Испания

6. Какой остров раньше носил название Цейлон?

- а) Сахалин
- б) Исландия
- в) Шри-Ланка
- г) Хоккайдо

7. Как называется столица Канады?

- а) Монреаль
- б) Квебек
- в) Ванкувер
- г) Оттава

8. Выберите город с наибольшей численностью населения:

- а) Саратов
- б) Самара
- в) Сыктывкар
- г) Салехард

9. Как называется высшая точка Уральских гор?

- а) Победа
- б) Казбек
- в) Народная
- г) Белуха

10. Если годовое количество осадков составляет 700 мм, а испаряемость – 300 мм, каким является увлажнение?

- а) избыточное б) недостаточное в) достаточное г) скудное

11. Для какой природной зоны характерны каштановые почвы?

- а) лесостепь б) тайга
в) широколиственные леса г) сухая степь

12. Как называется возвышенность, на которой берёт начало Днепр?

- а) Приволжская б) Смоленско-Московская
в) Среднерусская г) Валдайская

13. Выберите верное утверждение:

- а) Верхоянский хребет относится к эпохе мезозойской складчатости.
б) Кавказ относится к эпохе герцинской складчатости.
в) Алтай относится к эпохе кайнозойской складчатости.
г) Уральские горы относятся к эпохе каледонской складчатости.

14. Какой географический объект на карте России расположен восточнее других?

- а) Сихотэ-Алинь б) Яблонный хребет
в) Восточный Саян г) Северные Увалы

15. На территории какого субъекта РФ находится Уссурийский заповедник?

- а) Магаданская область б) Хабаровский край
в) Приморский край г) Амурская область

16. Выберите наиболее ранний период геологической истории Земли:

- а) кембрийский б) силурийский в) меловой г) пермский

Матрица для записи ответов

1	2	3	4	5	6	7	8	9	10
Г	Б	Г + Б	Б + А	А	Б + Г	Г + Б	Б + В	В + Б	В

11	12	13	14	15	16
Г + В	В	А + А	А + В	В + В	В

105

Шифр

Г-09-07

1/8/0/9/10/10 => 380

Всероссийская олимпиада школьников по географии. 2023-2024 учебный год.

Школьный этап. 9 класс

Начинать работу можно с любого задания, однако, мы рекомендуем выполнять задания в том порядке, в котором они даны. Если какое-то задание вызывает у вас затруднение, пропустите его и постарайтесь выполнить те, в ответах на которые вы уверены. К пропущенным заданиям можно будет вернуться, если у вас останется время.

Общее время выполнения работы - 135 минут

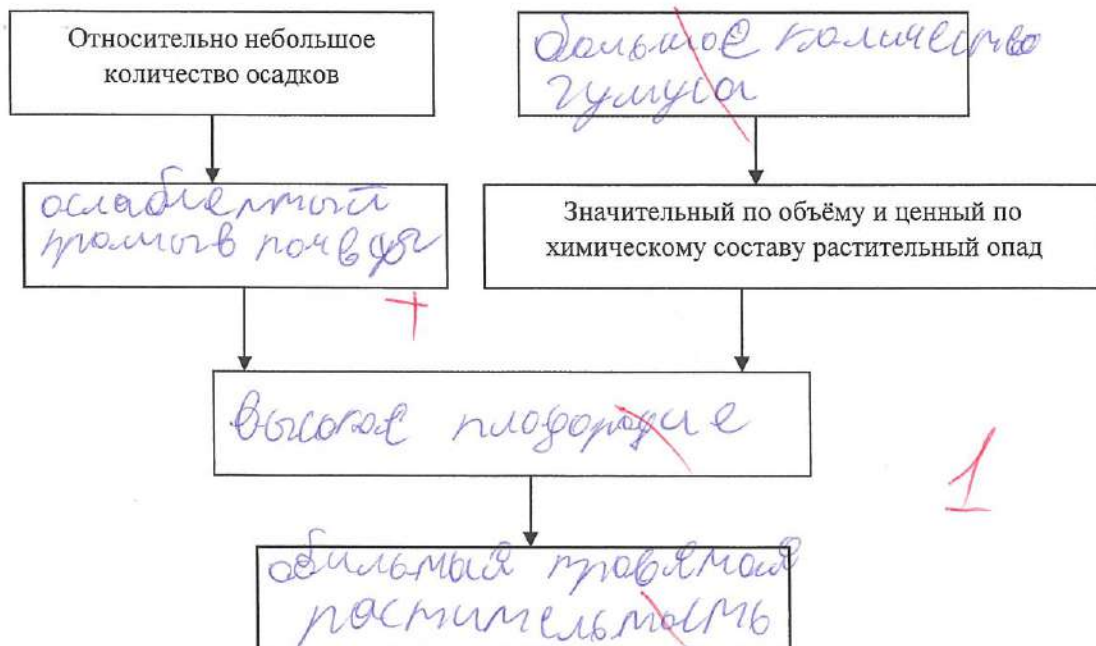
Максимальная сумма баллов – 64

Во время выполнения заданий не допускается использование атласов и других источников информации.

Теоретический тур

Задание 1. (4 балла)

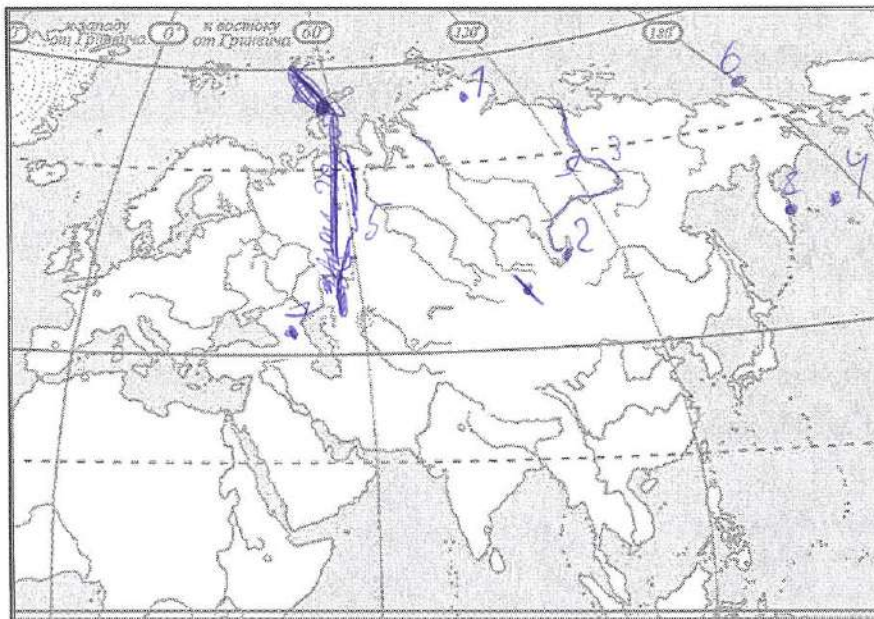
Дополните схему, объясняющую причины высокого естественного плодородия чернозёмов. В рамках разместите следующие словосочетания: большое содержание гумуса; высокое плодородие, ослабленный промыв почвы; обильная травянистая растительность.



Задание 2 (10 баллов)

Вспомните природные рекорды России. На контурной карте Евразии надпишите названия географических объектов-рекордсменов России:

- самой длинной горной системы
- самой высокой горной системы (можно обозначить цифрой и расшифровать)
- самой длинной реки, бассейн которой полностью находится в России
- самой многоводной реки
- крупнейшего полуострова
- самого большого и глубокого моря у берегов России
- самого высокого действующего вулкана
- крупнейшего острова
- самого глубокого озера



- 1 - п - об Таймор
 - 2 - Байкал
 - 3 - река Лена
 - 4 - Берингово море
 - 5 - уральские горы
 - 6 - ~~побережье озера Байкал~~
 - 7 - Боиспей Кавказа
 - 8 - Ключевская
 - 9 - река Лена
- 20 Зибрус


Как называется высшая точка самой высокой горной системы России? 20 Зибрус

Задание 3. (6 баллов)

Ниже перечислены утверждения об одной из частей света. Определите, о какой части света идёт речь, и укажите номера двух лишних утверждений. К каким частям света относятся лишние утверждения? Назовите пункт, о котором говорится в утверждении № 6.

1. В этой части света обитает большая панда.
2. В этой части света занимался исследованиями Н.М.Пржевальский.
3. В этой части света находится мыс Рока.
4. В этой части света обитает страус нанду.

9	Вечнозелёное дерево родом из тропической Америки, источник натурального каучука.	вукерайя
10	Вечнозелёное хвойное дерево. Считается национальным символом Японии.	зеленя



95.

А) пафлагония +

Б) вельвичия +

Задание 5. (16 баллов)

1. В каждом из двух списков найдите и выпишите по 7 понятий (это элементы духовной и материальной культуры, имена, представители органического мира и т.п.), относящихся к одной стране. Определите страны.

1) Сари, хинди, Тадж-Махал, птица киви, Рабиндранат Тагор, рупия, Хоккайдо, «Махабхарата», гора Кука, Махатма Ганди, кимоно, Акира Куросава

Тагор - Махал + 0,5

Страна _____

2) Суоми, маори, Хельсинки, Лапландия, Веллингтон, Ян Сибелиус, иена, саамы, гаттерия, «Калевала», Инариярви, хокку

Страна _____

2. Слова, оставшиеся в обоих списках, объедините, а затем разделите на две группы и укажите названия островных государств, с которыми эти понятия связаны.

1)

Островное государство _____

2)

1'-09-07

5. В этой части света самая высокая численность населения.

6. В этой части света находится пункт, где отмечено максимальное количество осадков на Земле.

7. В этой части света находится отметка высоты 8848 м.

Часть света ~~Восток~~

Лишнее утверждение: номер 4 часть света ЮЗ

Лишнее утверждение: номер 2 часть света Запад

Пункт 2. Джомолунгма (Эверест)

Задание 4. (12 баллов)

1) Дополните таблицу, выбрав названия растений из списка: секвойя, вельвичия, виктория, раффлезия, лиственница, эвкалипт, саксаул, ковыль, криптомерия, женьшень, маньчжурский орех, гевея. Названия растений, не включённых в таблицу, подпишите под фотографиями.

№	Некоторые особенности растений	Названия растений
1	Вечнозелёное дерево, типичное для Австралии. Из листьев получают масло, применяемое в медицине.	Евкалипт +
2	Название этого травянистого растения в переводе с китайского языка означает «корень жизни», «человек-корень». Препараты из корня – тонизирующее средство.	Женьшень +
3	Многолетняя трава, относящаяся к злаковым и распространённая в степях.	Ковыль +
4	Древесное или кустарниковое растение пустынь Азии, хороший закрепитель песков. Зелёные веточки – корм для верблюдов и овец.	Саксаул Саксаул +
5	Вечнозелёное хвойное дерево прибрежных лесов Северной Америки, высотой более 100 м.	Секвойя +
6	Хвойное дерево с твёрдой прочной древесиной. Осенью хвоя опадает. Самое распространённое дерево в России.	Лиственница +
7	Водное растение Южной Америки. Листья с загнутыми краями диаметром до 2 м выдерживают груз до 50 кг.	Криптомерия +
8	Дерево в Северном Китае, Корее, в России – в Приморье и Приамурье. Плоды используют в кондитерской промышленности.	Маньчжурский орех +

Островное государство _____

Тестовый тур

На каждый вопрос даны четыре варианта ответов.

Выберите только один правильный и внесите его в матрицу ответов.

Максимально 16 баллов, по 1 баллу за каждый правильный ответ.

1. Выберите верное утверждение:

- а) Российский участок Вислинской косы называют Балтийской косой.
- б) Балтийская коса длиннее Куршской косы.
- в) На Балтийской косе нет дюн.
- г) Российский участок Вислинской косы называют Куршской косой.

2. Выберите верное утверждение о реке Неман:

- а) Река Шешупе является притоком Немана.
- б) Неман впадает в Калининградский залив.
- в) Исток Немана находится в Калининградской области.
- г) На Немане расположен город Черняховск.

3. В Южной Америке расположено государство:

- а) ЮАР
- б) Ботсвана
- в) Ливия
- г) Боливия

4. Муссонные дожди часто вызывают наводнения на реке:

- а) Енисей
- б) Хуанхэ
- в) Дунай
- г) Тигр

5. Какой стране принадлежат Канарские острова?

- а) Марокко
- б) Португалия
- в) Алжир
- г) Испания

6. Какой остров раньше носил название Цейлон?

- а) Сахалин
- б) Исландия
- в) Шри-Ланка
- г) Хоккайдо

7. Как называется столица Канады?

- а) Монреаль
- б) Квебек
- в) Ванкувер
- г) Оттава

8. Выберите город с наибольшей численностью населения:

- а) Саратов
- б) Самара
- в) Сыктывкар
- г) Салехард

9. Как называется высшая точка Уральских гор?

- а) Победа
- б) Казбек
- в) Народная
- г) Белуха

10. Если годовое количество осадков составляет 700 мм, а испаряемость – 300 мм, каким является увлажнение?

- а) избыточное б) недостаточное **в) достаточное** г) скудное

11. Для какой природной зоны характерны каштановые почвы?

- а) лесостепь б) тайга
в) широколиственные леса г) сухая степь

12. Как называется возвышенность, на которой берёт начало Днепр?

- а) Приволжская б) Смоленско-Московская
 в) Среднерусская **г) Валдайская**

13. Выберите верное утверждение:

- а) Верхоянский хребет относится к эпохе мезозойской складчатости.**
 б) Кавказ относится к эпохе герцинской складчатости.
 в) Алтай относится к эпохе кайнозойской складчатости.
 г) Уральские горы относятся к эпохе каледонской складчатости.

14. Какой географический объект на карте России расположен восточнее других?

- а) Сихотэ-Алинь б) Яблонный хребет
 в) Восточный Саян **г) Северные Увалы**

15. На территории какого субъекта РФ находится Уссурийский заповедник?

- а) Магаданская область б) Хабаровский край
 в) Приморский край **г) Амурская область**

16. Выберите наиболее ранний период геологической истории Земли:

- а) кембрийский** б) силурийский в) меловой г) пермский

Матрица для записи ответов

1	2	3	4	5	6	7	8	9	10
а	а+	з+	б+	з+	а	з+	б+	б+	а
11	12	13	14	15	16	10			
а	з+	а+	а	а	а+				